

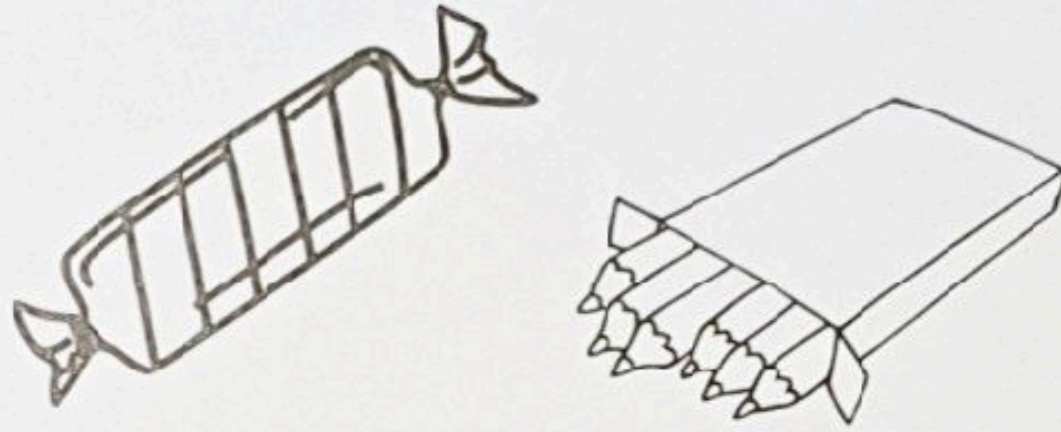
ریاضی سوم ابتدایی

مرور فصل دو

۴۶- زهرا ۶۰۰۰ تومان پول داشت او ۱۵۰۰ تومان یک شکلات و

۳۲۰۰ تومان یک بسته‌ی مداد رنگی خرید. او چند تومان خرج کرده و


چند تومان برایش باقی مانده است؟



۴۷- گسترده‌ی هر یک از اعداد را بنویسید.




۴۸- به عدد و حروف بنویسید.

در قلب خانم دارابی جاواری. 

|      |                        |      |
|------|------------------------|------|
| ۹۰۶۸ |                        | ۴۳۵۸ |
|      | شش هزار و پانزده       |      |
| ۵۳۰۶ |                        | ۳۰۰۵ |
|      | هفت هزار و سیصد و بیست |      |

۴۹- جاهای خالی را کامل کنید.



ریاضی سوم ابتدایی  
مرور فصل دو

❖ ۲۹۴۸ یعنی ..... هزار تایی و ..... صدتایی و ..... ده تایی و ..... یکی

❖ ۳۷۲۰ گرم یعنی ..... کیلوگرم و ..... گرم

❖ ..... تا صد متر می شود ۱۷۰۰ متر

۵۰- تمام عددهای سه رقمی که رقم صدگان آن ۳ یا ۷ و رقم دهگان آن ۲ یا ۶ و رقم یکان آنها ۰ باشد را بنویسید.

۵۱- با رقم های ۵، ۰، ۴، ۷ بزرگترین و کوچکترین عدد چهار رقمی را بنویسید.

کوچکترین

بزرگترین

