



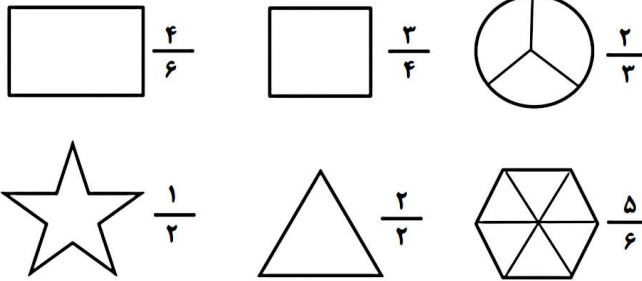
موضوع:

تاریخ:

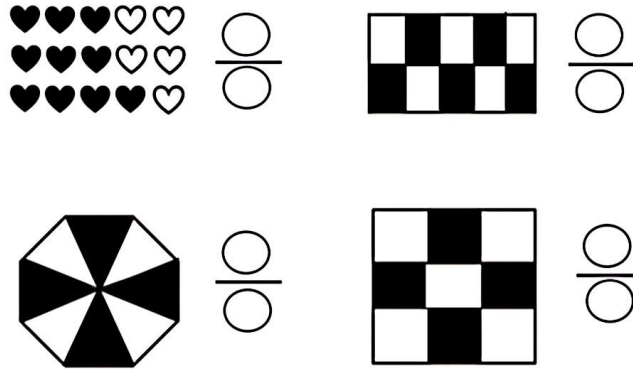
نام و نام خانوادگی:

هدف:

۴- از هر شکل به اندازه ی کسر نوشته شده رنگ کنید.



۵- برای هر شکل یک کسر مناسب بنویسید.



۳۳

۶- هر یک از شکل های زیر چه عددی را نشان می دهد؟



..... واحد و از یک واحد رنگ شده است.



..... واحد و از یک واحد رنگ شده است.



..... واحد و از یک واحد رنگ شده است.



..... واحد و از یک واحد رنگ شده است.





نام و نام خانوادگی: _____ تاریخ: _____ موضوع: _____

هدف: _____

جدول تقسیم های زیر را کامل کنید.

| | |
|----------|--|
| $\div 8$ | |
| ۶۴ | |
| ۴۰ | |
| ۵۶ | |
| ۴۸ | |
| ۷۲ | |
| ۳۲ | |
| ۲۴ | |

| | |
|----------|--|
| $\div 7$ | |
| ۶۳ | |
| ۴۹ | |
| ۳۵ | |
| ۲۱ | |
| ۴۹ | |
| ۲۸ | |
| ۱۴ | |
| ۷۰ | |
| ۲۱ | |
| ۵۶ | |
| ۷ | |

| | |
|----------|--|
| $\div 6$ | |
| ۱۸ | |
| ۳۰ | |
| ۶۴ | |
| ۳۶ | |
| ۴۸ | |
| ۵۴ | |
| ۳۰ | |
| ۴۲ | |
| ۶۰ | |
| ۶ | |
| ۲۴ | |



برای هر ضرب داده شده ۲ تقسیم بنویسید.

$6 \times 7 = 42$

$4 \times 8 = 32$

$6 \times 9 = 54$

$8 \times 6 = 48$

$4 \times 7 = 28$

$9 \times 4 = 36$











موضوع:

تاریخ:

نام و نام خانوادگی:





هدف:

- دانش آموز عزیزم محیط شکل های زیر را با استفاده از روش ضرب و جمع پیدا کنید.

| | |
|---|---|
| <p>۸ سانتی متر</p>  <p>روش ضرب:</p> <p>روش جمع:</p> | <p>۹ سانتی متر</p>  <p>روش ضرب:</p> <p>روش جمع:</p> |
| <p>۴ سانتی متر</p>  <p>روش ضرب:</p> <p>روش جمع:</p> | <p>۳ سانتی متر</p>  <p>روش ضرب:</p> <p>روش جمع:</p> |
| <p>۷ سانتی متر</p>  <p>روش ضرب:</p> <p>روش جمع:</p> | <p>۶ سانتی متر</p>  <p>روش ضرب:</p> <p>روش جمع:</p> |

- دانش آموز عزیزم محیط مستطیل های زیر را با استفاده از فرمول پیدا کنید.

فرمول محیط مستطیل: $2 \times (\text{عرض} + \text{طول})$ - در مستطیل درازا همان طول و پهنا همان عرض است.

| | |
|---|----------------------------|
| <p>۶ سانتی متر</p>  <p>۳ سانتی متر</p> | <p>فرمول:</p> <p>محیط:</p> |
| <p>۹ سانتی متر</p>  <p>۱ سانتی متر</p> | <p>فرمول:</p> <p>محیط:</p> |
| <p>۳ سانتی متر</p>  <p>۸ سانتی متر</p> | <p>فرمول:</p> <p>محیط:</p> |
| <p>۵ سانتی متر</p>  <p>۱ سانتی متر</p> | <p>فرمول:</p> <p>محیط:</p> |

