



موضوع:

تاریخ:

نام و نام خانوادگی:

هدف:

۷- تساوی هر ضرب را به روش های خواسته شده به دست آورید.

با رسم محور: $6 \times 8 = \dots\dots\dots$	با شمارش چندتاچندتا: $6 \times 9 = \dots\dots\dots$
با رسم شکل: $9 \times 7 = \dots\dots\dots$	با نوشتن جمع: $8 \times 8 = \dots\dots\dots$

۸- اگر امروز یکشنبه ۳ مهرماه باشد . تا آخر مهرماه دوشنبه ها چه تاریخ هایی دارد؟

۹- امیر ۸ سال دارد. پدرش از ۴ برابر سن او ۶ سال بیشتر دارد. پدر امیر چند سال دارد؟

۱۰- جاهای خالی را کامل کنید.

$$4 \times 7 = (2 \times 7) + (2 \times 7) = \dots\dots\dots + \dots\dots\dots = \dots\dots\dots$$

$$8 \times 4 = (\dots\dots \times 4) + (4 \times \dots\dots) = \dots\dots\dots + \dots\dots\dots = \dots\dots\dots$$

$$\dots\dots \times 9 = (4 \times \dots\dots) + (5 \times \dots\dots) = \dots\dots\dots + \dots\dots\dots = \dots\dots\dots$$

$$14 \times \dots\dots = (3 \times \dots\dots) + (\dots\dots \times 8) = \dots\dots\dots + \dots\dots\dots = \dots\dots\dots$$

۱۱- ابتدا عبارت های داخل پرانتز را حل کنید و سپس پاسخ نهایی را به دست آورید.

$$(7 \times 4) + (27 \div 3) = \dots\dots\dots + \dots\dots\dots = \dots\dots\dots \quad (14 \times 9) + (28 \div 7) = \dots\dots\dots + \dots\dots\dots = \dots\dots\dots$$

$$(14 \times 7) + (14 \div 4) = \dots\dots\dots + \dots\dots\dots = \dots\dots\dots \quad (8 \times 4) + (72 \div 9) = \dots\dots\dots + \dots\dots\dots = \dots\dots\dots$$



موضوع:

تاریخ:

نام و نام خانوادگی:

هدف:

۱- ویدا، آراد و آیدا ۱۲ سیب داشتند. آن‌ها می‌خواستند بسته‌های ۴ تایی درست کنند. آن‌ها چند بسته درست می‌کنند؟ (با رسم شکل)

۲- در \bigcirc علامت $>$ $=$ $<$ قرار دهید.

$7 \times 6 \bigcirc 6 \times 4$

$9 \times 7 \bigcirc 8 \times 8$

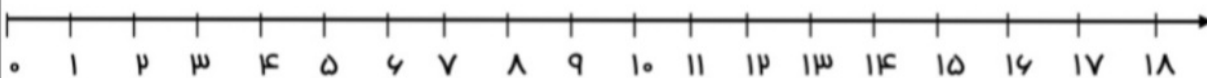
$3 \times 6 \bigcirc 7 \times 3$

$7 \times 4 \bigcirc 8 \times 6$

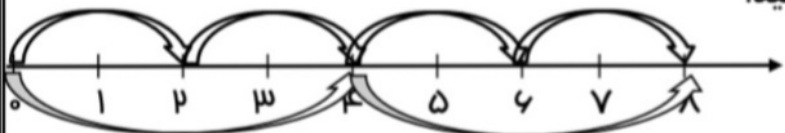
$6 \times 3 \bigcirc 2 \times 7$

$8 \times 9 \bigcirc 7 \times 7$

۳- تساوی ضرب $3 \times 6 = 6 \times 3$ را روی محور نشان دهید.



۴- با توجه به محور جاهای خالی را پر کنید.



$\bigcirc \times \bigcirc = \bigcirc \times \bigcirc$

۵- مادر علی خیاط است. او ۶ دست لباس می‌دوزد و به هر کدام ۷ دکمه می‌دوزد. تعداد دکمه‌ها چند تا است؟

۶- صبا روزی ۹ صفحه از کتابش را می‌خواند. او در یک هفته چند صفحه از کتابش را می‌خواند؟





موضوع:

تاریخ

نام و نام خانوادگی

هدف:


تاریخ:/...../۱۴...

به نام خدا

نام و نام خانوادگی:

کاربرگ فصل چهارم ضرب و تقسیم (حل مسئله ی ضرب)

۱- مادر زهرا ۶ مرغ دارد که هر مرغ روزانه ۳ تخم میگذارد. حساب کنید او در یک هفته چند تخم مرغ جمع می کند؟



۲- سارا به ۶ تا از دوستانش یک دسته گل داد. اگر در هر دسته گل ۷ شاخه گل وجود داشته باشد . سارا چند شاخه گل خریده است؟

۳- در ۵ جعبه ی ۳ تایی دفتر و ۴ جعبه ی ۲ تایی دفتر ، روی هم چند دفتر وجود دارد؟

۴- اگر محمد ۴ جعبه ی ۹ تایی مداد رنگی داشته باشد ، او چند مداد رنگی دارد؟

۵- علی میخواهد به ۴ نفر از دوستان خود شکلات بدهد . اگر او به هر کدام از آنها ۸ شکلات بدهد. علی باید چند شکلات بخرد؟





نام و نام خانوادگی: _____ تاریخ: _____ موضوع: _____ هدف: _____

۱- با توجه به علامت ها ، کسر ها را در جای خالی بنویسید.

$$\frac{8}{9}, \frac{6}{9}, \frac{1}{9}, \frac{5}{9} \quad \dots > \dots > \dots > \dots$$

$$\frac{3}{7}, \frac{3}{5}, \frac{3}{9}, \frac{3}{4} \quad \dots < \dots < \dots < \dots$$

۲- در جای خالی علامت < = > قرار دهید.

$\frac{2}{3} \bigcirc \frac{2}{6}$	$\frac{5}{8} \bigcirc \frac{4}{8}$	$\frac{3}{9} \bigcirc \frac{7}{9}$
$\frac{9}{8} \bigcirc \frac{9}{7}$	$\frac{3}{5} \bigcirc \frac{3}{6}$	$\frac{3}{6} \bigcirc \frac{5}{6}$
$\frac{13}{17} \bigcirc \frac{9}{17}$	$\frac{25}{34} \bigcirc \frac{31}{34}$	$\frac{13}{15} \bigcirc \frac{13}{18}$

بازخورد:

