



نام و نام خانوادگی

تاریخ

موضوع: فصل ششم (جمع و تفریق)

هدف: مرور فصل ششم (جمع و تفریق)

۱) مقایسه کنید.

$$3416 < 3461$$

$$3006 > 2594$$

$$4035 < 4305$$

$$450 + 230 < 690$$

$$150 - 150 > 610 + 50$$

$$20 + 70 = 1400 - 1310$$

۶۸۰

۷۰۰

۶۶۰

۲) الف: با حذف یکان و دهگان عددها را به صورت تقریبی بنویسید.  
ب: حاصل هر عبارت را با عددهای تقریبی به دست آورید.  
ج: حاصل هر عبارت بین کدام دو عدد قرار می گیرد و به کدام نزدیک تر است.

$$\checkmark \quad (7000) \quad 4268 + 3246 \quad (8000)$$

$$4200 + 3200 = 7400$$

$$\checkmark \quad (4000) \quad 9864 - 5462 \quad (5000)$$

$$9800 - 5400 = 4400$$

$$\checkmark \quad (3000) \quad 6997 - 3875 \quad (4000)$$

$$6900 - 3800 = 3100$$

$$(6000) \quad 2365 + 4512 \quad (7000) \quad \checkmark$$

$$2300 + 4500 = 6800$$

۳) جمع و تفریق های زیر را به روش فرآیندی انجام دهید.

$$\begin{array}{r} 8764 \\ - 2634 \\ \hline 6130 \end{array}$$

$$\begin{array}{r} 3923 \\ + 5064 \\ \hline 8987 \end{array}$$

$$\begin{array}{r} 7438 \\ - 6025 \\ \hline 1413 \end{array}$$

$$\begin{array}{r} 3201 \\ + 1357 \\ \hline 4558 \end{array}$$

۴) عددها را از کوچک به بزرگ مرتب کنید.

۳۰۱۰    ۳۰۰۰    ۳۰۳۰    ۳۰۰۷

..... ۳۰۰۰ - ۳۰۰۷ - ۳۰۱۰ - ۳۰۳۰

۱۶۳۱    ۱۳۰۶    ۱۳۶۱    ۱۳۱۶

..... ۱۳۰۶ - ۱۳۱۶ - ۱۳۶۱ - ۱۶۳۱





موضوع: فصل ششم (جمع و تفریق)

تاریخ

نام و نام خانوادگی

هدف: مرور فصل ششم (جمع و تفریق)

۵) جمع و تفریق های زیر را به روش تکنیکی انجام دهید.

$$\begin{array}{r} 699 \\ 700 \\ - 2721 \\ \hline 4279 \end{array}$$

$$\begin{array}{r} 111 \\ 3162 \\ + 1958 \\ \hline 5120 \end{array}$$

$$\begin{array}{r} 610310 \\ 740 \\ - 5205 \\ \hline 1835 \end{array}$$

$$\begin{array}{r} 11 \\ 4875 \\ + 1098 \\ \hline 5973 \end{array}$$

۶) مسئله های زیر را حل کنید.

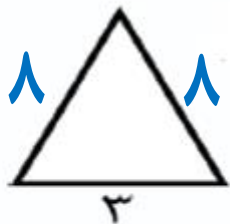
الف: پدر علی زمینی به طول ۷۰ متر و عرض ۴۰ متر دارد و می خواهد دورش نرده بکشد. به چند متر نرده نیاز دارد؟

$$\text{متر } 2 \times (70 + 40) = 2 \times 110 = 220$$

ب: محیط مثلث متساوی الساقین زیر ۱۹ سانتی متر است. اندازه ی هر ساق

$$\boxed{8} + \boxed{8} + 3 = 19$$

آن چند سانتی متر است؟ ۸ سانتی متر



پ: مریم ۲ اسکناس ۲۰۰۰ تومانی و ۳ اسکناس ۵۰۰ تومانی دارد. او ۱۲۰۰ تومان

$$4000 + 1500 = 5500 \text{ تومان}$$

از پولش را خرج می کند. چقدر برایش باقی می ماند؟

$$5500 - 1200 = 4300 \text{ تومان}$$

۴۳۰۰ تومان برایش باقی می ماند.

ت : سامان ۹۰۳۴ جلد کتاب داشت. ۳۸۷۶ جلد آن را به کتابخانه و ۴۳۴۹ جلد آن

$$\begin{array}{r} 3876 \\ + 4349 \\ \hline 8225 \end{array}$$

کتاب هایی که اهدا شده است.

$$\begin{array}{r} 9034 \\ - 8225 \\ \hline 809 \end{array}$$

۸۰۹ جلد کتاب برایش باقی مانده است.

ث: اندازه ی ضلع مثلث متساوی الاضلاع ۸ سانتی متر است. محیط این مثلث چند سانتی متر است؟

$$3 \times 8 = 24$$

س ۲۴

محیط مثلث چند برابر اندازه ی ضلع آن است؟ ۳ برابر

$$24 \div 8 = 3$$

۷) برای جمع و تفریق زیر شکل بکشید.

$$\begin{array}{r} 2447 \\ + 1292 \\ \hline 3739 \end{array}$$

$$\begin{array}{r} 3773 \\ - 1295 \\ \hline \end{array}$$



# ارمغان هفته - سوم دبستان



نام و نام خانوادگی: ..... تاریخ: ..... نام آموزگار: .....

ریاضی < فصل ۸: تقسیم با باقی مانده و محیط اشکال هندسی مطالعات اجتماعی < درس ۲۳: ایمنی در کوچه و خیابان  
علوم < درس ۱۴: از گذشته تا آینده  
فارسی < درس ۱۷: چشم‌های آسمان  
هدیه‌های آسمان < درس ۲۰: باغ همیشه بهار  
قرآن < انس با قرآن کریم

## ریاضی

۱ تقسیم‌های زیر را حل کنید.

$$\begin{array}{r} 59 \overline{) 7} \\ - 56 \phantom{0} \\ \hline 3 \phantom{0} \end{array}$$

$$\begin{array}{r} 66 \overline{) 9} \\ - 63 \phantom{0} \\ \hline 3 \phantom{0} \end{array}$$

۲ باقی مانده‌ی کدام یک از تقسیم‌های زیر صفر می‌باشد؟

✓

$$\begin{array}{r} 45 \overline{) 9} \\ - 45 \phantom{0} \\ \hline 0 \end{array}$$

$$\begin{array}{r} 37 \overline{) 6} \\ - 36 \phantom{0} \\ \hline 1 \phantom{0} \end{array}$$

$$\begin{array}{r} 51 \overline{) 8} \\ - 48 \phantom{0} \\ \hline 3 \phantom{0} \end{array}$$

$$\begin{array}{r} 42 \overline{) 7} \\ - 42 \phantom{0} \\ \hline 0 \end{array}$$

✓

$$\begin{array}{r}
 10 + 2 \\
 \times 12 \\
 \quad 7 \\
 \hline
 70 \\
 + 14 \\
 \hline
 84
 \end{array}$$

می خواهیم ۷ کیسه ی ۱۲ کیلویی برنج را بین ۹ خانواده به طور مساوی تقسیم کنیم. به هر خانواده چند کیلو برنج می رسد و چقدر

برنج باقی می ماند؟ به هر خانواده

$$\begin{array}{r}
 9 \overline{) 84} \\
 \underline{- 81} \\
 3
 \end{array}$$

۸۴ کیلو برنج

۹ کیلو برنج می رسد و ۳ کیلو برنج باقی می ماند.

جدول زیر را کامل کنید.

ضلع	۷	۴۰	۱۲	۹۰
محیط مربع	$7 \times 4 = 28$	$40 \times 4 = 160$	$12 \times 4 = 48$	$90 \times 4 = 360$
محیط مثلث	$7 \times 3 = 21$	$40 \times 3 = 120$	$12 \times 3 = 36$	$90 \times 3 = 270$
محیط ۶ ضلعی	$7 \times 6 = 42$	$40 \times 6 = 240$	$12 \times 6 = 72$	$90 \times 6 = 540$

علوم

موارد مرتبط را به یکدیگر وصل کنید.

- با تبخیر آب، امکان رشد میکروب کم تر می شود.
- در دملهای بسیار پایین فعالیت میکروبها کم می شود.
- در محیطهای شور، امکان فاسد شدن مادهی غذایی کم می شود.
- در این روش هوا نمی تواند وارد محیط شود و امکان فاسد شدن غذا کم می شود.
- خشک کردن
- کنسرو کردن
- انجماد
- نمک دار کردن

۲ کدام گزینه درست است؟

(۱) بهتر است مواد غذایی را در دمای معمولی نگه داشت.

(۲) هرچه دمای محیط نگهداری مواد غذایی کم‌تر باشد، بهتر است. ✓


(۳) شور کردن روشی برای نگهداری حبوبات و برنج است.

(۴) محلول غلیظ شکر نمی‌تواند مانع فاسد شدن مواد غذایی شود.

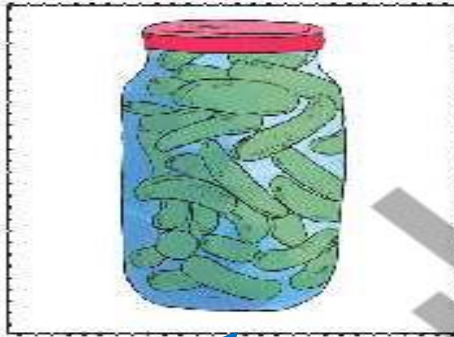
۳ الف) یک راه نگهداری طولانی مدت خیار چیست؟ نمک زدن

ب) دو راه نگهداری طولانی مدت نان چیست؟ خشک کردن - منجمد کردن

۴ در زمان قدیم برای نگهداری گوشت از کدام روش‌ها استفاده می‌شده است؟



۵ ماده‌ی نگهدارنده در تهیه‌ی هریک از مواد غذایی زیر چیست؟



نمک



شکر



سرکه

۶ دو روش نگهداری طولانی مدت شیر که با گرما دادن است چه نام دارند؟

پاستوریزه کردن - استریلیزه کردن

فارسی

۱ با استفاده از کلمات در هم ریخته‌ی زیر، جمله را کامل کنید.

زور - خانه‌ی - می‌خواهی - مرد - به - بگیری؟ - را - این،

چرا می‌خواهی به زور خانه‌ی این مرد را بگیری؟

۲



جاهای خالی را کامل کنید.

که مرا شوق درس خواندن داد

حمد بر کردگار یکتا باد

داد توفیق خیرم از هر باب

آشنا کرد چشم من به کتاب

در دل من محبت استاد

در سر من هوای درس نهاد



با توجه به کلمه‌های داده شده، جمله را بازنویسی کنید.

«ما به دانشمندان ایرانی، افتخار می‌کنیم.»

(الف) ما به ایرانیان، افتخار می‌کنیم.

(ب) ما به شهیدان شجاع، افتخار می‌کنیم.



در هر ردیف، حروف جا افتاده را نوشته و کلمه‌ی کامل شده را بازنویسی کنید.

ن ع م ت

نعمت

پ س ن د ی د ه

پسندیده

ت و ف ی ق

توفیق


س م ی م ی

صمیمی

آ ی ن د ه

آینده

۵ برای هر شاخه یک گل زیبا بکشید و معنی کلمه‌ی درون برگ را در گل بنویسید.




### مطالعات اجتماعی

۱ چراغ راهنمایی رانندگی زیر را به صورت صحیح رنگ کنید.

در چه صورتی خودروها حق عبور دارند؟

زمانی که چراغ سبز شود.



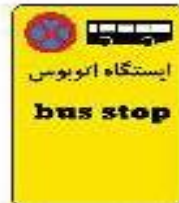
۲

کارهای ممنوع و غیرممنوع زیر را مشخص کنید.

- بازی کردن در خیابان
  - عبور از خط‌کشی عبور پیاده
  - عبور از سطح بزرگراه‌ها وقتی که شلوغ نباشد.
  - پیاده شدن از سمت راست تاکسی
- ممنوع است.
- غیرممنوع است.

۳

هر تابلوی رانندگی نشان‌دهنده‌ی چیست؟



خطر    ایستگاه اتوبوس    ورود ممنوع    بوق زدن ممنوع    محل عبور دانش آموزان

هدیه‌های آسمان - قرآن

۱

با توجه به معنی آیه جای خالی را کامل کنید.

«إِنَّ الْأَبْرَارَ لَفِي نَعِيمٍ»

«نیکوکاران در ..... بهشت ..... پر نعمت هستند.»

۲ با توجه به داستان «باغ بهار»، پدر سینا بهشت را چگونه توصیف می‌کند؟

باغی همیشه سرسبز که جویبارهای زلال از زیر درختانش جاری است و انواع میوه در آن

وجود دارد.

۳ با توجه به معنی آیه‌ی نوشته شده کارت کلمات آیه را ببرید و به ترتیب مناسب بچسبانید.

«خداوند صاحب روز قیامت است.»

مَالِكِ يَوْمِ الدِّينِ

- کلمات هم معنی
- قوانین و تابلوهای راهنمایی و رانندگی
- آشنایی با بهشت و روز قیامت
- معنی آیات قرآنی

- تقسیم با باقی مانده
- محیط اشکال هندسی
- روش های نگهداری طولانی مدت مواد غذایی
- جمله سازی و کلمه سازی
- ارتباط فاعل و فعل

شاخص‌ها

- خیلی خوب
- خوب
- قابل قبول
- نیاز به تلاش بیشتر