

نام و نام خانوادگی: ..... تاریخ: ..... نام آموزگار: .....

ریاضی < فصل ۸: حذف حالت‌های نامطلوب  
 علوم < درس ۱۲ و ۱۳: هر کدام جای خود (۱) و (۲)  
 فارسی < درس ۱۶: اگر جنگل نباشد.  
 مطالعات اجتماعی < درس ۲۱: جهت‌های اصلی  
 هدیه‌های آسمان < درس ۱۸: آینه‌ی سخنگو  
 قرآن < انس با قرآن کریم (۱۴)

## ریاضی

۱ کوچک‌ترین عدد فرد چهار رقمی بدون تکرار رقم‌ها را که مجموع رقم‌های آن ۱۰ باشد بنویسید.

۲ حاصل ضرب دو عدد ۵۶ و جمع آن دو ۱۵ است. این دو عدد کدام‌اند؟

۳ اختلاف بزرگ‌ترین عدد چهاررقمی با کدام عدد برابر با ۲۳۵۷ است؟

۴ با رقم‌های ۰، ۶، ۸، ۴ و ۳ چند عدد چهاررقمی می‌توان نوشت که رقم دهگان آن ۴ باشد؟ (تکرار ارقام مجاز نیست.)

۵ عددهای ۰ تا ۸ را با توجه به توضیحات داده شده را در جای خود قرار دهید.

(الف) در مثلث فقط عددهای زوج است.

(ب) عدد ۵ هم در مربع و هم در مستطیل است.

(پ) عدد ۱ و ۳ فقط در مستطیل هستند.





(ت) عدد ۲ هم در مربع و هم در مثلث است.

(ث) عدد ۴ هم در مستطیل و هم در مثلث است.

(ج) عدد ۷ فقط در مربع است.

## علوم

۱ جانوران مهره‌دار را آبی و بی‌مهره را قرمز کنید.



خزندگان روی تخم‌های خود نمی‌خوابند ولی پرندگان روی تخم‌های خود می‌خوابند، بنابراین:

۱) تخم‌های پرندگان در برابر عوامل خطرناک محیطی مقاوم‌تر است.

۲) تخم‌های پرندگان نسبت به خزندگان بزرگ‌ترند و اندوخته‌ی غذایی بیش‌تری دارند.

۳) تخم‌های خزندگان نسبت به پرندگان زودتر به جنین تبدیل می‌شوند.

۴) تخم‌های پرندگان باید گرم نگه داشته شوند.

تحقیق کرده و بنویسید.

الف) پستانداری تخم‌گذار است:

ب) پستانداری پرنده است:

پ) پستانداری شناگر است:

ت) پستانداری خزنده است:

هر پا مربوط به کدام پرنده است؟ (عکس پرنده را از برجسب‌ها ببرید و در کنار پاهایش بچسبانید.) حالا از روی پای آن پرنده بگویند چه مهارتی دارد.

--	--	--	--



حیوانات ما قبل تاریخ به نام دایناسور در کدام گروه جانوران مهره‌دار قرار می‌گیرند؟ دلیل این انتخابتان چیست؟

فارسی

معنی کلمات زیر را بنویسید.

حفظ



حاشیه



روزه



غرش



با توجه به مثال جاهای خالی را کامل کنید.

خاک نمناک، یعنی خاکی که نم دارد.

الف) نگاه غمناک، یعنی .....

ب) زخم دردناک، یعنی .....

پ) ....., یعنی حادثه‌ای که خطر دارد.

با توجه به درس «اگر جنگل نباشد» کلماتی که نشانه‌های زیر را دارند را پیدا کنید و بنویسید.

ذ	غ	ص

جدول را کامل کنید.

مادر شُست.	مادر چه چیز را .....؟	مادر لباس‌ها را .....
فاطمه .....	فاطمه چه چیز را نوشت؟	.....
نقاشی کرد.	علی چه چیز را .....؟	نقاشی کرد.

این داستان را ادامه دهید. (۳ خط)

در جنگل سرسبز صدای باد در میان برگ‌ها پیچیده بود و صدای .....

### مطالعات اجتماعی

با توجه به تصویر، هر کدام در چه جهتی قرار دارند؟

دریای خزر

حرم امام رضا (ع)

خلیج فارس

استان ایلام



پاسخ کوتاه دهید.

الف) طلوع خورشید از سمت ..... است.

ب) غروب خورشید از سمت ..... است.

پ) چهار جهت اصلی: شمال، .....، شرق و ..... است.

### هدیه‌های آسمان - قرآن

کدام یک از کارهای زیر نشان‌دهنده‌ی یک فرد منظم و مرتب است؟ با علامت  مشخص کنید.



امام علی (ع) چرا از مسلمانان می‌خواهد که قرآن را فرا بگیرند؟

- بندنویسی
- جهت‌های جغرافیایی
- شناخت نظم
- خوبی‌های قرآن و تلاوت آن

- راهبرد حذف حالت‌های نامطلوب
- آشنایی با جانوران مهره‌دار و دسته‌بندی آن‌ها
- معنی کلمات
- واژه‌شناسی
- شناخت مفعول

**شاخص‌ها**

- خیلی خوب
- خوب
- قابل قبول
- نیاز به تلاش بیشتر

نام و نام خانوادگی: ..... تاریخ: ..... نام آموزگار: .....

ریاضی < فصل ۸: ضرب چند رقمی و ضرب مضارب ۱۰  
 علوم < درس ۱۳ و ۱۴: هر کدام جای خود (۲)، از گذشته تا آینده هدیه‌های آسمان < درس ۱۹: گندم از گندم بروید.  
 فارسی < درس ۱۷: چشم‌های آسمان  
 مطالعات اجتماعی < درس ۲۲: پست  
 قرآن < فصل ۳: انس با قرآن کریم (۱۵)

## ریاضی

۱ حاصل عبارت‌های زیر را به دست آورید.

الف)  $20 \times 600 =$  .....

ت)  $200 \times 80 =$  .....

ب)  $30 \times 400 =$  .....

ث)  $40 \times 40 =$  .....

پ)  $50 \times 700 =$  .....

ج)  $70 \times 30 =$  .....

۲ حاصل عبارات زیر را به دست آورید.

$$\begin{array}{r} 43 \\ \times 5 \\ \hline \end{array}$$

$$\begin{array}{r} 876 \\ \times 5 \\ \hline \end{array}$$

$$\begin{array}{r} 83 \\ \times 9 \\ \hline \end{array}$$

$$\begin{array}{r} 294 \\ \times 8 \\ \hline \end{array}$$

۳ یک ساختمان ۷ طبقه دارد و در هر طبقه ۵ واحد آپارتمان وجود دارد. اگر در هر واحد ۲ نفر زندگی کنند، در این ساختمان چند نفر زندگی می‌کنند؟

۴ جاهای خالی را با استفاده از اعداد درون جعبه کامل کنید.

۱۲۰ یعنی: ..... تا ده تایی  $22 \times \dots = 220$

$75 \times 100 = \dots$   $\dots \times 30 = 600$

$\dots \times 8 = 800$   $300 \times \dots = 900$

۱۰	۱۲	۲۰	۳	۷۵۰۰	۱۰۰
----	----	----	---	------	-----

درست یا نادرست بودن گزینه‌ها را با چسباندن  یا  مربوطه مشخص کنید.

پ)  $1 \times 7 \times 80 = 560$


الف)  $3 \times 6 \times 2 = 50$

ت)  $9 \times 4 \times 2 = 63$

ب)  $2 \times 5 \times 0 = 0$



۶ برای شکل زیر ضرب بنویسید.



..... × ..... = .....

**علوم**

۱ برای هر کدام ۲ راه نگهداری بنویسید.



..... (۱)	..... (۱)	..... (۱)
..... (۲)	..... (۲)	..... (۲)



شماره‌ی

۲۱

# ارمغان هفته - سوم دبستان

نام و نام خانوادگی: ..... تاریخ: ..... نام آموزگار: .....

ریاضی < فصل ۸: تقسیم با باقی‌مانده و محیط اشکال هندسی مطالعات اجتماعی < درس ۲۳: ایمنی در کوچه و خیابان  
 علوم < درس ۱۴: از گذشته تا آینده هدیه‌های آسمان < درس ۲۰: باغ همیشه بهار  
 فارسی < درس ۱۷: چشم‌های آسمان قرآن < انس با قرآن کریم

## ریاضی

۱ تقسیم‌های زیر را حل کنید.

$$66 \overline{) 9}$$

$$59 \overline{) 7}$$

۲ باقی‌مانده‌ی کدام یک از تقسیم‌های زیر صفر می‌باشد؟

$$42 \overline{) 7}$$

$$51 \overline{) 8}$$

$$37 \overline{) 6}$$

$$45 \overline{) 9}$$

۳ می‌خواهیم ۷ کیسه‌ی ۱۲ کیلویی برنج را بین ۹ خانواده به‌طور مساوی تقسیم کنیم. به هر خانواده چند کیلو برنج می‌رسد و چقدر برنج باقی‌مانده می‌ماند؟

۴ جدول زیر را کامل کنید.

ضلع	۷	۴۰	۱۲	۹۰
محیط مربع				
محیط مثلث				
محیط ۶ ضلعی				

## علوم

۱ موارد مرتبط را به یکدیگر وصل کنید.

- ⊕ خشک کردن
- ⊕ کنسرو کردن
- ⊕ انجماد
- ⊕ نمک‌دار کردن
- ⊕ با تبخیر آب، امکان رشد میکروب کم‌تر می‌شود.
- ⊕ در دماهای بسیار پایین فعالیت میکروب‌ها کم می‌شود.
- ⊕ در محیط‌های شور، امکان فاسد شدن ماده‌ی غذایی کم می‌شود.
- ⊕ در این روش هوا نمی‌تواند وارد محیط شود و امکان فاسد شدن غذا کم می‌شود.