

۶) کسرهای زیر را مقایسه کنید. ($< = >$)

ربع \bigcirc نیم \heartsuit

$\frac{1}{6} \bigcirc \frac{1}{4}$

$\frac{2}{2} \bigcirc 1$



$\frac{5}{8} \bigcirc \frac{7}{8}$

۷) عدد داخل دایره به کدام عدد در مربع‌ها نزدیک‌تر است؟ آن مربع را رنگ کنید.



۸) جدول زیر را کامل کنید.

روش شکل	روش جمع	الگو عددی	ضرب	توضیح عبارت ضرب
				۴ دسته‌ی ۳ تایی می‌شود

۹) مریم ۶ بسته شکلات ۳ تایی دارد. او چند شکلات دارد؟

۱۰) در جاهای خالی عدد مناسب بنویسید.

$(4 \times 5) + (5 \times 3) = \dots + \dots = \dots$



$2 \times 6 = \dots$

$15 + \dots = 5$



$8 \times 4 = (\dots \times 4) + (\dots \times 4) = \dots + \dots = \dots$

$7 \times 2 = \dots$



$24 + 4 = \dots$



موضوع:

تاریخ:

نام و نام خانوادگی:

هدف:

تاریخ: / /

حل مسئله ی فصل ۷ ریاضی - پایه ی سوم

۱- از ۵ برابر عددی ۶ واحد برداشته ایم ، حاصل ۳۹ شده است ، آن عدد را پیدا کنید .

$$5 \times \square - 6 = 39$$

نتیجه	آزمایش	حدس

۲- کدام عدد دورقمی است که اگر آن را با خودش جمع کنیم و حاصل را منهای ۴ کنیم ، پاسخ ۴۶ می شود ؟





$$\square + \square - 4 = 46$$

نتیجه	آزمایش	حدس

۳- از ۷ برابر عددی ۵ واحد برداشتیم ، حاصل ۵۱ شده است . آن عدد چند است ؟

$$7 \times \square - 5 = 51$$

نتیجه	آزمایش	حدس

۴- اگر در عبارت های زیر  نشان دهنده ی یک عدد و  نشان دهنده ی عدد دیگری باشد ، به نظر شما  و  نشان دهنده ی کدام عدد است ؟

$$\text{flower} \times \text{apple} = 32$$

$$\text{apple} = \square$$

$$\text{flower} + \text{apple} = 2$$

$$\text{flower} = \square$$

۵- حاصل ضرب دو عدد ۲۴ و حاصل جمع آن ها ۱۰ است . آن دو عدد را پیدا کنید .

$$\dots + \dots = \dots$$

$$\dots \times \dots = 24$$

$$\dots + \dots = 10$$