



ارمغان هفته - سوم دبستان

نام و نام خانوادگی: تاریخ: نام آموزگار:

ریاضی < فصل ۸: ضرب چند رقمی و ضرب مضارب ۱۰ مطالعات اجتماعی < درس ۲۲: پست
علوم < درس ۱۳ و ۱۴: هر کدام جای خود (۲)، از گذشته تا آینده هدیه‌های آسمان < درس ۱۹: گندم از گندم بروید.
فارسی < درس ۱۷: چشم‌های آسمان قرآن < فصل ۳: انس با قرآن کریم (۱۵)

ریاضی

۱) حاصل عبارت‌های زیر را به دست آورید.

الف) $20 \times 600 = \dots 12000 \dots$

ت) $200 \times 80 = \dots 16000 \dots$

ب) $30 \times 400 = \dots 12000 \dots$

ث) $40 \times 40 = \dots 1600 \dots$

پ) $50 \times 700 = \dots 35000 \dots$

ج) $70 \times 30 = \dots 2100 \dots$

۲) حاصل عبارات زیر را به دست آورید.

$$\begin{array}{r} 43 \overline{) 5} \\ -40 \\ \hline 3 \end{array}$$

$7 \times 5 = 35$
 $8 \times 5 = 40$
 $9 \times 5 = 45$

$876 = 800 + 70 + 6$

$$\begin{array}{r} 876 \\ \times 5 \\ \hline 4380 \end{array}$$

$$\begin{array}{r} 83 \overline{) 9} \\ -81 \\ \hline 02 \end{array}$$

$9 \times 9 = 81$
 $9 \times 10 = 90$

$$\begin{array}{r} 294 \\ \times 8 \\ \hline 1400 \\ + 720 \\ + 320 \\ \hline 2352 \end{array}$$

۳) یک ساختمان ۷ طبقه دارد و در هر طبقه ۵ واحد آپارتمان وجود دارد. اگر در هر واحد ۲ نفر زندگی کنند، در این ساختمان چند نفر زندگی می‌کنند؟

طبقه	۱	۲	۳	۴	۵	۶	۷
واحد	۵	۱۰	۱۵	۲۰	۲۵	۳۰	۳۵
نفر	۱۰	۲۰	۳۰	۴۰	۵۰	۶۰	۷۰

۷ نفر زندگی می‌کنند

۴) جاهای خالی را با استفاده از اعداد درون جعبه کامل کنید.

۱۰	۱۲	۲۰	۳	۷۵۰۰	۱۰۰
----	----	----	---	------	-----

$22 \times \dots = 220$

$12 \dots$ تا ده تایی

$75 \times 100 = \dots$

$\dots \times 30 = 600$

$\dots \times 8 = 800$

$300 \times \dots = 900$

۵) درست یا نادرست بودن گزینه‌ها را با چسباندن یا مربوطه مشخص کنید.



الف) $1 \times 7 \times 80 = 560$ (پ)



ب) $3 \times 6 \times 2 = 50$



ت) $9 \times 4 \times 2 = 63$



د) $2 \times 5 \times 0 = 0$ (ب)

۱



فارسی

۱ کلمات هم معنی را هم رنگ کنید.

غرق شدن	احوال پرسی	عظیم	اشتیاق
شور و علاقه	فرورفتن در آب	پرسیدن حال کسی	بزرگ

۲ با حروف درهم ریخته کلمه بسازید.

ح ز ل ن و	م خ ل	خ م د ت	ن م ع ت
حلزون	ملخ	خودت	نعمت

۳ کلمات غلط را از میان کلمات زیر پیدا کنید و صحیح آن‌ها را بنویسید.

چقدر ، عظیم ، سراغ ، محافظت ، زحمت ، سوط زنان ،

چقدر محافظت سوط زنان

۴ جمله‌های به هم ریخته‌ی زیر را مرتب کرده و بنویسید.

الف) هرگز - همیشه - نمی‌خوابد - نورافشانی - است - مشغول - و - خورشید - .

خورشید هرگز نمی‌خوابد و همیشه مشغول نورافشانی است

ب) چقدر - گسترده - و - آسمان - وسیع - بود - .

آسمان چقدر گسترده و وسیع بود

۵ جمله‌های ناتمام را کامل کنید.

الف) ستاره‌ها خوابیده بودند و ماه برایشان
ب) خورشید گرم با مهربانی برای گل‌ها
پ) دریای آرام با صدای آرامی
بیدار کرد

مطالعات اجتماعی

۱ کلمه مناسب را انتخاب کنید.

الف) هر مأمور پست، نامه‌های (یک شهر - یک منطقه) را به دست مردم می‌رساند.


ب) نامه‌های (پستی - رایانه‌ای) در زمان بسیار کوتاهی ارسال می‌شود.

پ) بر روی پاکت نامه باید (کد پستی - شماره تلفن) نوشته شود.





۲ بر روی پاکت زیر نشانی فرستنده و گیرنده و محل تمبر را مشخص کنید.



۳ کار اداری پست خدمت است یا تولید؟

خدمت است... کار اداری... تولیدی... کشاورزی... خدماتی... خدماتی... خدماتی...

هدیه های آسمان - قرآن

۱ پس از این دنیا وارد جهانی می شویم که به آن ... می گویند.

۲ مفهوم ضرب المثل 'گندم از گندم بروید، جو ز جو، چیست؟

هر کار خوب و بدی که انجام دهیم نتیجه ی آن کار به خودمان برمی گردد.

۳ کلام 'الدُّنْيَا مَرْزَعَةُ الْآخِرَةِ' به چه معناست؟

دنیا مزرعه ی آخرت است... یعنی هر چه در این دنیا بکاریم در آخرت آن را برداشت می کنیم.

۴ خداوند با فرستادن کدام سوره خبر پیروزی سپاه حضرت علی (ع) را به پیامبر (ص) داد؟

- ۱) قدر
- ۲) عادیات
- ۳) قارعه
- ۴) حمد



- کلمه سازی و جمله سازی
- آشنایی با نامه و وظایف اداره پست
- آشنایی با آخرت
- داستان های قرآنی

- ضرب مضارب ۱۰
- ضرب چند رقمی در یک رقمی
- روش های نگهداری طولانی مدت مواد غذایی
- شناخت و دست بندی جانوران مهره دار
- کلمات هم معنی

شاخص ها

- جای خوب
- خوب
- قابل قبول
- نیاز به تلاش بیشتر





شماره‌ی

۳۱

ارمغان هفته - سوم دبستان

نام و نام خانوادگی: تاریخ: نام آموزگار:

ریاضی < فصل ۸: تقسیم با باقی‌مانده و محیط اشکال هندسی مطالعات اجتماعی < درس ۲۳: ایمنی در کوچه و خیابان
 علوم < درس ۱۴: از گذشته تا آینده
 فارسی < درس ۱۷: چشم‌های آسمان
 هدیه‌های آسمان < درس ۲۰: باغ همیشه بهار
 قرآن < انس با قرآن کریم

ریاضی

۱) تقسیم‌های زیر را حل کنید.

$$\begin{array}{r} 59 \overline{) 7} \\ - 56 \\ \hline 3 \end{array}$$

$$\begin{array}{r} 66 \overline{) 9} \\ - 63 \\ \hline 3 \end{array}$$

۲) باقی مانده‌ی کدام یک از تقسیم‌های زیر صفر می‌باشد؟

$$\begin{array}{r} 45 \overline{) 9} \\ - 45 \\ \hline 0 \end{array}$$

$$\begin{array}{r} 37 \overline{) 6} \\ - 36 \\ \hline 1 \end{array}$$

$$\begin{array}{r} 51 \overline{) 8} \\ - 48 \\ \hline 3 \end{array}$$

$$\begin{array}{r} 42 \overline{) 7} \\ - 42 \\ \hline 0 \end{array}$$

۳) می‌خواهیم ۷ کیسه‌ی ۱۲ کیلویی برنج را بین ۹ خانواده به‌طور مساوی تقسیم کنیم. به هر خانواده چند کیلو برنج می‌رسد و چقدر باقی‌مانده باقی می‌ماند؟

$$\begin{array}{r} \times 12 \\ \times 7 \\ \hline 84 \end{array}$$

$$\begin{array}{r} 84 \overline{) 9} \\ - 81 \\ \hline 3 \end{array}$$

به هر خانواده ۹ کیلو برنج می‌رسد و ۳ کیلو برنج باقی می‌ماند.

۴) جدول زیر را کامل کنید.

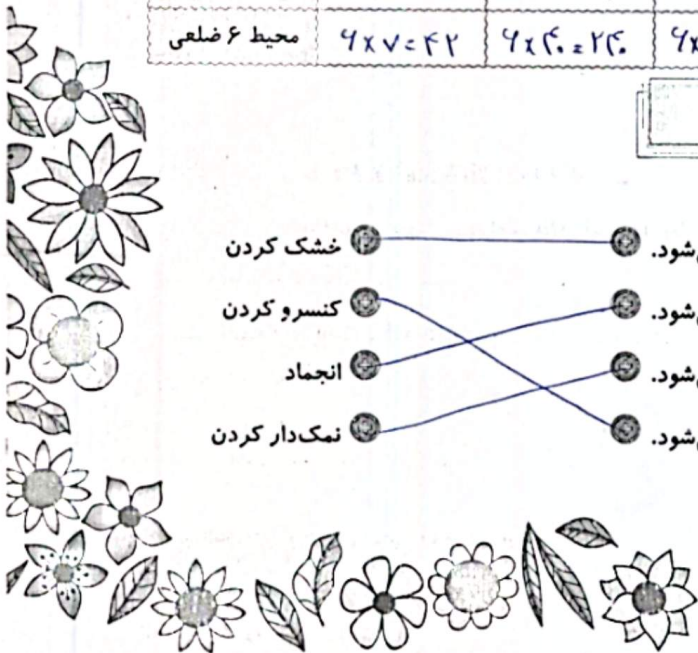
ضلع	۷	۴۰	۱۲	۹۰
محیط مربع	$7 \times 4 = 28$	$40 \times 4 = 160$	$12 \times 4 = 48$	$90 \times 4 = 360$
محیط مثلث	$3 \times 7 = 21$	$3 \times 40 = 120$	$3 \times 12 = 36$	$3 \times 90 = 270$
محیط ۶ ضلعی	$6 \times 7 = 42$	$6 \times 40 = 240$	$6 \times 12 = 72$	$6 \times 90 = 540$

علوم

۱) موارد مرتبط را به یکدیگر وصل کنید.

- با تبخیر آب، امکان رشد میکروب کم‌تر می‌شود.
- در دماهای بسیار پایین فعالیت میکروب‌ها کم می‌شود.
- در محیط‌های شور، امکان فاسد شدن ماده‌ی غذایی کم می‌شود.
- در این روش هوا نمی‌تواند وارد محیط شود و امکان فاسد شدن غذا کم می‌شود.
- خشک کردن
- کنسرو کردن
- انجماد
- نمک‌دار کردن

۱



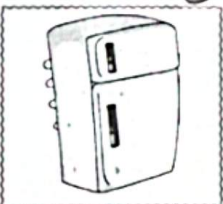
۲) کدام گزینه درست است؟

- (۱) بهتر است مواد غذایی را در دمای معمولی نگه داشت.
(۲) هرچه دمای محیط نگهداری مواد غذایی کم تر باشد، بهتر است.
(۳) شور کردن روشی برای نگهداری حبوبات و برنج است.
(۴) محلول غلیظ شکر نمی تواند مانع فاسد شدن مواد غذایی شود.

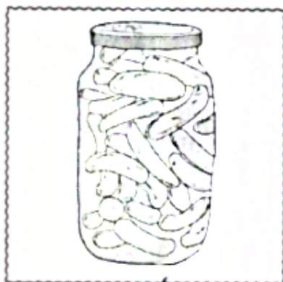
۳) الف) یک راه نگهداری طولانی مدت خیار چیست؟ ... *سرد کردن*

ب) دو راه نگهداری طولانی مدت نان چیست؟ ... *سرد کردن*

۴) در زمان قدیم برای نگهداری گوشت از کدام روش ها استفاده می شده است؟



۵) ماده‌ی نگهدارنده در تهیه‌ی هریک از مواد غذایی زیر چیست؟



..... *نمک*



..... *شکر*



..... *شکر*

۶) دو روش نگهداری طولانی مدت شیر که با گرما دادن است چه نام دارند؟

..... *پاستوریزه - استریلیزه*


فارسی

۱) با استفاده از کلمات در هم ریخته‌ی زیر، جمله را کامل کنید.

زور - خانه‌ی - می خواهی - مرد - به - بگیری - ؟ - را - این ،

چرا نم زور خانمی این مرد را می خواهی بگیری ؟

۲



جاهای خالی را کامل کنید. ۲

حمد بر کردگار یکتا باد
آشنا کرد چشم من به یک کتاب
داد توفیق
در دل من محبت استاد

با توجه به کلمه‌های داده شده، جمله را بازنویسی کنید. ۳

ما به دانشمندان ایرانی، افتخار می‌کنیم.

الف) ما به ایرانیان افتخار می‌کنیم (ایرانیان)

ب) ما به شهیدان شجاع افتخار می‌کنیم (شهیدان شجاع)

در هر ردیف، حروف جا افتاده را نوشته و کلمه‌ی کامل شده را بازنویسی کنید. ۴

ن ع م ت

.....
نعمت

پ س ن > ی د ه

.....
پسندیده

ت و ض ی ق

.....
توفیق

ص م ی م ی

.....
صمیمی

آ ی ن د ه

.....
آینه

برای هر شاخه یک گل زیبا بکشید و معنی کلمه‌ی درون برگ را در گل بنویسید. ۵



مطالعات اجتماعی

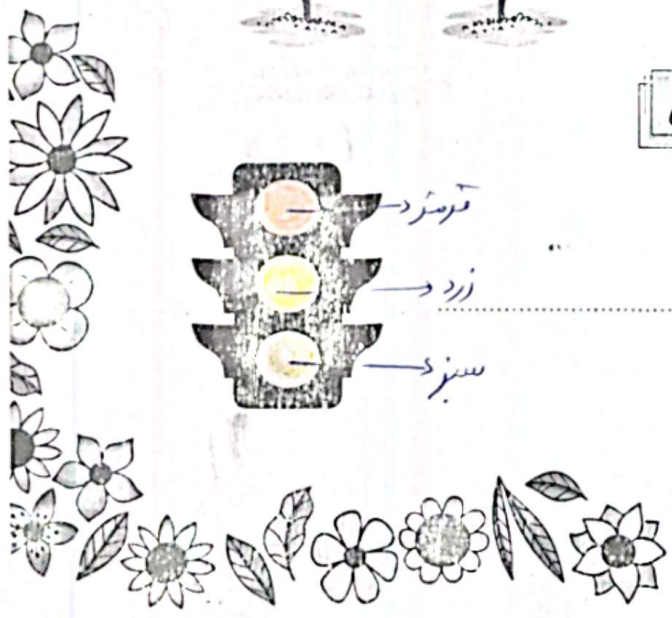
چراغ راهنمایی رانندگی زیر را به صورت صحیح رنگ کنید. ۱

در چه صورتی خودروها حق عبور دارند؟

زمانی که چراغ سبز بسوزد

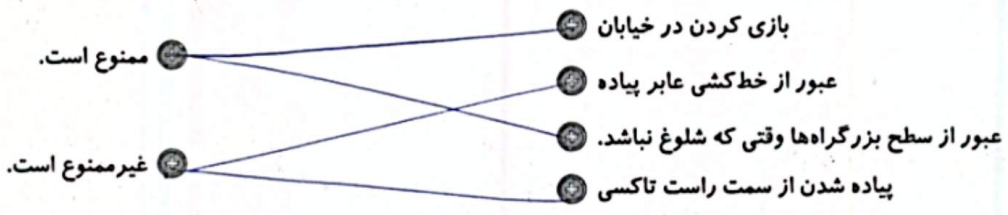


۳





کارهای ممنوع و غیرممنوع زیر را مشخص کنید.



هر تابلوی رانندگی نشان‌دهنده‌ی چیست؟



خطرات: خطر ایستگاه اتوبوس ورود ممنوع محل عبور دانش‌آموزان بوق زدن ممنوع

هدیه‌های آسمان - قرآن

با توجه به معنی آیه جای خالی را کامل کنید.

«إِنَّ الْأَبْرَارَ لَفِي نَعِيمٍ»


«نیکوکاران در پر نعمت هستند.»

با توجه به داستان «باغ بهار»، پدر سینا بهشت را چگونه توصیف می‌کند؟

«بانی که همه چیز را بسازد و بچسباند و همه چیز را در آن قرار دهد و در آن درختان و حیوانات و انسانها را بگذارد.»

با توجه به معنی آیه‌ی نوشته شده کارت کلمات آیه را ببرید و به ترتیب مناسب بچسبانید.

«خداوند صاحب روز قیامت است.»



<p>کلمات هم‌معنی</p> <p>قوانین و تابلوهای راهنمایی و رانندگی</p> <p>آشنایی با بهشت و روز قیامت</p> <p>معنی آیات قرآنی</p>	<p>تقسیم باقی مانده</p> <p>محیط اشکال هندسی</p> <p>روش‌های نگهداری طولانی مدت مواد غذایی</p> <p>جمله‌سازی و کلمه‌سازی</p> <p>ارتباط فاعل و فعل</p>	<p>شاخص‌ها</p> <p>خیابان خوب</p> <p>خوب</p> <p>قابل قبول</p> <p>نیاز به تلاش بیشتر</p>
---	--	--

