



موضوع: مرور فصل ششم

تاریخ:

نام و نام خانوادگی:

هدف:

۱- حاصل تفریق زیر را با رسم شکل بدست آورید.

$$\begin{array}{r} 3520 \\ - 1315 \\ \hline \end{array}$$

۲- سارا از ۳۲۰۰ تومان پس انداز خود ۸۰۰ تومان خرج کرده است. چند تومان برای سارا باقی مانده است؟

۳- حاصل جمع و تفریق های زیر را بصورت ذهنی بدست آورید.

$$(8000 - 2000) - 3000 = \dots\dots\dots$$

$$(4000 - 1400) + 300 = \dots\dots\dots$$

$$(14300 + 3700) - 4000 = \dots\dots\dots$$

$$(3000 + 5000) - 2000 = \dots\dots\dots$$

۴- عددهای زیر را باهم مقایسه کنید و علامت $< = >$ قرار دهید.

$$1000 \quad \bigcirc \quad 998$$

$$14470 \quad \bigcirc \quad 5150$$

$$2000 + 180 \quad \bigcirc \quad 1000 + 960$$

$$8500 - 1500 \quad \bigcirc \quad 4200 + 1000$$

$$4000 + 2000 \quad \bigcirc \quad 3500 + 1000$$

$$3410 \quad \bigcirc \quad 5400 - 2000$$

$$700 + 1400 \quad \bigcirc \quad 2900 - 2300$$

$$500 + 1000 \quad \bigcirc \quad 1700 - 300$$





موضوع: مرور فصل ششم

تاریخ

نام و نام خانوادگی

هدف:

۵- حاصل تقریبی هر عبارت بین کدام دو عدد قرار میگیرد.

..... $\leftarrow 4276 + 1362 \rightarrow$ $\leftarrow 7612 - 4290 \rightarrow$

۶- کتابی ۲۱۴۰ صفحه دارد. زهرا روز شنبه ۲۰۱ صفحه و روز یکشنبه ۳۲۰ صفحه و روز دوشنبه ۴۱۵ صفحه از کتاب را خواند. او چند صفحه از کتاب را نخوانده است؟

۷- عددهای زیر را از کوچک به بزرگ مرتب کنید.

۸۸۳۶
 ۹۷۶۳
 ۷۹۹۵
 ۸۶۳۸
 ۹۷۳۶


..... > > > >

۸- حاصل عبارت های زیر را بدست آورید.

$3 \times (2 + 8) = \dots \times \dots = \dots$ $(7 + 2) \times 6 = \dots \times \dots = \dots$
 $(8 \div 2) \times (36 \div 6) \dots \times \dots = \dots$ $(6 + 3) \times (9 - 4) = \dots \times \dots = \dots$

۵- حاصل جمع و تفریق های زیر را به روش فرایندی (طولانی) بدست آورید.

$\begin{array}{r} 3520 \\ - 1315 \\ \hline \end{array}$	$\begin{array}{r} 4538 \\ + 2452 \\ \hline \end{array}$
---	---



موضوع: مرور فصل هفتم

تاریخ

نام و نام خانوادگی

هدف:

۱- تعداد گوسفندان چند روستا به طور تقریبی در ب جدول زیر مشخص شده است.


نام روستا	علی آباد	حسن آباد	وکیل آباد	محمود آباد
تعداد	۳۰۰۰	۵۰۰۰	۲۰۰۰	۱۰۰۰

تعداد
گوسفندان

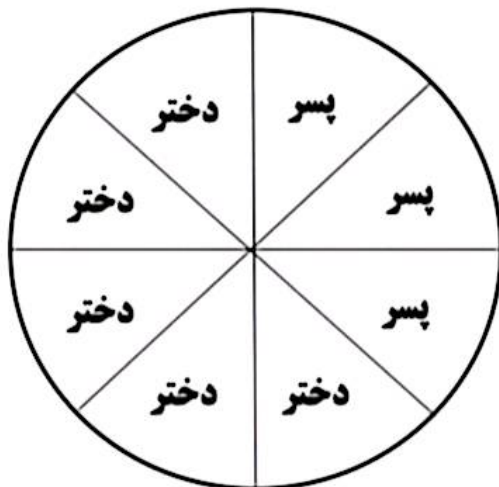
* نمودار تصویری را با توجه به اطلاعات داده شده کامل کنید.

هر ★ نشان دهنده ی

۱۰۰۰ گوسفند



۲- تعداد دانش آموزان در یک آموزشگاه زبان ۴۰ دختر و پسر است . با توجه به نمودار بنویس چند دختر و چند پسر در این آموزشگاه زبان می آموزند؟





موضوع: مرور فصل هفتم

تاریخ


نام و نام خانوادگی

هدف:

۳- برای هر یک از جمله های زیر یکی از حالت ها را انتخاب کنید و علامت بزنید.

ردیف	جمله	به طور حتم اتفاق می افتد	احتمال دارد اتفاق بیفتد	به طور حتم اتفاق نمی افتد
۱	احتمال غروب کردن خورشید در روز			
۲	احتمال گل شدن شوت یک بازیکن			
۳	احتمال آمدن عدد بیشتر از ۶ در پرتاب تاس			

۴- با توجه به چرخنده مقابل به سوال ها پاسخ دهید.



الف) احتمال آمدن کدام عدد بیشتر است؟

ب) احتمال آمدن کدام عدد کم تر است؟

ج) احتمال آمدن عدد ۲ چه کسری است؟

۵- عدد یک رقمی هستیم که اگر در خودم ضرب شوم و به حاصل آن ۲۵ تا اضافه شود , حاصل جمع

۵۰ میشود. من چه عددی هستیم؟

$$\square \times \square = \square + 25 = 50$$

۶- مساحت مستطیلی ۴۸ سانتی متر است. اگر طول آن ۸ سانتی متر باشد. محیط این مستطیل را

پیدا کنید؟

دانش آموز باهوشم موفق باشی