



موضوع:

تاریخ

نام و نام خانوادگی

هدف:

۶. با توجه به شکل جای خالی را کامل کن.



..... واحد و از یک واحد رنگ شده

۷. علی $\frac{1}{4}$ و حمید $\frac{1}{3}$ از پول خود را پس انداز می کنند. با کشیدن شکل نشان دهید کدام یک از آنها بیشتر

پس انداز کرده اند؟

۸. در جای خالی علامت $< = >$ بگذار.

۶۸۹۹ ○ ۶۸۵۵

۱۰۰۰ ○ ۲۰۰۰

۳۳۵۰ ○ ۳۳۵۲

۱۵+۵ ○ ۱۰+۱۵

۹. سعید ۶ بسته شکلات دارد و در هر بسته ی آن ۳ شکلات وجود دارد. سعید چند شکلات دارد؟

۱۰. مادر من ۲۸ سیب دارد و می خواهد آنها را به ۴ نفر از همسایه ها بدهد. به هر همسایه چند سیب می رسد؟

بازخورد آموزگار:





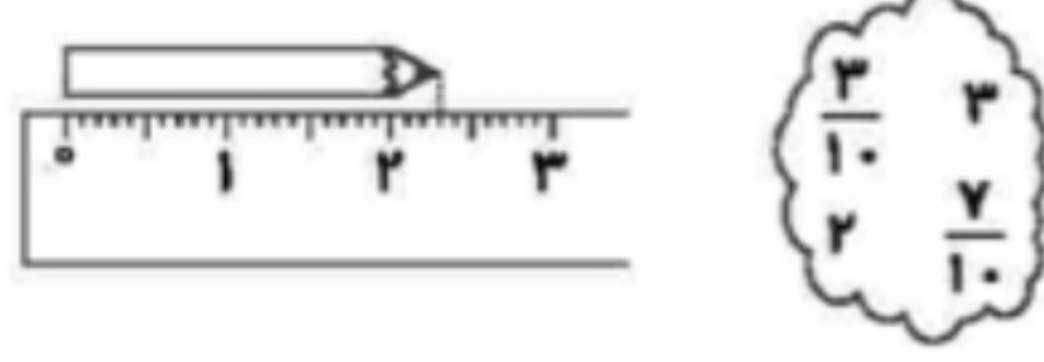
موضوع:

تاریخ:

نام و نام خانوادگی:

هدف:

۴) با توجه به تصویر و اعداد داده شده، جاهای خالی را پر کنید.



طول مداد سانتی‌متر و سانتی‌متر است.
 طول مداد سانتی‌متر کم دارد تا به ۳ سانتی‌متر برسد.

۵) به چند حالت می‌توانیم با سکه‌های ۵۰ و ۱۰۰ ریالی، ۲۰۰ ریال درست کنیم؟

ریاضی سوم دبستان

طرح سنجش استعداد: مداد قرمز ۲ - توصیفی

زمان: ۴۵ دقیقه

هفته چهارم آذر

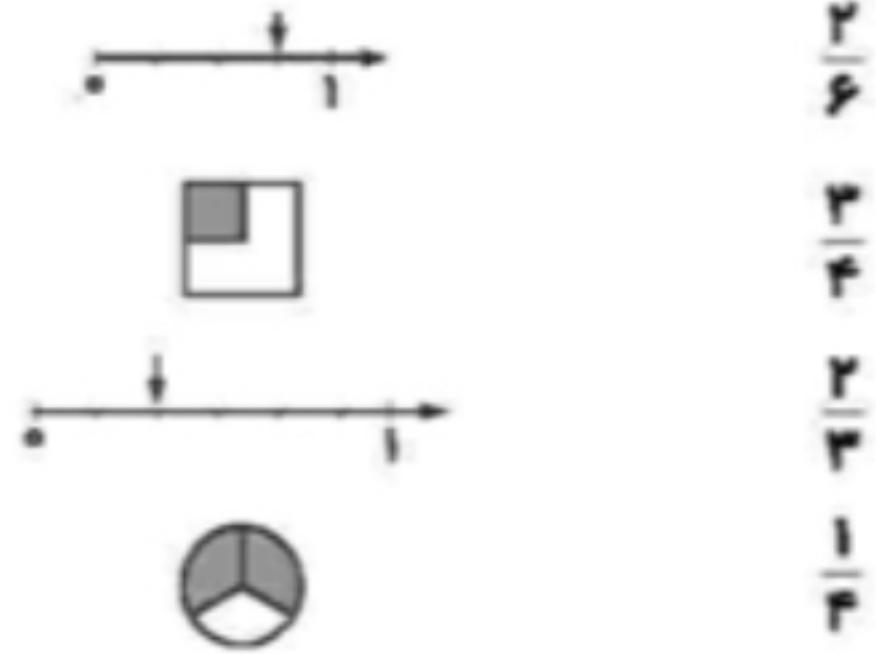
نام خانوادگی:

نام:

شماره ملی:

شعبه: کلاس:

۱) محورها و شکل‌ها را به کسر مربوط به خودش وصل کنید.



۶) برای اندازه‌گیری جرم یک هندوانه آن را در یک کفه‌ی ترازو و در کفه‌ی دیگر آن، یک وزنه‌ی ۵ کیلوگرمی، دو وزنه‌ی ۵۰۰ گرمی و یک وزنه‌ی ۱۰۰ گرمی قرار داده‌ایم. جرم هندوانه چند کیلوگرم و چند گرم است؟

۲) جملات درست را با علامت ✓ و نادرست را با ✗ مشخص کنید.

- الف) برای رسم دایره، دهانه‌ی پرگار را به اندازه‌ی قطر باز می‌کنیم.
- ب) برای رسم دایره سوزن پرگار در مرکز قرار می‌گیرد.
- پ) شعاع دایره، خط تقارن دایره است.
- ت) اگر شعاع دایره ۶ سانتی‌متر باشد، قطر آن ۱۲ سانتی‌متر است.

۷) کشاورزی $\frac{2}{3}$ زمین مستطیل شکلش را گندم و $\frac{1}{3}$ باقی‌مانده‌ی آن را جو کاشت. با رسم شکل بگویید:



الف) چه کسری از زمین گندم کاشته شده است؟
 ب) چه کسری از زمین زیر کشت رفته است؟

۳) گزینه‌ی صحیح را انتخاب کنید.
 الف) یک دلار قندستان به اندازه‌ی ۵۰۰ ریال ارزش دارد. ۴ دلار قندستان چند ریال ارزش دارد؟

- ۱) ۲۰۰۰
 - ۲) ۱۰۰۰
 - ۳) ۲۵۰۰
 - ۴) ۱۵۰۰
- ب) در جای خالی چه عددی قرار می‌گیرد؟
 ۱۴۰۰، ۲۵۰۰، ۳۶۰۰،
- ۱) ۴۵۰۰
 - ۲) ۴۶۰۰
 - ۳) ۴۷۰۰
 - ۴) ۵۷۰۰





۶- مستطیل چند خط تقارن دارد ؟

الف) ۲ خط تقارن ب) ۳ خط تقارن ج) ۴ خط تقارن د) ۵ خط تقارن

۷- برای اندازه گیری جرم یک جعبه ی شیرینی ، آن را در یک کفه ی ترازو گذاشتیم . جرم جعبه از ۲ کیلو گرم ، ۱۲۵ گرم بیشتر است. جرم جعبه ی شیرینی چقدر است ؟

۸- دهانه ی پرگار را به اندازه ی ۲ سانتی متر باز کردیم ، اندازه ی شعاع و قطر دایره چند سانتی متر است ؟

الف) شعاع : ب) قطر :

۹- مغازه داری یک بستنی را ۴۵۰ تومان می خرد و ۴۸۰ تومان می فروشد . او از فروش ۵ بستنی چند تومان سود می کند ؟

۱۰- اتوبوسی ۸ صبح از تهران به سوی ساری حرکت کرد و بعد از ۵:۱۵ به ساری رسید. این اتوبوس چه زمانی به ساری رسیده است ؟ به دو صورت بیان کنید.

۱۱- گسترده ی هر عدد را بنویسید .

الف) = ۱۰۹۵ ب) = ۴۶۵۳

۱۲- یک زمین کشاورزی را به سه قسمت مساوی تقسیم کرده اند. در ۲ قسمت آن گندم و یک قسمت باقی مانده زمین را به دو قسمت مساوی تقسیم کرده و در یک قسمت آن یونجه و در قسمت دیگر جو کاشته اند . به سوالات زیر پاسخ دهید .

الف) چه کسری از زمین گندم کاشته شده است ؟


ب) چه کسری از زمین جو کاشته شده است ؟

ج) چه کسری از زمین یونجه کاشته شده است ؟



بازخورد:





موضوع:

تاریخ:

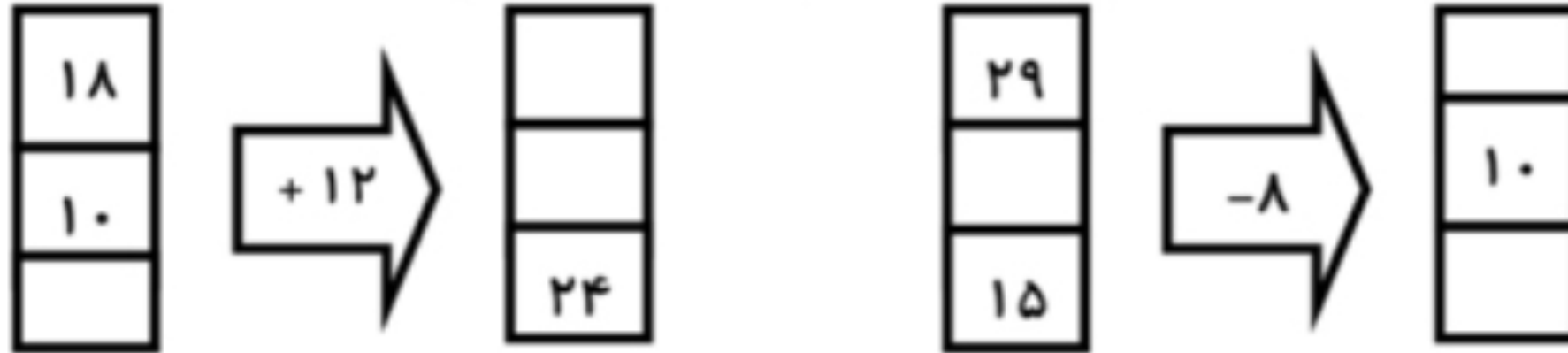
نام و نام خانوادگی:

هدف:

۱- الگوهای شمارش رو به عقب را کامل کنید.

..... ، ۲۰، ۲۴، ۲۸ ، ۳۳، ۳۹، ۴۵

۲- با توجه به کاری که هر ماشین انجام می دهد ، ماشین ورودی و خروجی زیر را کامل کنید.



۳- جدول زیر را کامل کنید.

زمان	۱۴:۳۰	نوزده و ربع	۱۷:۴۵	۲۳:۵۵
بعد از ظهر	۴	۱:۳۰

۴. جاهای خالی را به شکل مناسب پر کنید.

- ۲۳۵۴ می شود یکی و ده تایی صدتایی و هزرتایی .

- بزرگترین عدد سه رقمی و کوچک ترین عدد چهار رقمی است .


۵. با رقم های (۵ و ۶ و ۹ و ۰) چند عدد چهار رقمی می توان نوشت ؟ آن ها را بنویسد و کوچک ترین و

بزرگترین آن ها را مشخص نمایید .

۶. با رسم شکل حاصل جمع و تفریق ها را به دست آورید.

$۳۱۴۱ + ۲۱۲۴ =$

$۷۰۴۶ - ۲۲۲۰ =$



بازخورد:

Handwritten feedback area with horizontal lines.





موضوع:

تاریخ:

نام و نام خانوادگی:

هدف:

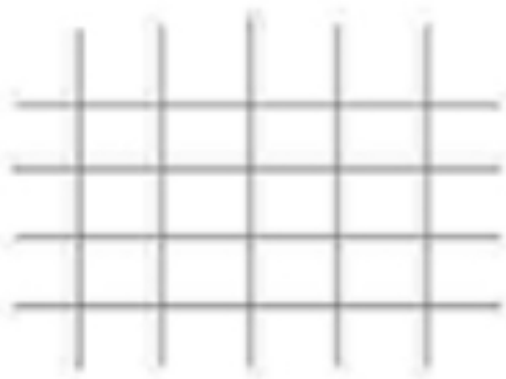


۴) با توجه به عددی که شکل نشان می‌دهد. جاهای خالی را به‌طور مناسب پر کنید.



شکل، عدد (۴۲۶۳ - ۲۳۴۶) را نشان می‌دهد. که عددی (۳ - ۴) رقمی است. رقم (۳ - ۴) در مرتبه‌ی هزارگان قرار دارد و جمع رقم‌های یکان و صدگان (۵ - ۹) می‌شود.

۵) از صفحه شطرنجی استفاده نموده. یک شکل متقارن به دلخواه کشیده و خط تقارن آن را مشخص نمایید.



۶) تمام عددهای سه رقمی را بنویسید که صدگان آن‌ها ۴، دهگان آن‌ها ۵ یا صفر و یکان آن‌ها ۹ یا ۸ باشد.

۷) ساختمان ۳ طبقه‌ای داریم. بالاترین طبقه‌ی آن ۱ واحد دارد اما هر طبقه که پایین می‌رویم یک واحد اضافه می‌شود. اگر در هر واحد ۲ اتاق داشته باشد:
الف) جدول را کامل کنید.
ب) طبقه دوم چند واحد دارد؟
پ) طبقه‌ی اول چند اتاق دارد؟

طبقه	
واحد	
اتاق	

ریاضی سوم دبستان

طرح سنجش استعداد: مدار فرزند ۱. توصیفی

زمان: ۴۵ دقیقه

هفته چهارم آبان

نام خانوادگی:

نام:

شماره ملی:

شعبه: کلاس:

۱) هر ساعت را به معادل بعدازظهر آن وصل کنید.

- ساعت ۱۵
- ساعت ۲۳
- ساعت ۱۷
- ساعت ۲۰
- یازده بعدازظهر
- پنج بعدازظهر
- سه بعدازظهر
- هشت بعدازظهر

۲) جملات درست را با علامت ✓ و نادرست را با علامت ✗ مشخص کنید.

- الف) ۱۰۰۰ کلوچه در یک کیسه فریزر جا می‌شود.
- ب) ۵ هزارتایی و ۳ هزارتایی می‌شود ۸ هزارتایی
- پ) ۲۰۰ تومان برابر ۲۰۰۰ ریال
- ت) ۴ هزارتایی و ۹ ده‌تایی می‌شود ۴۹۰۰

۳) در هر مورد گزینه‌ی درست را مشخص کنید.

الف) شکل مقابل از چند مکعب ساخته شده است؟



- ۶ (۱)
- ۷ (۲)
- ۸ (۳)
- ۹ (۴)

ب) جای خالی در ماشین ورودی - خروجی زیر با چه عددی پر می‌شود؟



- ۶ (۱)
- ۷ (۲)
- ۸ (۳)
- ۷ (۴)

