



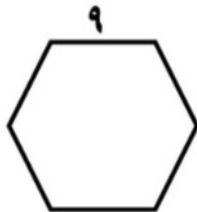
موضوع:

تاریخ:

نام و نام خانوادگی:

هدف:

۵- محیط شکل های زیر را با استفاده از روش جمع و ضرب بدست آورید.



روش ضرب:

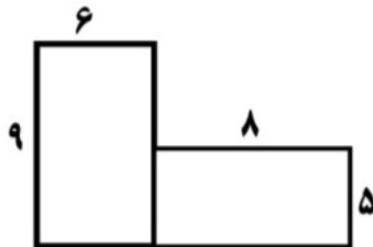
روش جمع:



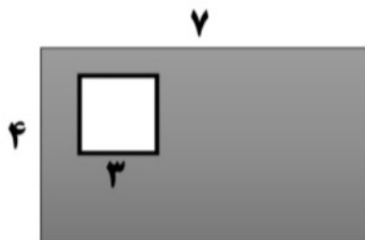
روش ضرب:

روش جمع:

۶- مساحت شکل زیر را حساب کنید.



۷- مساحت قسمت رنگ شده را بدست آورید.



۸- محیط یک مربع ۳۲ سانتی متر است . مساحت این مربع چند سانتی متر مربع است ؟

۹- مساحت یک مستطیل ۵۴ سانتی متر است . اگر طول آن ۹ سانتی متر باشد ،

عرض آن چند سانتی متر است ؟



موضوع:


تاریخ:

نام و نام خانوادگی:

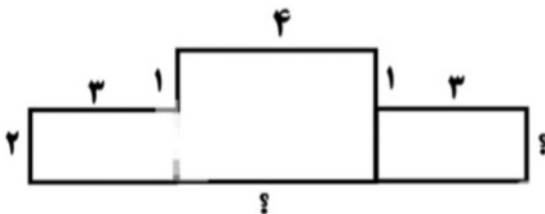
هدف:

۱- فرزند عزیزم یک پاره خط ، خط و نیم خط بکش و آنها را نام گذاری کن.  
کدام یک را میتوان اندازه گرفت؟ چرا؟


۲- قطر شکل های زیر را رسم کنید.



۳- محیط شکل زیر را به دست بیاورید.




۴- یک استخر به طول ۸ متر و عرض ۶ متر داریم. اگر بخواهیم دورتادور این استخر را نرده بکشیم به چند متر نرده احتیاج داریم؟



۳- دانش آموز گلم مساحت قسمت رنگی شکل های زیر را پیدا کنید.

۶ سانتی متر

۳ سانتی متر



مساحت مستطیل :

مساحت مربع :

مساحت قسمت رنگی :

۹ سانتی متر




مساحت مربع :

مساحت مستطیل :

مساحت قسمت رنگی :

۹ سانتی متر

۸ سانتی متر



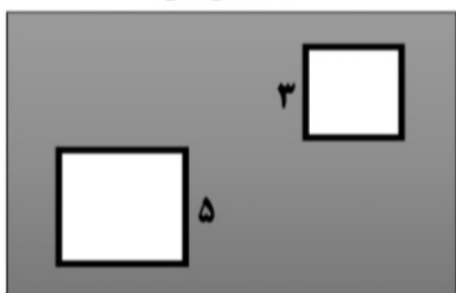
مساحت مستطیل یک :

مساحت مستطیل دو :

مساحت قسمت رنگی :

۹ سانتی متر

۷ سانتی متر




مساحت مستطیل :

مساحت مربع کوچک :

مساحت مربع بزرگ :

مساحت قسمت رنگی :





۲- دانش آموز عزیزم مساحت شکل های ترکیبی زیر را پیدا کنید.

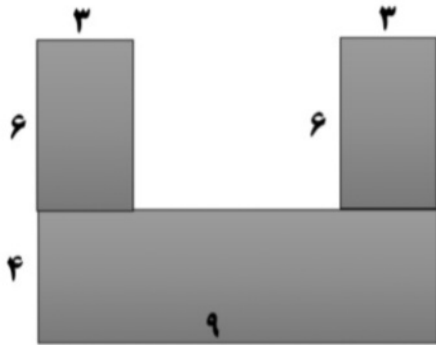


۱ مساحت شکل :

۲ مساحت شکل :

۳ مساحت شکل :

مساحت کل شکل :

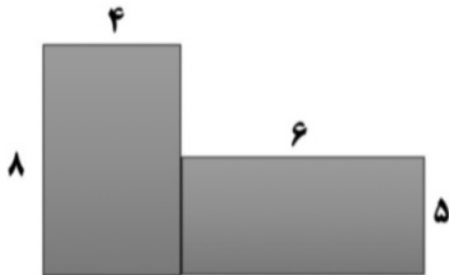


۱ مساحت شکل :

۲ مساحت شکل :

۳ مساحت شکل :

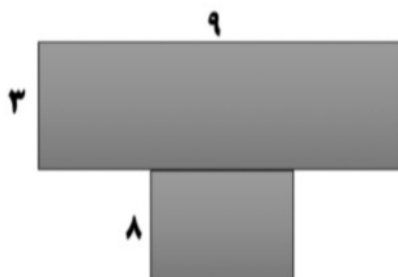
مساحت کل شکل :



۱ مساحت شکل :

۲ مساحت شکل :

مساحت کل شکل :



۱ مساحت شکل :

۲ مساحت شکل :

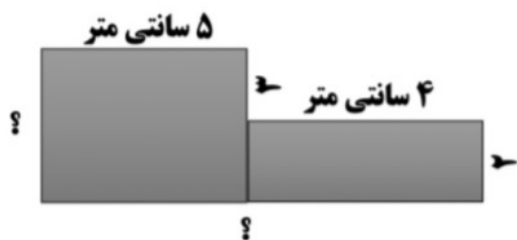
مساحت کل شکل :



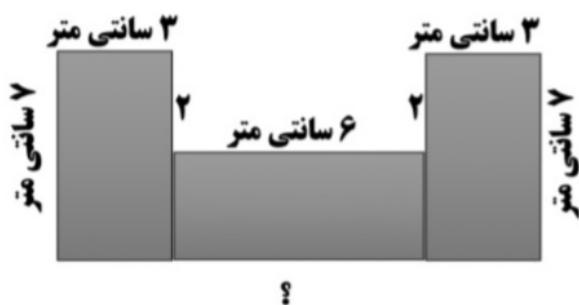




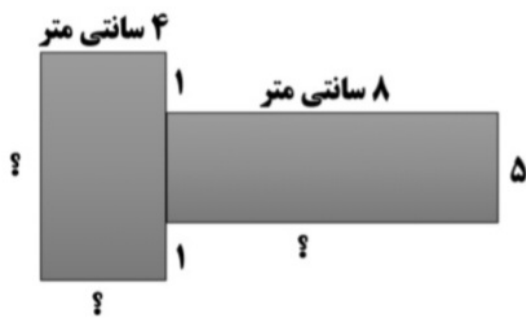
۳- نازنینم با توجه به اندازه ی ضلع های داده شده ، طول ضلع های نامشخص را پیدا کنید و با نوشتن جمع محیط هر شکل را پیدا کنید.



محیط شکل :



محیط شکل :



محیط شکل :



محیط شکل :











موضوع:

تاریخ:

نام و نام خانوادگی:

هدف:

۱- دانش آموز عزیزم مساحت شکل های زیر را پیدا کنید. (برای هر شکل فرمول مناسب بنویسید)

<p>۹ سانتی متر</p> 	<p>۹ سانتی متر</p>  <p>۴ سانتی متر</p>
<p>۸ سانتی متر</p> 	<p>۸ سانتی متر</p>  <p>۹ سانتی متر</p>
<p>۶ سانتی متر</p> 	<p>۷ سانتی متر</p>  <p>۶ سانتی متر</p>

\_\_\_\_\_

\_\_\_\_\_

\_\_\_\_\_

