

موضوع: فصل ۳

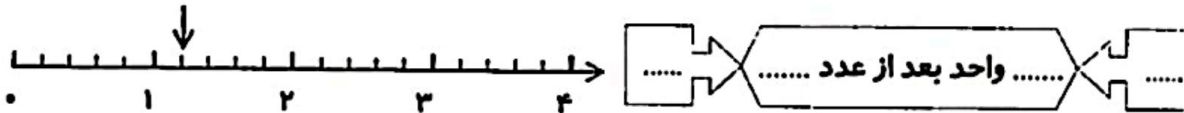
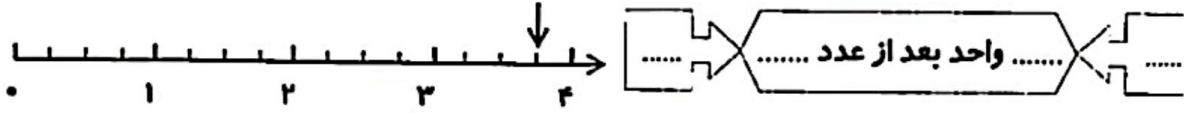
تاریخ

نام و نام خانوادگی

صفحه ۵

هدف: مرور دانسته ها

۵- نقطه‌ی مشخص شده روی هر محور، چه عددی است و بین چه عددهایی قرار دارد؟

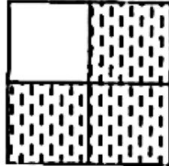


۶- یک دایره به شعاع ۲ سانتی‌متر رسم کن و به سؤالات زیر پاسخ بده.

الف) جای نوک سوزن پرگار چه نام دارد؟ .....

ب) قطر این دایره چند سانتی‌متر است؟ .....

۷- ابتدا کسر مربوط به شکل را بنویس، سپس کسر مساوی با آن را بنویس. (روی شکل نشان بده).



\_\_\_\_\_ = \_\_\_\_\_



۸- به سؤالات پاسخ بده.




الف) با چه وسیله‌ای زاویه‌ی راست را می‌توان تشخیص داد؟ .....

ب) شکل مقابل چند زاویه راست دارد؟ .....

۹- زمان ساعت‌های زیر را با «ربع» و «نیم» بخوان و بنویس.



.....




.....

۱۰- جمع و تفریق‌های زیر به واحد ریال هستند. آن‌ها را به واحد تومان بنویس.

$7000 + 200 + 60 = \Rightarrow \dots + \dots + \dots = \dots$

$5980 - 2630 = \Rightarrow \dots - \dots = \dots$



موضوع: فصل ۳

تاریخ

نام و نام خانوادگی

صفحه ۴

هدف: مرور دانسته‌ها

۱- یک باغچه‌ی مستطیل‌شکل را به ۵ قسمت مساوی تقسیم کرده‌اند. در یک قسمت آن، بادمجان و در



قسمت دیگرش، گوجه‌فرنگی کاشته‌اند. چه مقدار از این باغچه،

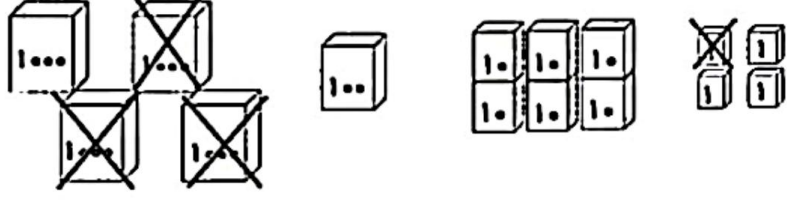
باقی مانده است؟ (روی شکل مشخص کن.)

..... قسمت از ..... قسمت مساوی باقی مانده است.

۲- جمع و تفریق مربوط به شکل‌ها را بنویس.



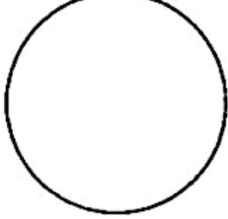
..... + ..... = .....



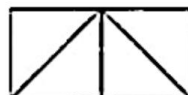
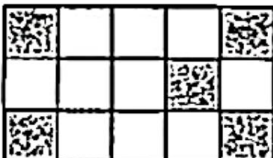
..... - ..... = .....

۳- دایره‌ی زیر را به چهار قسمت مساوی، تقسیم کن. سپس هر قسمت را به سه قسمت مساوی تقسیم

کن. این دایره به چند قسمت مساوی کوچک، تقسیم شده است؟



۴- برای هر شکل، یک کسر مناسب بنویس.



.....

.....

.....



موضوع: فارسی درس اول تا آخر فصل ۵

تاریخ

نام و نام خانوادگی

صفحه ۴

هدف: مرور دانسته ها

۵- در متن زیر، علائم نگارشی { : ، - ، - ، - ، - } را قرار بده.



- شبی جوجه‌ها به پدر و مادر خود گفتند ○○ امروز صاحب کشتزار ○  
 پسرش را نزد همسایه‌ها فرستاد تا از آن‌ها بخواهد که فردا برای درو ○  
 به کمک آن‌ها بیایند ○○ یکی از جوجه‌ها با نگرانی گفت ○○  
 اگر فردا این کشتزار را درو کنند ○ چه کنیم ○○

۶- با توجه به تصویر، دو سطر درباره‌ی آن بنویس.



.....  
 .....

۷- جمله‌های ناتمام زیر را کامل کن و بنویس.

- ✧ معلم از دانش‌آموزان خواست که .....  
 ✧ برای انجام کارها نباید به امید دیگران باشیم، زیرا .....

۸- کلمه‌ی زیر، به چند شکل خوانده می‌شود؟ با هر شکل آن، یک جمله بنویس.



- شکر: .....  
 شکر: .....

۹- فعل جمله‌ی زیر را به زمان حال، تبدیل کن.


- خواهر و برادرهای مورچه ریزه، خاک‌بازی کردند.

.....

۱۰- کلمات هم‌معنی را با خط به هم وصل کن.

- |                     |             |
|---------------------|-------------|
| ✧ خوشایند و پسندیده | ✧ طراوت     |
| ✧ بدون تحمل         | ✧ دل‌نشین   |
| ✧ کشاورز            | ✧ بی‌صبرانه |
| ✧ شادابی            | ✧ منتظر     |
| ✧ چشم‌به‌راه        | ✧ برزگر     |





موضوع: فارسی درس اول تا آخر فصل ۵

تاریخ

نام و نام خانوادگی

صفحه ۳

هدف: مرور دانسته ها

۱- با هریک از کلمات زیر، یک جملهی زیبا بنویس.



- گردش علمی: .....
- موفقیّت: .....
- موضوع: .....
- انتظار: .....

۲- هر عبارت زیر را با توجه به نشانهی «ی» یا «-» کامل کن و در جدول بنویس.

نماینده گروه، اطراف لانه، نوشته شما، صاحب کشتزار، کلاس منظم، آشیانه بلدرچین

«-»	«ی»
.....	.....
.....	.....
.....	.....



۳- هم خانوادگی کلمات زیر را بنویس.

غریق ← .....  
 صبور ← .....  
 لحظه ← .....  
 متعجب ← .....

۴- جملات زیر را از شکل گفتاری به نوشتاری تبدیل کن و بنویس.


① انسان عادت داره محیط زندگیشو پاکیزه نگه داره.

.....

② بهم گفته بود که فردا می آد خونمون.

.....





موضوع: فصل ۱ تا ۴

تاریخ

نام و نام خانوادگی

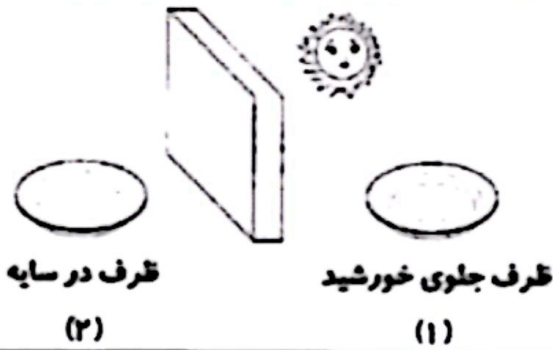
صفحه ۱

هدف: مرور دانسته ها



تبخیر  
لیتر  
ترازو  
گاز  
ذوب  
جرم

- ۱- با استفاده از کلمه های داده شده، جملات زیر را کامل کن.
- الف) به موادی مانند هوا که در همه جای ظرف پخش می شوند، ..... می گویند.
- ب) تبدیل ماده از حالت جامد به حالت مایع، ..... نامیده می شود.
- ج) برای اندازه گیری مقدار مایعات، از واحدی به نام ..... استفاده می کنیم.
- د) جرم اجسام را با وسیله ای به نام ..... اندازه گیری می کنند.



- ۲- کدام یک زودتر تبخیر می شود؟ ظرف شماره ی .....  
چرا؟ .....



- ۳- آب در طبیعت به چه حالت هایی دیده می شود؟  
.....

- ۴- مفاهیم زیر را تعریف کن.

↓ تبخیر:

↓ جرم:



- ۵- آیا جرم این سه شیشه یکسان است؟ .....

چرا؟ .....

- ۶- انواع ترازوها را نام ببر و کاربرد یکی از آنها را بنویس. (۴ مورد)



.....  
.....  
.....