



مرور فصل پنجم

موضوع:

تاریخ


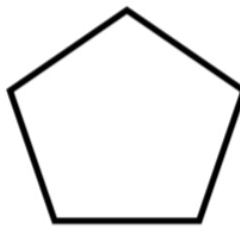
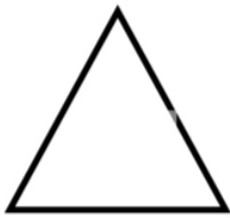
نام و نام خانوادگی

هدف:

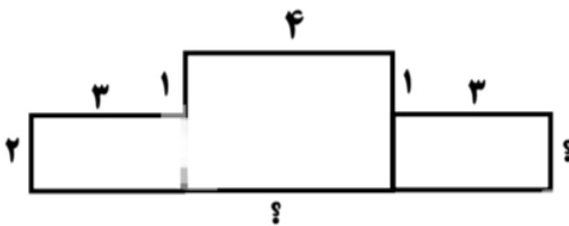
۱- فرزند عزیزم یک پاره خط ، خط و نیم خط بکش و آنها را نام گذاری کن.

کدام یک را میتوان اندازه گرفت؟ چرا؟

۲- قطر شکل های زیر را رسم کنید.



۳- محیط شکل زیر را به دست بیاورید.



۴- یک استخر به طول ۸ متر و عرض ۶ متر داریم. اگر بخواهیم دورتادور این استخر را نرده بکشیم به

چند متر نرده احتیاج داریم؟



مرور فصل پنجم

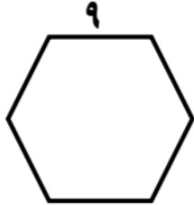
موضوع:

تاریخ:

نام و نام خانوادگی:

هدف:

۵- محیط شکل های زیر را با استفاده از روش جمع و ضرب بدست آورید.



روش ضرب:

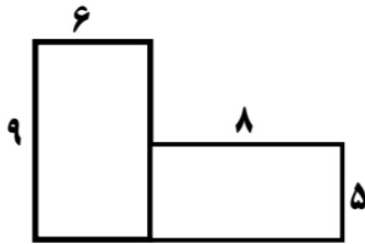
روش جمع:



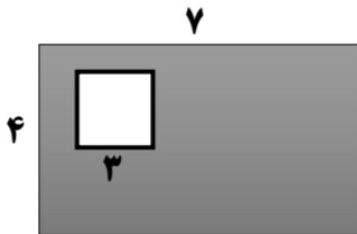
روش ضرب:

روش جمع:

۶- مساحت شکل زیر را حساب کنید.



۷- مساحت قسمت رنگ شده را بدست آورید.



۸- محیط یک مربع ۳۲ سانتی متر است . مساحت این مربع چند سانتی متر مربع است ؟

۹- مساحت یک مستطیل ۵۴ سانتی متر است . اگر طول آن ۹ سانتی متر باشد ،

عرض آن چند سانتی متر است ؟