

علوی

بنام خداوند جان و خرد

پایه:
سوم

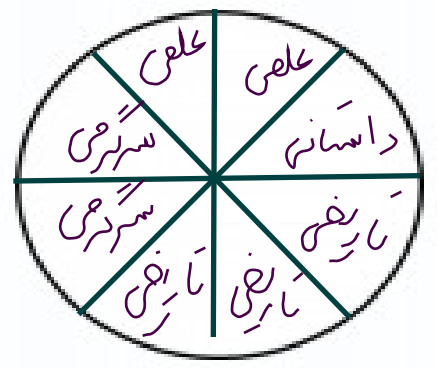
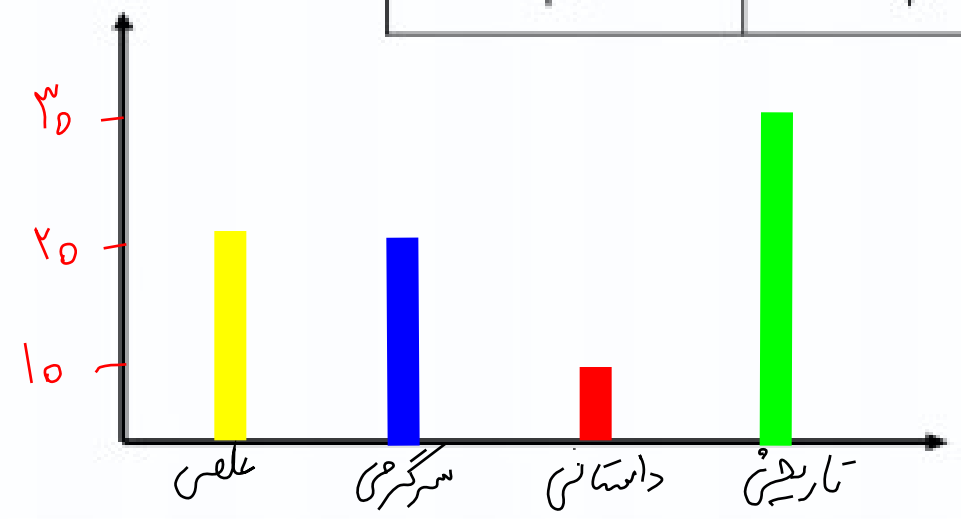


نام و نام خانوادگی: _____ تاریخ: _____ موضوع: فصل هفتم (آمار و احتمال) هدف: مرور فصل هفتم (آمار و احتمال)

۷) اطلاعات مربوط به کتاب های سحر در جدول زیر آمده است. نمودارهای دایره ای و ستونی مربوط به این جدول را رسم کنید.

$$30 + 10 + 20 + 20 = 80$$

نوع	علمی	سرگرمی	داستانی	تاریخی
تعداد	20	20	10	30



$80 \div 10 = 8$
 ؟ ای صحت تقسیم می کنیم



نام و نام خانوادگی

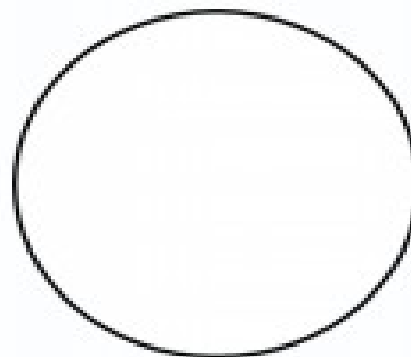

تاریخ

موضوع: فصل هفتم (آمار و احتمال)

هدف: مرور فصل هفتم (آمار و احتمال)

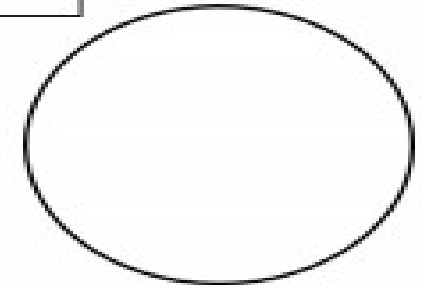
۷) اطلاعات مربوط به کتاب های سحر در جدول زیر آمده است. نمودارهای دایره ای و ستونی مربوط به این جدول را رسم کنید.

نوع	علمی	سرگرمی	داستانی	تاریخی
تعداد	۲۰	۲۰	۱۰	۳۰



۸) با توجه به جدول داده شده، کارهای مینا را با رنگ کردن روی نمودار دایره ای نشان دهید.

فعالیت	صبحانه خوردن	درس خواندن	ناهار و استراحت	سرگرمی	مرتب کردن اتاق
زمان	۸ - ۹	۹ - ۱۲	۱۲ - ۱۴	۱۴ - ۱۶	۱۶ - ۱۸
مقدار ساعت					



۹) تعداد مسافرانی که به چند شهر سفر کرده اند در جدول زیر آمده است. نمودار تصویری مربوط به آن را رسم کنید. هر ۱۰۰۰ نفر را با \bigcirc نشان دهید.

نام شهر	مشهد	اصفهان	شیراز	تبریز
تعداد مسافر	۵۰۰۰	۴۰۰۰	۴۰۰۰	۲۰۰۰

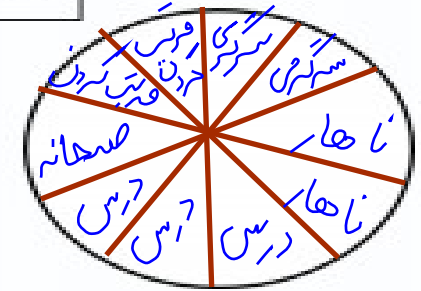


شهر \longrightarrow

۸) با توجه به جدول داده شده، کارهای مینا را با رنگ کردن روی نمودار دایره ای نشان دهید.

فعالیت	صبحانه خوردن	درس خواندن	ناهار و استراحت	سرگرمی	مرتب کردن اتاق
زمان	۸ - ۹	۹ - ۱۲	۱۲ - ۱۴	۱۴ - ۱۶	۱۶ - ۱۸
مقدار ساعت	۱	۳	۲	۲	۲

$$۲ + ۲ + ۲ + ۳ + ۱ = ۱۰$$



۹) تعداد مسافرانی که به چند شهر سفر کرده اند در جدول زیر آمده است. نمودار تصویری مربوط به آن را رسم کنید. هر ۱۰۰۰ نفر را با \bigcirc نشان دهید.

نام شهر	مشهد	اصفهان	شیراز	تبریز
تعداد مسافر	۵۰۰۰	۴۰۰۰	۴۰۰۰	۲۰۰۰

