

موضوع: فصل ۴

تاریخ

نام و نام خانوادگی

صفحه ۶

هدف: مرور دانسته ها

۱- با اضافه کردن ۴۲۳ به کدام عدد، حاصل جمع ۱۰۰۰ به دست می آید؟ (توضیح بده).

$$\square + 423 = \square$$



۲- به هر یک از عددهای زیر، ۱۳۰۰ تا اضافه کن و زیر آن بنویس.



۶۴۰	۵۸	۹	۳۴۰۰

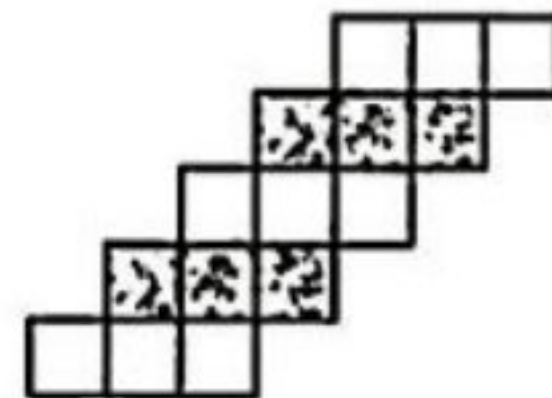
۳- یک فروشنده نوعی دفتر را به قیمت ۷۰۰ تومان می خرد و ۸۰۰ تومان می فروشد. این فروشنده با فروش هر دفتر، چند تومان سود می کند؟ (جدول را کامل کن).

الف) اگر ۹ دفتر بفروشد، چند تومان سود می کند؟

ب) چند دفتر بفروشد تا با سود آن، یک دفتر بخرد؟

تعداد دفتر	۱	۲	۳	۴	۵	۶	۷	۸	۹	۱۰
سود	۱۰۰									

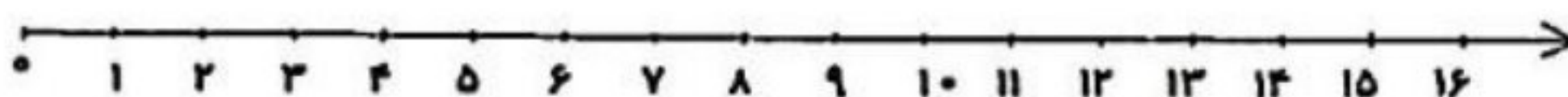
۴- با توجه به شکل، در جای خالی، عدد مناسب بنویس.




..... دسته تایی می شود مربع

..... دسته تایی می شود مربع

۵- تساوی زیر را روی محور نشان بده.



$$7 \times 2 = 2 \times 7$$



موضوع: فصل ۴

تاریخ

نام و نام خانوادگی

صفحه ۷

هدف: مرور دانسته ها

۶- هر کدام از عددهای زیر، بین کدام دو عدد قرار دارد؟ (مشخص کن.)

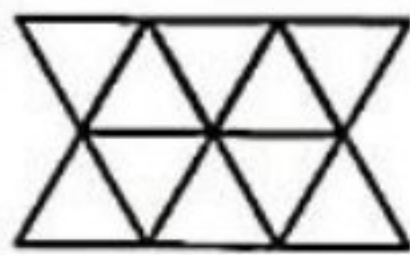
← $\frac{1}{4}$ واحد مانده به عدد ۵ →

 ← $\frac{3}{4}$ واحد بعد از عدد ۳ →

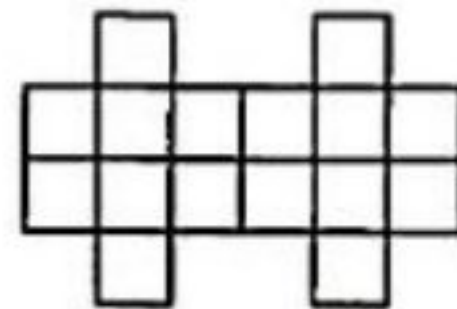
۷- در یک فروشگاه، ۲ بسته‌ی ۶ تایی مداد سیاه و ۳ بسته‌ی ۷ تایی مداد قرمز وجود دارد. این فروشگاه چند مداد سیاه و قرمز دارد؟




۸- به کمک خط تقارن، عبارت ضرب مربوط به هر شکل را بنویس.



..... × =



..... × =




۹- $\frac{4}{8}$ از شکل‌ها را با مداد قرمز و $\frac{1}{8}$ را با مداد سیاه رنگ بزن.

الف) چه کسری از شکل‌ها، رنگ نشده است؟
ب) چه کسری از شکل‌ها، رنگی است؟

۱۰- جرم یک قوطی روغن ۵ کیلوگرم است. اگر جرم ظرف آن ۳۵۰ گرم باشد، جرم روغن خالص چند کیلوگرم و چند گرم است؟

..... کیلوگرم و گرم

۱۱- در جای خالی، عدد مناسب بنویس.




الف) ساعت ۱۵ یعنی ساعت بعد از ظهر.
ب) یک شبانه‌روز و ۳ ساعت یعنی ساعت.

۱۲- برای تساوی ضرب، جمع و برای تساوی جمع، ضرب بنویس.

$4 \times 7 =$

$6 + 6 + 6 + 6 + 6 =$



نام و نام خانوادگی


تاریخ

موضوع: فصل ۴

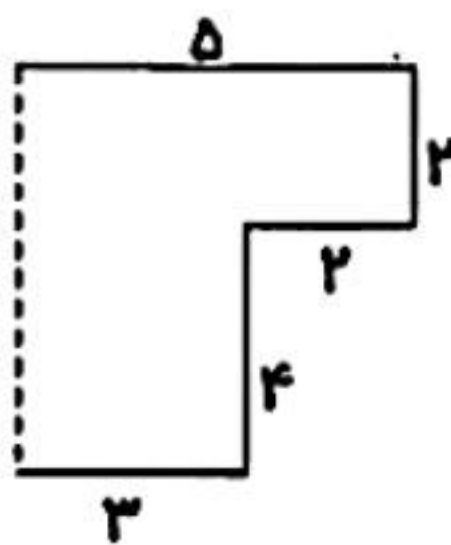
صفحه ۸

هدف: مرور دانسته ها

۱۳- با توجه به عبارت زیر، شکل را دسته بندی کن و پاسخ آن را به دست آور.



$$18 + 6 = \square$$

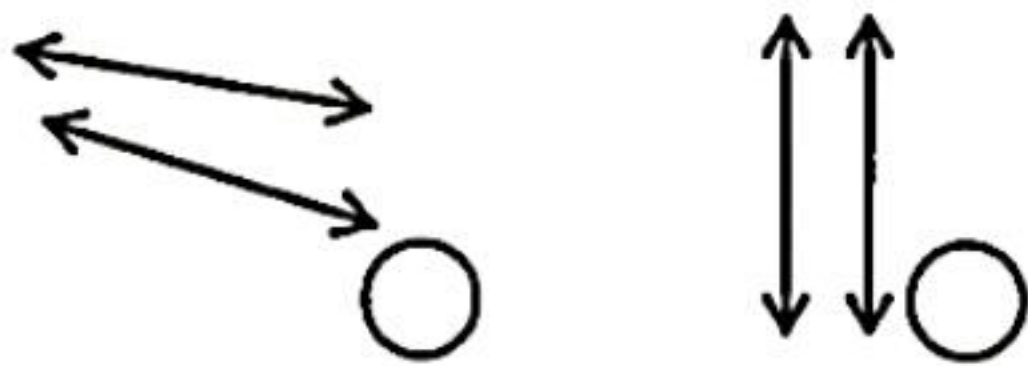


۱۴- اندازه ی ضلع خط چین، چند سانتی متر است؟

چگونه محاسبه کردی؟

۱۵- هر دست بشقاب، ۶ عدد بشقاب است. ۲۴ عدد بشقاب چند دست بشقاب است؟

۱۶- کدام دو خط، خط های موازی هستند؟ (علامت بزنی).




* چرا موازی هستند؟



۱۷- به یکی از دو سؤال زیر، پاسخ بده.

۱- احسان ۹ تیله دارد. امیر از چهار برابر تیله های احسان ۴ تا کم دارد. امیر چند تیله دارد؟

۲- مادر مریم ۹ دست لیوان خرید. اگر از هر دست لیوان یک لیوان، شکسته باشد، او چند لیوان دارد؟



موضوع: فصل ۱ تا ۴

تاریخ

نام و نام خانوادگی

صفحه ۲

هدف: مرور دانسته ها

۷- مواد زیر را در دو گروه جامد و مایع طبقه بندی کن و در جدول بنویس.

مایع	جامد



یک شباهت و یک تفاوت برای گروه های جامد و مایع بنویس.

شباهت:

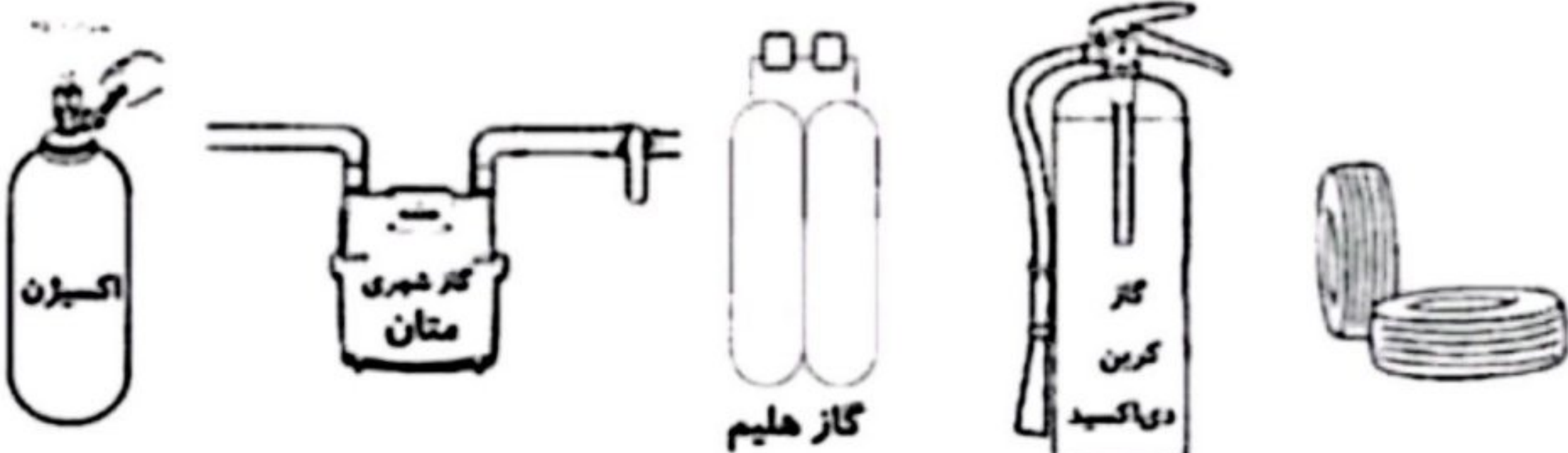
تفاوت:

۸- اگر جرم مقداری نارگیل را اندازه گیری کنیم، سپس نارگیل را خرد کنیم و جرم خرده ها را اندازه گیری کنیم. آیا تغییری در جرم آن ایجاد می شود؟



چرا؟

۹- تصویرهای زیر، استفاده های گوناگون از گازها را در زندگی نشان می دهند. هر تصویر را به گاز مورد استفاده در آن وصل کن.





موضوع: فارسی درس اول تا آخر ۸

تاریخ

نام و نام خانوادگی

صفحه ۵

هدف: مرور دانسته ها

۱- جملات مربوط به هر گروه از کلمات زیر را بنویس.



به، دهقانان، معلمان، ما، افتخار می کنیم، این گونه، و، فداکار، دانش آموزان

مگر، سعادت مند، نخواهید شد، چیزی را که، نیازمندان، دوست دارید، به، ببخشید، هرگز

۲- یک کلمه به واژه‌ی «سر» اضافه کن، سپس با هر یک جمله بساز و بنویس.

کسر + = :

کسر + = :

۳- کلمات هم معنی را هم رنگ کن.



افتخار

سرحال

لطیف

دلیرانه

فوری

حتمی

بانشاط

سربلندی

سریع

قطعی

نرم و خوشایند

شجاعانه

۴- با توجه به کلمه‌های داخل پرانتز، جمله‌ها را تغییر بده.

الف) من امروز به مادرم کمک می کنم. (دیروز)

ب) بچه‌ها با معلم خود به گردش می روند. (آینده)

۵- در جاهای خالی، کلمه‌ی مناسب بنویس.

..... + کش = : وسیله‌ای که دود را از خانه بیرون می کشد.

..... + گاه = : محلی که در آن ورزش می کنند.

۶- به ابتدای کلمه‌های زیر، کلمه‌ی «خوش» اضافه کن و با کلمه‌ی جدید، جمله بساز و بنویس.

خوش
 بو: :
 رفتار: :



موضوع: فارسی درس اول تا آخر ۹

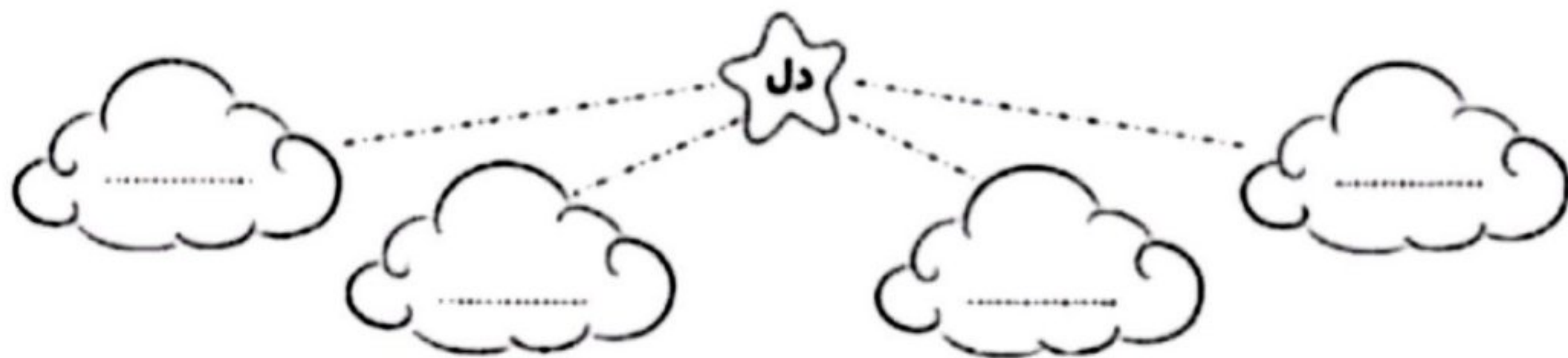
تاریخ

نام و نام خانوادگی

صفحه ۶

هدف: مرور دانسته ها

۱- واژه‌هایی بنویس که با کلمه‌ی «دل» ترکیب شده باشند.



۲- هر کلمه را با یک خط به هم معنی خودش وصل کن.

- | | |
|---------------------|------------|
| ◇ خوشایند و پسندیده | ◇ انتظار |
| ◇ مثل، مانند | ◇ بی‌انتها |
| ◇ شکیبایی | ◇ دل‌نشین |
| ◇ بی‌پایان | ◇ شیشه |

۳- کلمات در هم ریخته‌ی زیر را مرتب کن و به صورت جمله‌ی کامل بنویس.

* چشم‌نواز - رنگارنگ - پرندگان - است - پرهای

.....

* عادت - محیط زندگی - نگه‌دارد - انسان هم - خود را - دارد - پاکیزه

.....

۴- کامل کن.

▷ معلم گفت: هوای پاکیزه

▷ خیلی دلم می‌خواهد

۵- برای هر یک از کلمات زیر، یک هم‌خانواده بنویس.

- | | | | |
|-------|-------|----------|-----|
| منظم: | لطیف: | موضوعات: | حس: |
|-------|-------|----------|-----|