


۱. آقا مهدی روزی ۳ ساعت به گل‌های گلخانه‌اش رسیدگی می‌کند. او در یک هفته چند ساعت در گلخانه کار می‌کند؟

۲. آقا سلیمان ۷ تا کیسه‌ی ۸ کیلویی برنج هاشمی و ۴ تا کیسه‌ی ۵ کیلویی برنج طارم خریده است. او روی هم چند کیلو برنج خریده است؟

۳. اگر ۱۱ واحد از من کم کنی، حاصل من کوچک‌ترین عدد چهار رقمی فرد می‌شود. من چه عددی هستم؟

۴. عبارت‌های ضربی که حاصل برابر دارند را با یک رنگ، رنگ‌آمیزی کن.



۵. کدام یک از شکل‌های زیر، خط‌های موازی کمتری دارد؟ آن شکل را رنگ کن.



۶. در یک خیابان سه اتومبیل و تعدادی موتور وجود دارد. اگر مجموع چرخ‌های آنها ۳۰ باشد، چند موتور در آن خیابان وجود دارد؟

تاریخ:


نام و نام خانوادگی:

# تقسیم

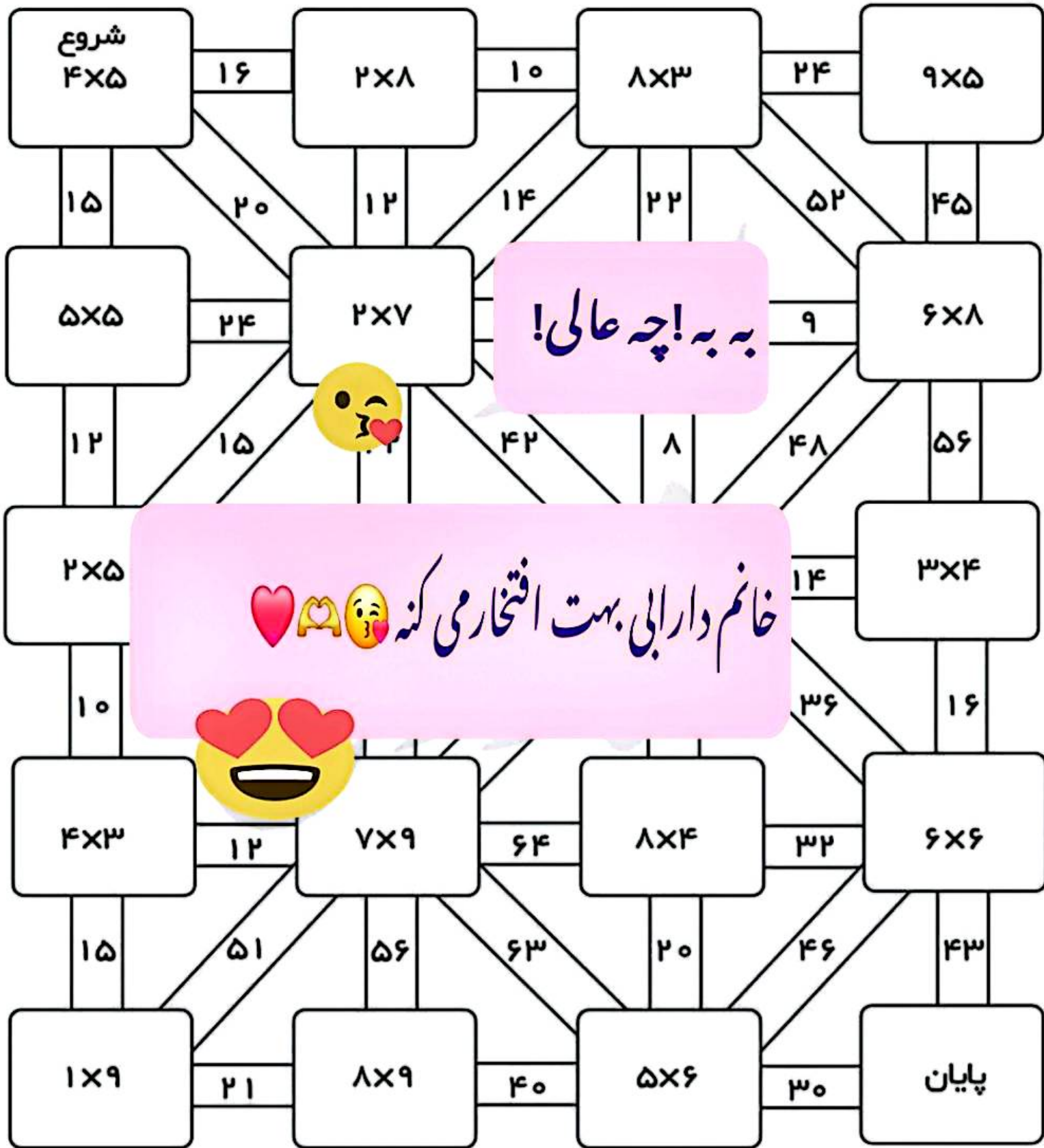



تقسیم ها رو انجام بده و رنگ کن.

|        |               |         |               |
|--------|---------------|---------|---------------|
| قرمز   | $9 \div 3 =$  | سبز     | $16 \div 2 =$ |
| زرد    | $10 \div 5 =$ | بنفش    | $15 \div 3 =$ |
| آبی    | $18 \div 2 =$ | صورتی   | $21 \div 3 =$ |
| نارنجی | $12 \div 3 =$ | قهوه ای | $20 \div 2 =$ |




ریاضی دان دانا، از نقطه ی شروع حاصل ضرب داخل مربع را پیدا کن و مسیر را رنگ آمیزی کن تا به نقطه ی پایان برسی.





ریاضی سوم ابتدایی  
صفحه ۷۲

۲۳- حاصل عبارات زیر را به دست آورید.

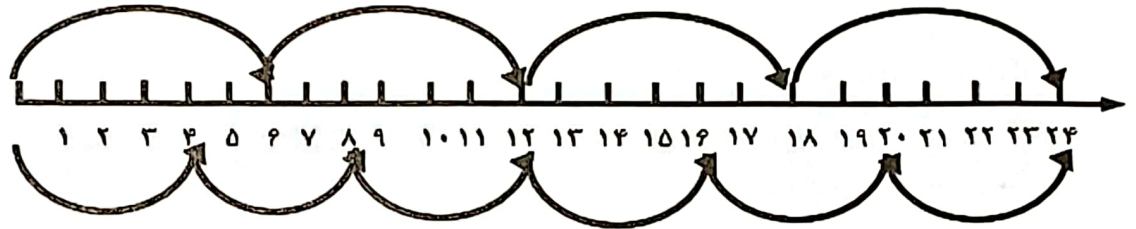


$$8 \times 5 = (8 \times \dots) + (8 \times \dots) = \dots + \dots = \dots$$

$$9 \times 4 = (5 \times 4) + (4 \times \dots) = \dots + \dots = \dots$$

$$6 \times 8 = (6 \times \dots) + (6 \times \dots) = \dots + \dots = \dots$$

۲۴- تساوی ضرب را به کمک محور محور بنویسید.



$$\dots \times \dots = \dots \times \dots$$

