

# زنگ ریاضی





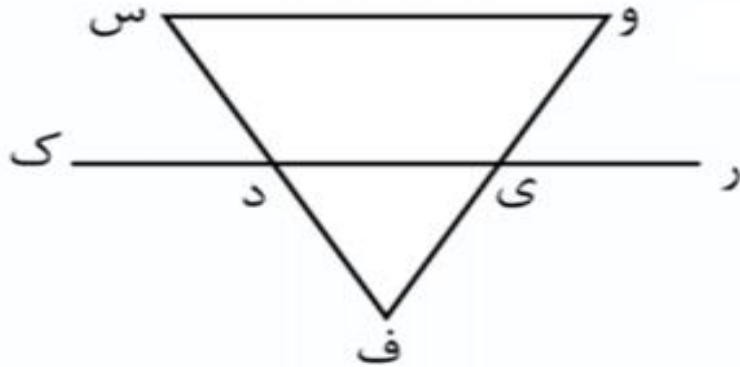
نام و نام خانوادگی

تاریخ


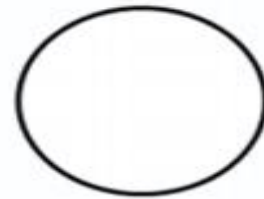
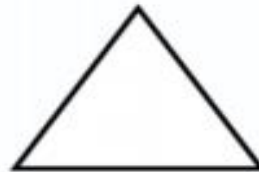

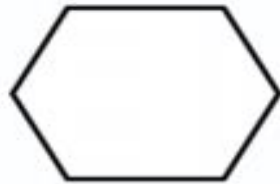
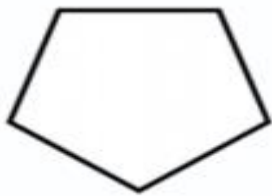
موضوع: فصل پنجم (محیط و مساحت)

هدف: مرور فصل پنجم (محیط و مساحت)

۱) در این شکل ..... پاره خط و ..... نیم خط و ..... خط راست وجود دارد.



۲) نام هر شکل را بنویسید و قطرهای آن را بکشید.



.....

.....

.....

.....

.....

.....

۳) محیط و مساحت شکل های زیر را به دست آورید.

