

نام و نام خانوادگی

تاریخ

موضوع: فصل ۵

صفحه ۹

هدف: مرور دانسته ها

۱- در الگوی شمارش ۹ تا ۹ تا هفتمین عدد کدام است؟


(د) ۵۴

(ج) ۶۳

(ب) ۸۱

(الف) ۷۲

۲- کدام قطعه مربوط به شکل است؟ (علامت ✓ بزن.)

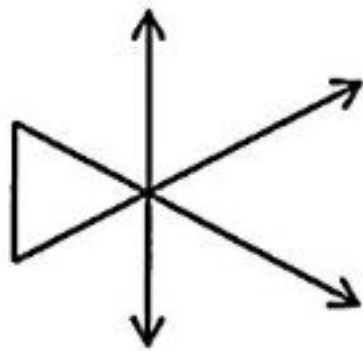


۳- قد مهیار ۱۲۴ سانتی متر است و قد سجّاد ۳۷ سانتی متر از قد مهیار بیش تر است.

(الف) قد سجّاد چند سانتی متر است؟

(ب) قد آن‌ها روی هم چند سانتی متر است؟

۴- شکل زیر از چند پاره خط، نیم خط و خط راست شده است؟

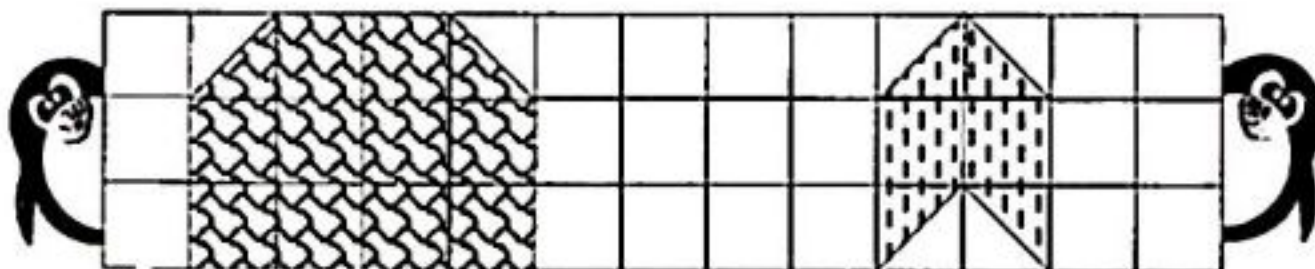


تعداد پاره خط:

تعداد نیم خط:

تعداد خط راست:

۵- مساحت هر شکل چند سانتی متر مربع است؟



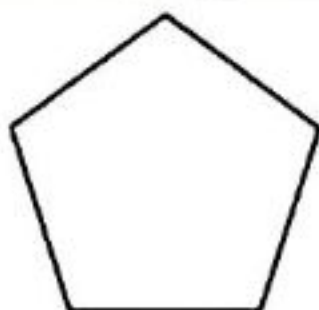
..... سانتی متر مربع


..... سانتی متر مربع

۶- با توجه به شکل، پاسخ بده.

(الف) نام شکل چیست؟

(ب) شکل چند قطر دارد؟ قطرهایش را رسم کن.





موضوع: فصل ۵

تاریخ

نام و نام خانوادگی

صفحه ۱

هدف: مرور دانسته ها

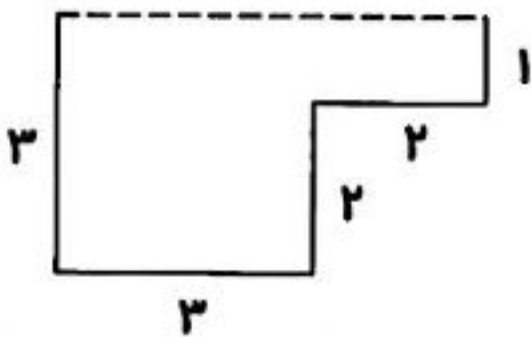


۷- در جاهای خالی، کلمه‌ی مناسب بنویس.

الف) اندازه‌ی دورتادور هر شکل را آن شکل می‌گویند.

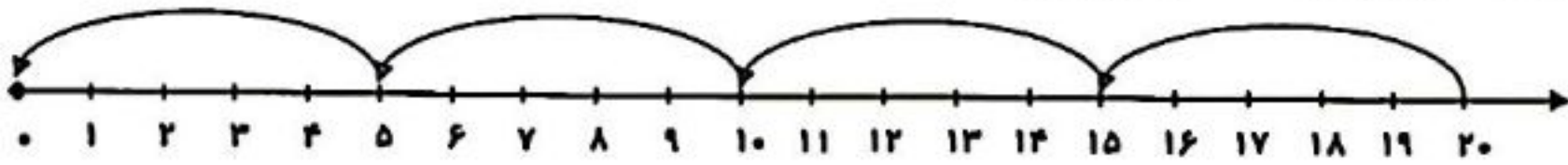
ب) یک متر برابر است با میلی‌متر.

۸- ابتدا اندازه‌ی ضلع داده نشده (خط‌چین) را پیدا کن و سپس محیط شکل را به دست آور.



۹- سیما ۹ ساله است. سن مادرش ۵ برابر سن سیما است. مادر سیما چند ساله است؟

۱۰- برای محور زیر، یک تساوی بنویس.



..... ÷ =

۱۱- طول مستطیلی ۹ سانتی‌متر و عرض آن ۵ سانتی‌متر است. مساحت مستطیل چند سانتی‌متر مربع

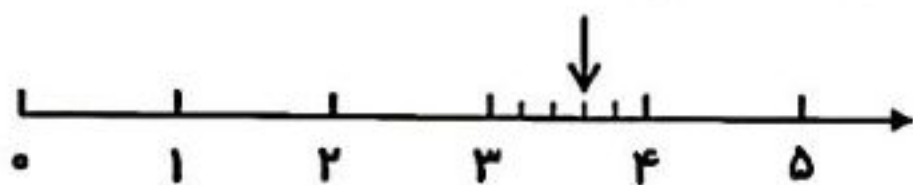
است؟

۱۲- جدول زیر را کامل کن.




x	۷	۵	۹	۳	۶	۱۰	۴
۷							

۱۳- نقطه‌ی مشخص شده روی محور چه عددی را نشان می‌دهد؟



..... واحد مانده به عدد



موضوع: فصل ۵

تاریخ

نام و نام خانوادگی

صفحه ۱۱

هدف: مرور دانسته ها

۱۴- عددهای زیر را به صورت گسترده بنویس.

$5820 = \dots\dots\dots$

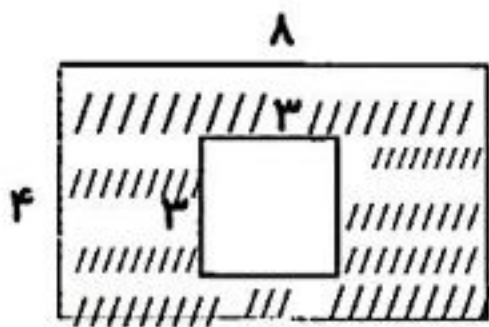
$2406 = \dots\dots\dots$



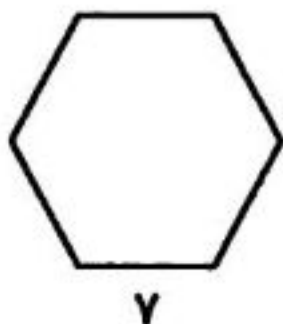
۱۵- می خواهیم دور میزی به شکل مربع که اندازهی هر ضلع آن ۸ متر است، نوار دوزی کنیم. به چند متر نوار نیاز داریم؟




۱۶- به یکی از دو سؤال زیر، پاسخ بده.
۷ مساحت قسمت رنگ شده را به دست آور.



۷ معلم با یک سیم، شکل زیر را درست کرد و ۵ سانتی متر از سیم باقی ماند. طول سیم چه قدر بوده است؟





موضوع: فصل ۱ تا ۴

تاریخ

نام و نام خانوادگی

صفحه ۳

هدف: مرور دانسته ها

۱۰- برای تهیه آش، مواد زیر را آماده کرده ایم. با توجه به جدول، به سؤالات پاسخ بده و نمودار را

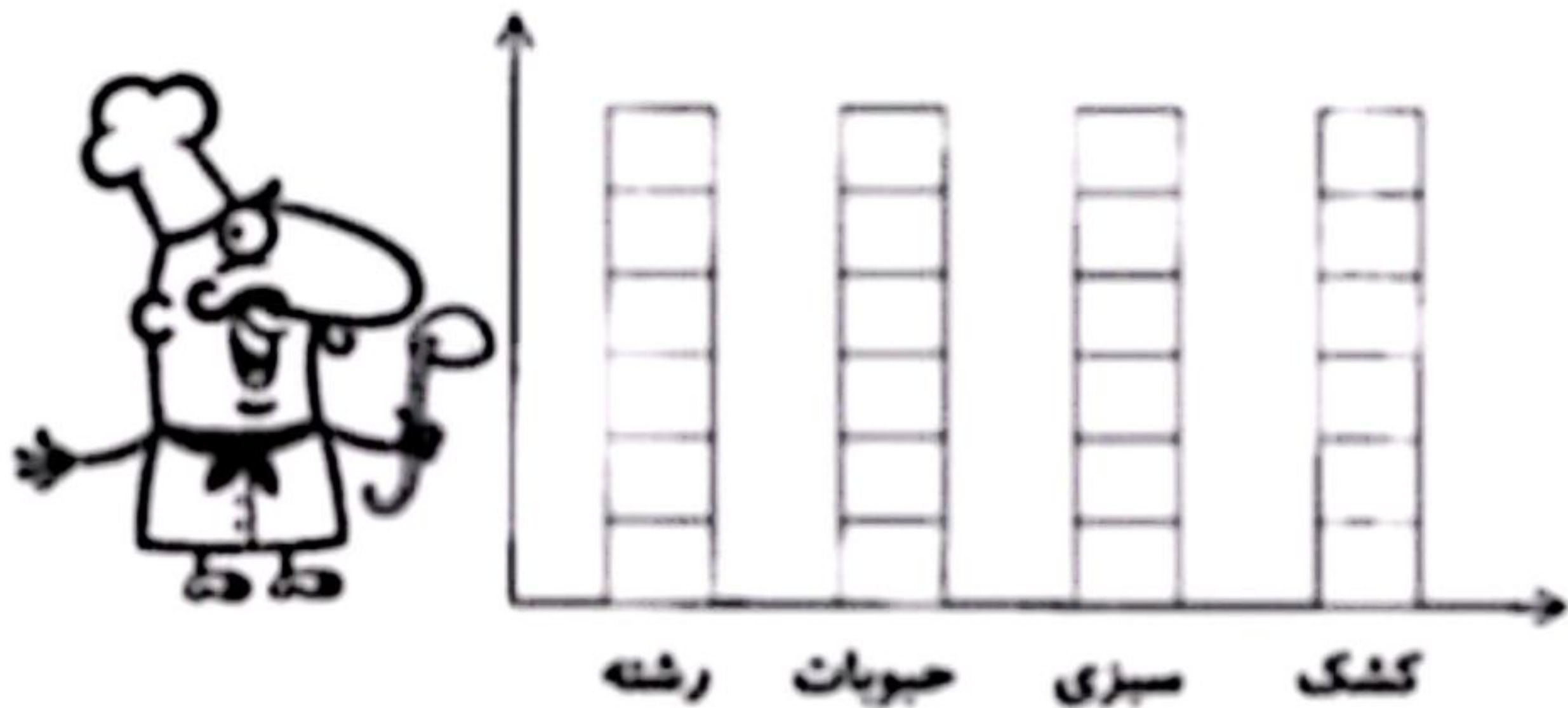
کامل کن.


جرم مواد	مواد
۳ کیلوگرم	رشته
۳ کیلوگرم	حبوبات
۵ کیلوگرم	سبزی
۲ کیلوگرم	کشک

♦ جرم کدام یک از مواد، بیش تر است؟

♦ جرم کدام یک از مواد، کم تر است؟

♦ جرم کدام یک از مواد جدول، یکسان است؟





موضوع: فصل ۴ تا ۶

تاریخ

نام و نام خانوادگی

صفحه ۴

هدف: مرور دانسته ها

۱- زیر کلمه‌ی درست، خط بکش تا جمله کامل شود.


الف) مقدار آب‌های (شور - شیرین) کره‌ی زمین، کم‌تر است.

ب) همیشه بخار آب در هوا وجود (ندارد - دارد).

ج) آب در زیرزمین وقتی به (شن و ماسه - سنگ) می‌رسد، در همان‌جا جمع می‌شود.

د) در تصفیه‌خانه برای از بین بردن (میکروب - گل‌ولای) آب، به آن مواد میکروب‌کش اضافه می‌کنند.

۲- آب‌های شور کره‌ی زمین برای چه کارهایی مناسب نیست؟ (۲ مورد)



.....

.....

۳- یک بادکنک بردار و آن را باد کن. چرا هنگام باد کردن بادکنک، اندازه‌ی آن به تدریج بزرگ‌تر می‌شود؟



۴- با توجه به تصویر روبه‌رو، یک پیام بنویس.

.....

۵- دو راه آلوده شدن آب‌های زیرزمینی را بنویس. (۲ مورد)

.....

.....

۶- آب رودها را در پشت یا جمع می‌کنند، بعد آن را به تصفیه‌خانه می‌فرستند.



موضوع: فارسی از اول تا آخر درس ۱۲

تاریخ

نام و نام خانوادگی

صفحه ۷

هدف: مرور دانسته ها

با استفاده از کلمه های داده شده، جملات را کامل کن.

سعدی با قرآن و نیز آشنایی کامل داشت.

طبیعت ایران در هر فصل، زیبایی دارد.

خیلی خوش حالم از این که شما هر روز همراه من، بزرگ تر و می شوید.

آلودگی صوتی باعث می شود و دقت شما را برای درس خواندن کم می کند.

هر یک از این کلمه های را با واژه ی «گاه» ترکیب کن و با آن ها جمله بساز و بنویس.

احادیث
خاستگی
بأسوادتر
خاصی
بیش تر
خاطرات



ورزش

دانش

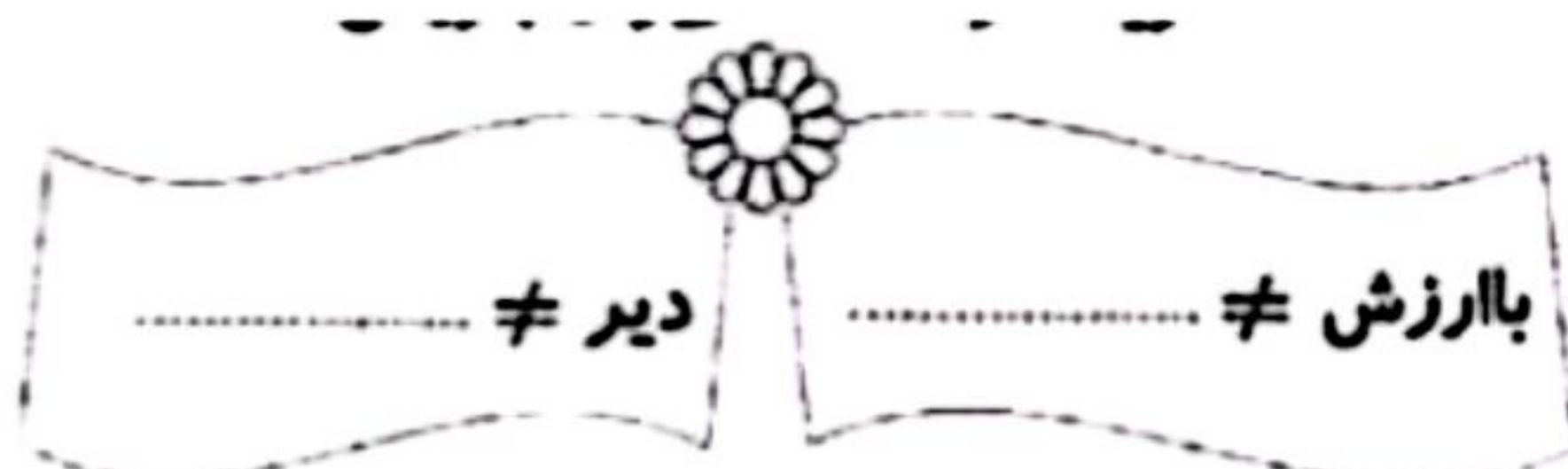
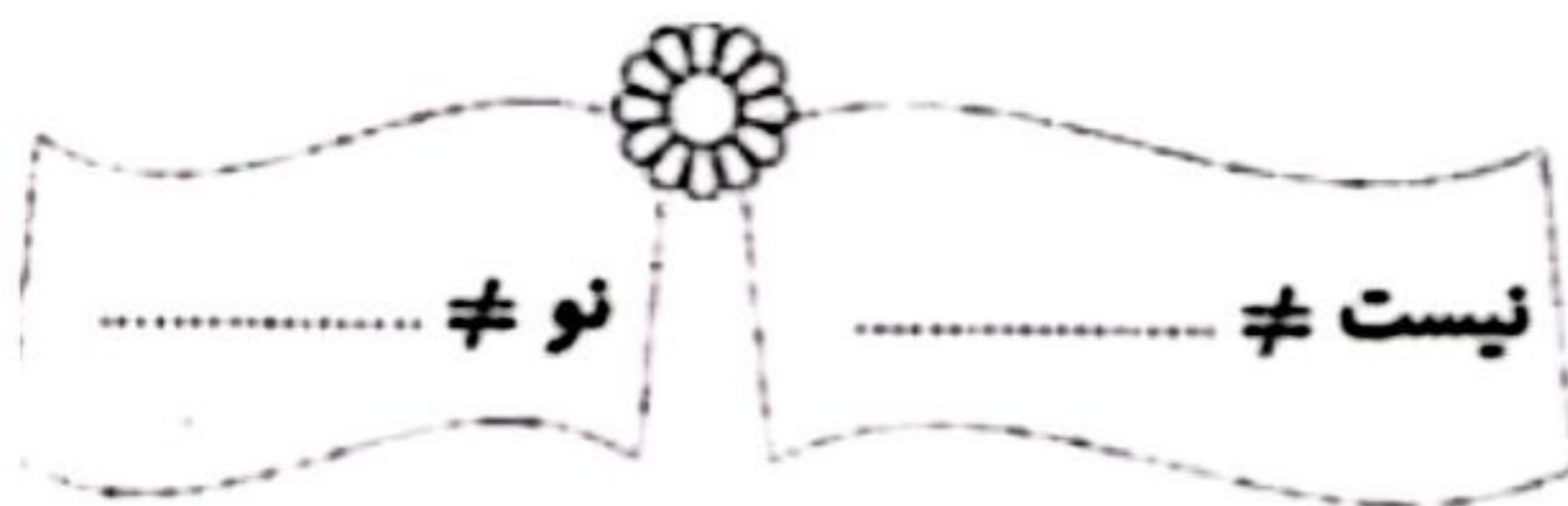
کدام گروه از کلمات زیر، هم خانواده هستند؟

الف) احادیث، حدیث، حادثه

ج) آثار، متأثر، اثر


ب) عاقل، عاقلانه، عقل

د) حکایت، حکایات، حاکمان



- کلمات مناسب را به هریک از واژه های زیر وصل کن.





موضوع: فارسی از اول تا آخر درس ۱۵

تاریخ

نام و نام خانوادگی

صفحه ۸

هدف: مرور دانسته ها

۱- هم معنی کلمات زیر را بنویس.

افتخار: ■ برازنده: ■ دلاورانه: ■ زلال:

۲- هر گروه از کلمات هم خانواده را، در جاهای خالی بنویس.



..... :
 :
 :
 :

۳- جمع هر یک از کلمات زیر را بنویس.

منطقه: ■ عضو: ■ حدیث: ■ فرمانده:

۴- در جدول زیر، کلمات مثل هم را هم رنگ کن.



سرحال	سودمند	نمایشگاه
آسایشگاه	دلپذیر	سربند
دلخواه	کارگاه	توانمند
دانشمند	سرافراز	دلگرم



۵- کامل کن.

