

۸) با توجه به جدول داده شده، کارهای مینا را با رنگ کردن روی نمودار دایره ای نشان دهید.

فعالیت	صبحانه خوردن	درس خواندن	ناهار و استراحت	سرگرمی	مرتب کردن اتاق
زمان	۸ - ۹	۹ - ۱۲	۱۲ - ۱۴	۱۴ - ۱۶	۱۶ - ۱۸
مقدار ساعت	۱	۳	۲	۲	۲

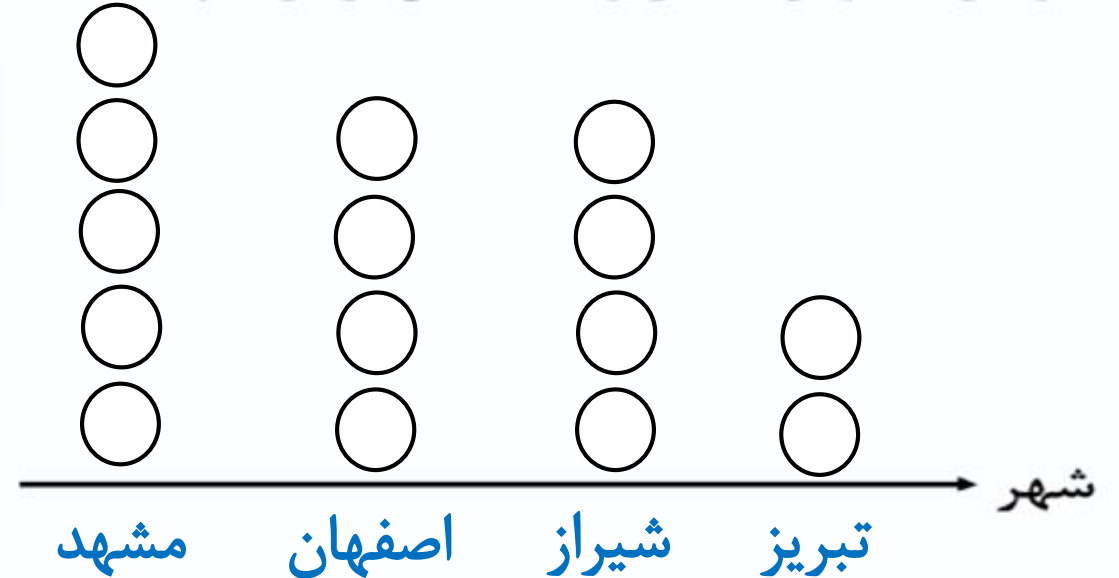
$$1 + 3 + 2 + 2 + 2 = 10$$

$$10 \div 1 = 10$$



۹) تعداد مسافرانی که به چند شهر سفر کرده اند در جدول زیر آمده است. نمودار تصویری مربوط به آن را رسم کنید. هر ۱۰۰۰ نفر را با \bigcirc نشان دهید.

نام شهر	مشهد	اصفهان	شیراز	تبریز
تعداد مسافر	۵۰۰۰	۴۰۰۰	۴۰۰۰	۲۰۰۰

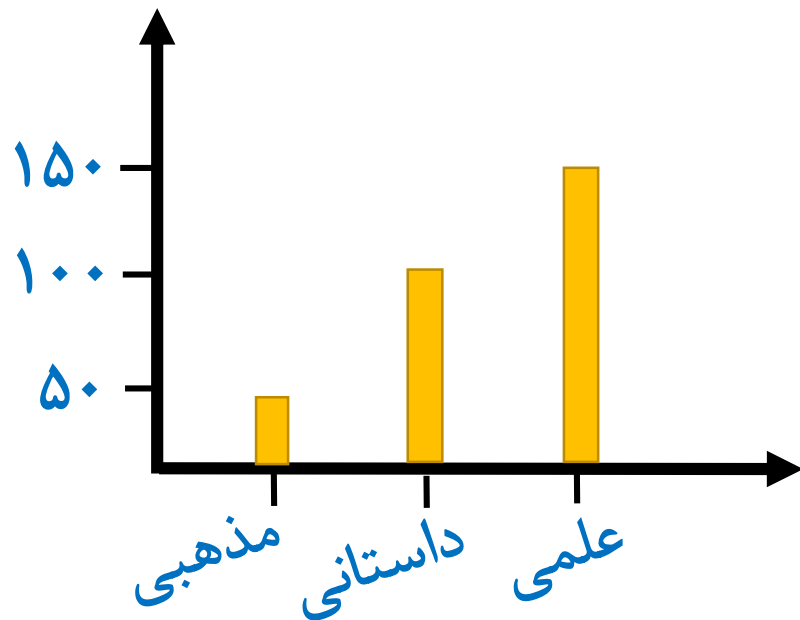


۷) برای جدول زیر نمودار ستونی و دایره ای بکشید.

کتاب	علمی	داستانی	مذهبی
تعداد	۱۵۰	۱۰۰	۵۰

$$۵۰ + ۱۰۰ + ۱۵۰ = ۳۰۰$$

$$۳۰۰ \div ۵۰ = ۶$$

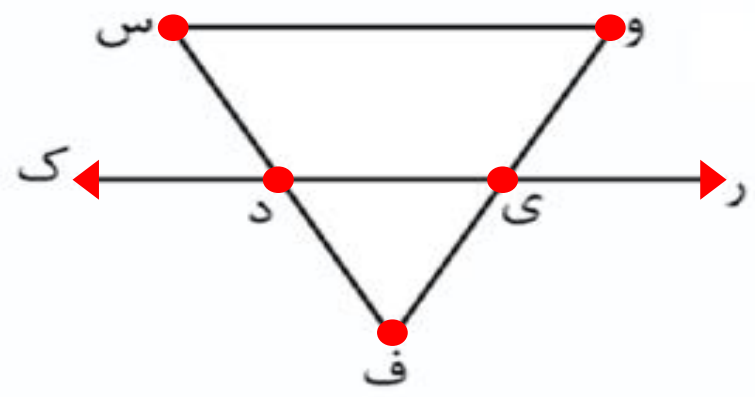




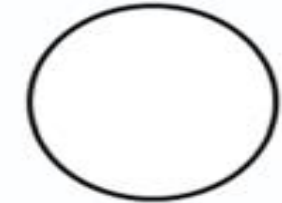



نام و نام خانوادگی: _____ تاریخ: _____

موضوع: فصل پنجم (محیط و مساحت) هدف: مرور فصل پنجم (محیط و مساحت)

۱) در این شکل ۸ پاره خط و ۴ نیم خط و ۱ خط راست وجود دارد.



۲) نام هر شکل را بنویسید و قطرهای آن را بکشید.



شش ضلعی ۹ قطر دارد. پنج ضلعی ۵ قطر دارد.

.....