

نام و نام خانوادگی

آزمون فصل ۶

علوی

نام دبستان :

.....

ریاضی سوم ابتدایی

نام آموزگار :

۱- به طور خلاصه توضیح دهید که هریک از اعداد زیر را چگونه با هم مقایسه کرده اید؟

۸۵۱۲ ۶۹۸۴

۵۵۹۹ ۵۶۰۰

۷۸۲۲ ۷۸۱۹

۳۴۵۶ ۳۴۵۷

۲- پاسخ جمع و تفریق ها را نوشته و با استفاده از رنگهای جدول هر شکل را رنگ کنید.



رنگ	حاصل عملیات
سبز	کمتر از ۱۰۰۰
آبی	بین ۱۰۰۰ و ۳۰۰۰
زرد	بین ۳۰۰۰ و ۶۰۰۰
قرمز	بین ۶۰۰۰ و ۹۰۰۰

۳- مادر نسیم ۷۲۰۰ تومان به او داده است. اگر او ۱۳۵۰ تومان بابت خرید خیار و ۷۵۰ تومان بابت خرید گوجه فرنگی به میوه فروش داده باشد. چند تومان برایش باقی مانده است؟

۴- زهره و عاطفه به مناسبت روز مادر تصمیم گرفتند یک هدیه ۴۰۰۰ تومانی برای مادرشان بخرند. زهره ۱۳۸۴ تومان و عاطفه ۲۵۴۸ تومان پس انداز داشتند.

- آیا پس انداز آنها برای خرید هدیه کافی است؟

- چند تومان اضافه یا کم دارند؟



۵- ثریا می خواهد اطراف جانماز مسافرتی خود را روبان بدوزد

او چند متر روبان باید تهیه کند؟

۶- طول طنابی ۱۵ سانتی متر است. با این طناب یک مثلث متساوی الاضلاع درست کردیم.

اندازه ی ضلع های مثلث چند سانتی متر است؟

۷- در دبستان شاهد برای کمک به زلزله زدگان به دانش آموزان کمک دادند. از کلاس سوم

۵۷۸۰ تومان، و از کلاس دوم و اول ۴۱۲۷ تومان جمع شد. این مدرسه چند تومان به زلزله

زدگان کمک کرده است؟

۸- به عدد ۶۵۹۸ چه عددی باید اضافه شود تا عدد ۷۰۰۰ به دست آید؟

۹- در راه پیمایی ۲۲ بهمن از روستای دلقند ۱۴۳۵ نفر و از روستای هاشم آباد ۱۰۸۴ نفر

شرکت کردند. از این دو روستا چند نفر در راهپیمایی شرکت کرده اند؟

۱۰- در یک کارگاه تولید کفش، در ماه اول ۵۴۳۲ جفت کفش و در ماه دوم ۲۸۲۶ جفت کفش

تولید شده است. این کارگاه در ۲ ماه چند جفت کفش تولید کرده است؟


۱۱- در ابتدای سال موجودی برنج فروشگاه تعاونی روستایی ۸۶۴۵ کیلوگرم بوده در مرحله ی اول

۲۴۶۰ کیلوگرم و در مرحله ی دوم ۳۰۷۰ کیلوگرم برنج بین روستائیان توزیع شده است.

چند کیلوگرم برنج در فروشگاه باقی مانده است؟

۱۲- با رقم های (۷، ۴، ۵، ۳) کوچکترین و بزرگترین عدد ۴ رقمی را بنویسید که رقم یکان آن زوج باشد.

۱۳- مهلا ۴ خرگوش دارد، هر خرگوش صبح ۳ هویج و عصر ۲ هویج خورده اند. چند هویج توسط خرگوش ها خورده شده است؟



۱۴- حاصل عبارت های زیر را بدست آورید.

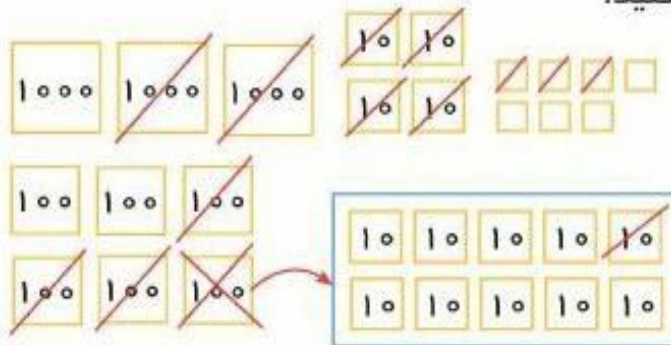
$$5 \times (6 - 4) = \dots \times \dots = \dots$$

$$(2 \times 3) + (3 \times 3) = \dots + \dots = \dots$$

$$(12 \div 4) + (4 \times 2) = \dots + \dots = \dots$$

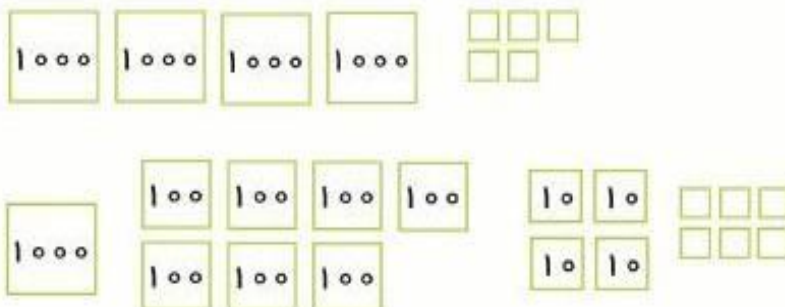
$$(12 - 8) + (15 - 5) = \dots + \dots = \dots$$

۱۵- با توجه به شکل عبارت تفریق را کامل کنید.



$$\begin{array}{r} 3 \square \square \square \\ - 2 \square \square 3 \\ \hline \square \square \square \square \end{array}$$

۱۶- با توجه به شکل داده شده عبارت جمع را کامل کنید.



$$\begin{array}{r} 4 \square \square \square \\ + 1 \ 7 \ 4 \ 3 \\ \hline \square \square \square \square \end{array}$$