

موضوع: فصل ۶

تاریخ

نام و نام خانوادگی

صفحه ۱۲


هدف: مرور دانسته ها

۱- در مسئله های زیر، فقط نوع عملی (جمع، تفریق، تقسیم) را تشخیص بده.

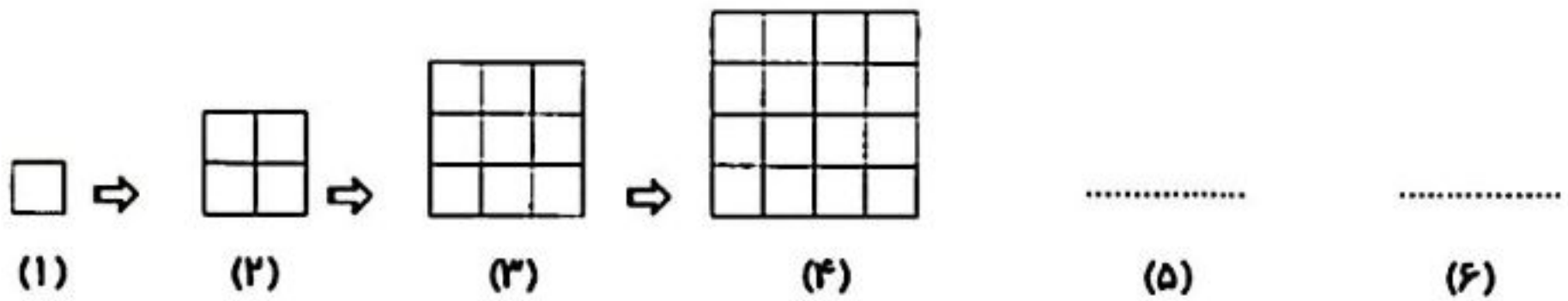
الف) قیمت یک پرگار ۷۶ تومان است. قیمت ۴ پرگار چند تومان می شود؟



ب) محیط مربعی ۳۶ سانتی متر است. طول یک ضلع آن چند سانتی متر است؟



۲- با توجه به الگو، در ششمین شکل چند مربع کوچک وجود دارد؟ .....



۳- در  علامت  $< = >$  بگذار.

$4850 \square 4508$

$9 \times 2 \square 3 \times 6$

$\frac{3}{5} \square \frac{4}{5}$

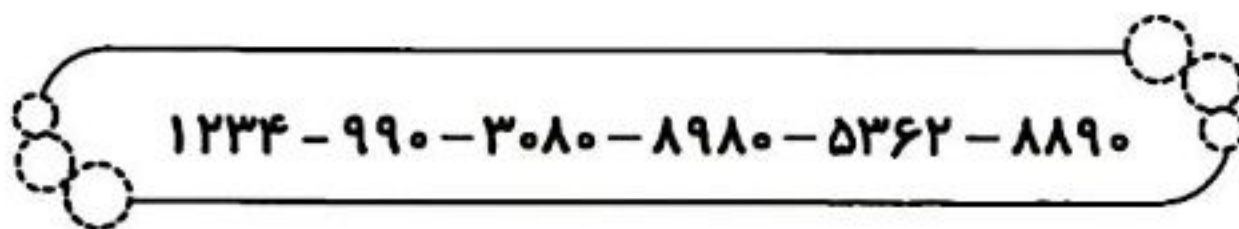


$2 \text{ واحد و } \frac{4}{10} \square 3 \text{ واحد و } \frac{2}{10}$


$4500 - 1500 \square 3800 + 2600$

$45 \div 9 \square 8 \times 1$

۴- عددها را از کوچک به بزرگ مرتب کن و بنویس.



..... < ..... < ..... < ..... < .....



موضوع: فصل ۶


تاریخ

نام و نام خانوادگی

صفحه ۱۳

هدف: مرور دانسته ها

۵- حاصل تقریبی هر عبارت بین چه عددهایی قرار می گیرد؟

$\leftarrow (4528 + 3021) \rightarrow$  

  $\leftarrow (6835 - 2714) \rightarrow$

۶- کامل کن.

☺ به مثلثی که دو ضلع مساوی داشته باشد، مثلث ..... می گویند.

☺ به مثلثی که سه ضلع مساوی داشته باشد، مثلث ..... می گویند.

۷- محدثه برای خرید یک شال گردن ۵ اسکناس ۱۰۰۰ تومانی، ۲ اسکناس ۲۰۰۰ تومانی و یک اسکناس

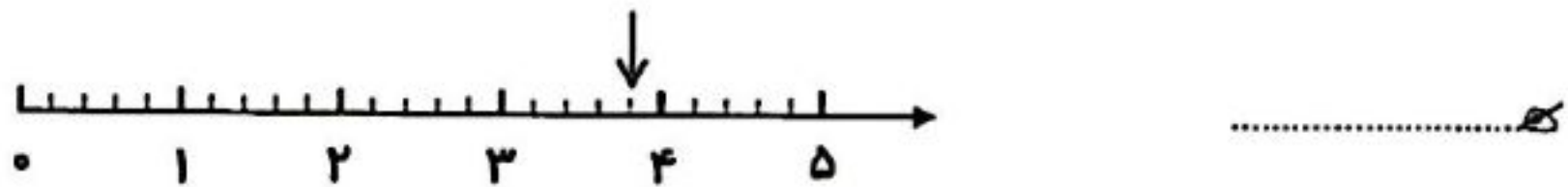
۵۰۰۰ تومانی به فروشنده داد. قیمت شال گردن چه قدر است؟



۸- محیط شکل را به دست آور.



۹- نقطه‌ی مشخص شده روی محور، چه عددی را نشان می دهد؟




۱۰- با رسم شکل، حاصل تفریق را به دست آور.

$3485 - 2243 = \square$

$$\begin{array}{r} 8937 \\ - 2516 \\ \hline \end{array}$$

۱۱- تفریق روبه‌رو را به صورت فرآیندی حل کن.






موضوع: فصل ۴ تا ۶

تاریخ

نام و نام خانوادگی

صفحه ۵

هدف: مرور دانسته ها



۷- در تصفیه‌خانه برای اینکه گل‌ولای آب گرفته شود،

آب را از کجا عبور می‌دهند؟

.....



۸- رودها چگونه به وجود می‌آیند؟

.....  
.....  
.....



۹- با توجه به تصویر روبه‌رو، چرخه‌ی آب را توضیح بده و بنویس.

.....  
.....  
.....



۱۰- اگر ابرها به اندازه‌ی کافی سرد شوند، از آن‌ها چه چیزهایی می‌بارد؟

.....



موضوع: فارسی از اول تا آخر درس ۱۵

تاریخ

نام و نام خانوادگی

صفحه ۹

هدف: مرور دانسته ها



۶- در جای خالی، کلمات مناسب بنویس.

الف) به جایی که در آن نان می‌پزند، ..... می‌گویند.

ب) به جایی که در آن عکس می‌اندازند، ..... می‌گویند.

۷- کدام فعل در پایان جمله‌ی زیر قرار می‌گیرد؟

بچه‌های تیم فوتبال، همگی تصمیم خوبی .....

الف) خوردند  ب) بردند  ج) گرفتند  د) گرفتید

۸- در عبارت‌های زیر، از چه شباهتی استفاده شده است؟

الف) معلم مانند شمعی فروزان است. ....

ب) برق چون شمشیر بر آن پاره می‌کرد ابرها را .....

۹- دو سطر درباره‌ی تصویر بنویس.



.....

.....

.....

.....

۱۰- کدام گزینه را نباید در نوشتن استفاده کرد؟

الف) محمد به سینما رفت.  ج) پدرم مقررات راهنمایی و رانندگی را رعایت می‌کند.

ب) اون بهم گفته بود، برو طبقه‌ی بالا  د) ما به همراه پدر بزرگ و مادر بزرگ به گردش رفتیم.

۱۱- کلمه‌های مربوط به هم را با یک خط به یکدیگر وصل کن.



دهانه‌ی  کلاس

زبان‌ی  هواپیما

گوشه‌ی  غار

دماغه‌ی  قفل



موضوع: فارسی از اول تا آخر درس ۱۶

تاریخ

نام و نام خانوادگی

صفحه ۱۰

هدف: مرور دانسته ها



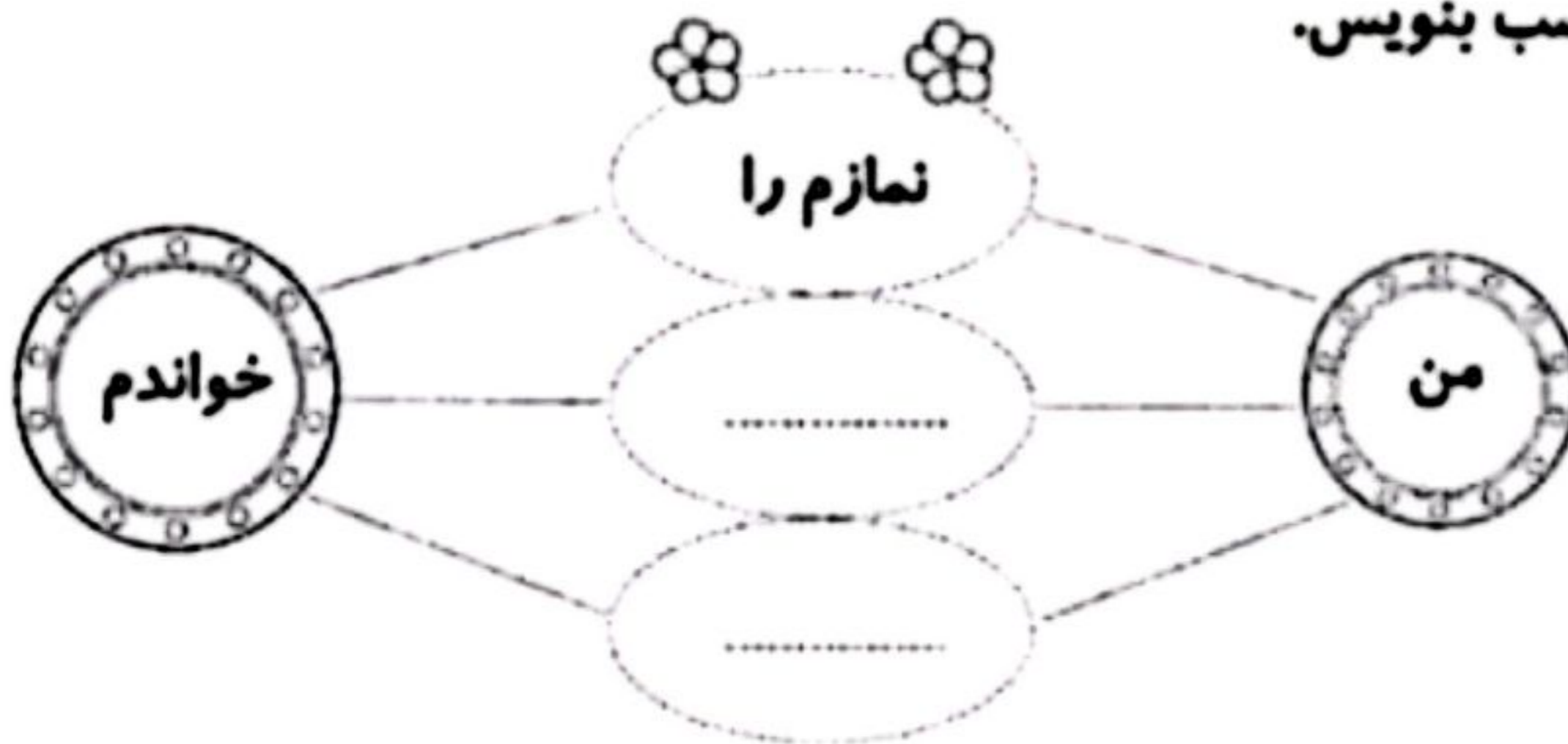
۱- معنی هر عبارت زیر را بنویس.

- چشم غمناک یعنی: .....
- خاک نمناک یعنی: .....

۲- کدام کلمه هم خانواده‌ی «درس» نیست؟

- الف) مدرسه       ب) تدریس       ج) آدرس       د) مدرّس

۳- در جاهای خالی، کلمه‌ی مناسب بنویس.



۴- دور کلمه‌هایی که زمان آینده را نشان می‌دهند، خط بکش.

کاشته بودم ، خواهم رفت ، می‌آییم ، گفته بود ، خواهی رفت

۵- در کدام گزینه، «تشبیه» به کار رفته است؟

الف) جنگل محلّ استراحت است.

ج) باید جنگل را حفظ کنیم.

ب) جنگل مثل فرشی سبز پهناور و گسترده است.      د) صدای غرّش جانوران، سکوت جنگل را می‌شکند.

۶- جمله‌ی زیر را با توجه به کلمات داخل کمانک، تغییر بده و بنویس.

«در کلاس بچه‌ها به دو گروه سه نفره تقسیم شدند.»

..... (زمان حال)

..... (زمان گذشته)