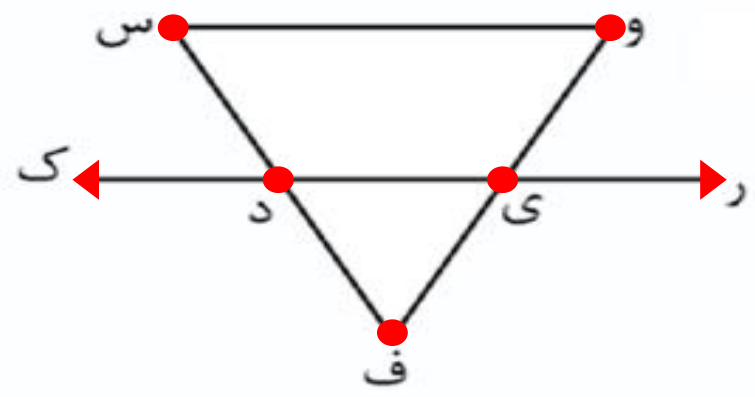




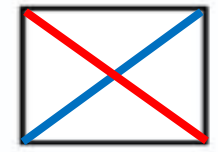
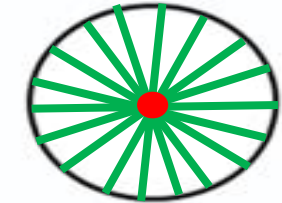
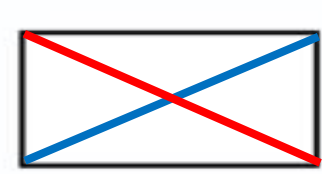


نام و نام خانوادگی: _____ تاریخ: _____

موضوع: فصل پنجم (محیط و مساحت) هدف: مرور فصل پنجم (محیط و مساحت)

۱) در این شکل پاره خط و نیم خط و خط راست وجود دارد.

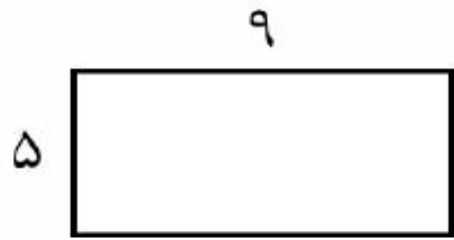


۲) نام هر شکل را بنویسید و قطرهای آن را بکشید.



مثلاً قطر ندارد. مستطیل ۲ قطر دارد. شش ضلعی ۹ قطر دارد. پنج ضلعی ۵ قطر دارد. دایره بی شمار قطر دارد. مربع ۲ قطر دارد.

۳) محیط و مساحت شکل های زیر را به دست آورید.



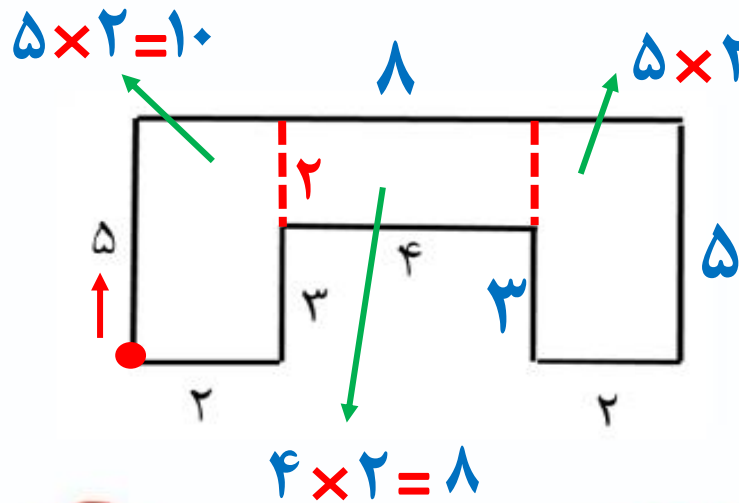
محیط: $2 \times (9 + 5) = 28$

مساحت: $9 \times 5 = 45$



محیط: $4 \times 7 = 28$

مساحت: $7 \times 7 = 49$



محیط: $5 + 8 + 5 + 2 + 3 + 4 + 3 + 2 = 32$

مساحت: $10 + 10 + 4 = 24$



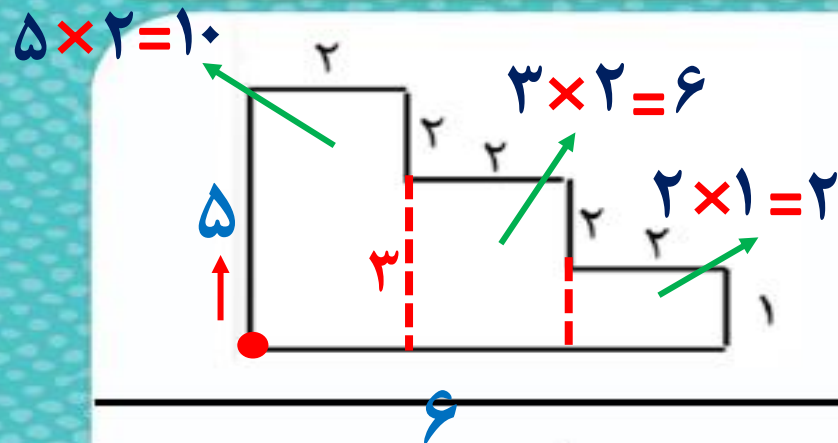


موضوع: فصل پنجم (محیط و مساحت)

تاریخ

نام و نام خانوادگی

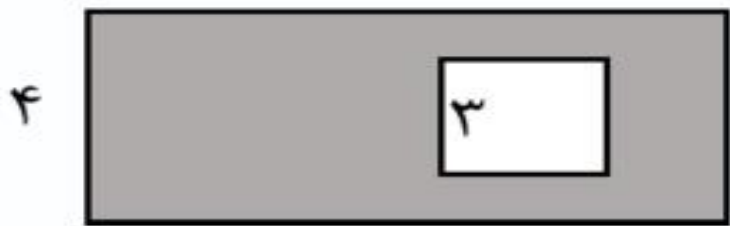
هدف: فصل پنجم (محیط و مساحت)



محیط: $5 + 2 + 2 + 2 + 2 + 2 + 1 + 6 = 22$

مساحت: $10 + 6 + 2 = 18$

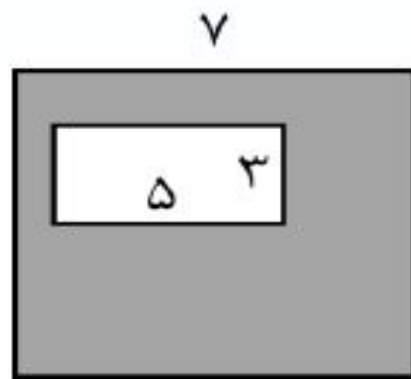
۴) مساحت قسمت رنگ شده را به دست آورید.



مساحت مستطیل: $8 \times 4 = 32$

مساحت مربع: $3 \times 3 = 9$

مساحت قسمت رنگی: $32 - 9 = 23$



مساحت مربع: $7 \times 7 = 49$

مساحت مستطیل: $5 \times 3 = 15$

مساحت قسمت رنگی: $49 - 15 = 34$