

زنگ ریاضی





نام و نام خانوادگی

تاریخ

موضوع: فصل سوم (عددهای کسری)

هدف: مرور فصل سوم (عددهای کسری)

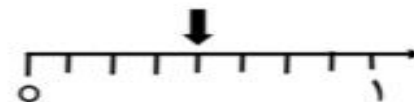
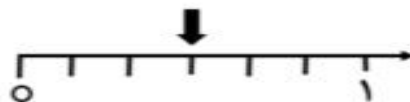

۱) کشاورزی نصف زمینش را گلابی و $\frac{2}{3}$ باقی مانده را سیب کاشته است. با رسم شکل نشان دهید.

الف) چه کسری از زمین خالی مانده است؟

ب) چه کسری از زمین درخت گلابی کاشته است؟

پ) چه کسری از زمین درخت سیب کاشته است؟

۲) کسر بنویسید.



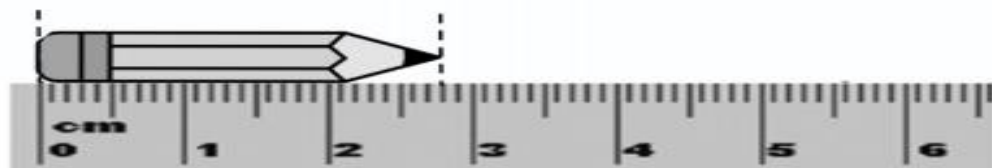
۳) جاهای خالی را پر کنید.

طول مداد از سانتی متر بیشتر و از سانتی متر کمتر است.

طول مداد سانتی متر و میلی متر است.

طول مداد سانتی متر و سانتی متر است.

..... میلی متر مانده تا طول مداد به ۳ سانتی متر برسد.



(۴) با رسم شکل تساوی $\frac{3}{5} = \frac{6}{10}$ را نشان دهید.

(۵) برای شکل زیر سه کسر مساوی بنویسید.

