

۱. یک ۲۰ ضلعی چند گوشه دارد؟

باعث افتخار خانم دارابی هستی، ریاضیدان فعالم 🤗

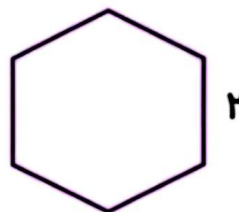
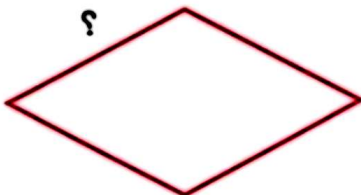
۲. به آقا مهدی کمک کن تا یکی از قفسه‌های گلخانه‌اش را مرتب کند. با توجه به عددهای نوشته شده روی هر گلدان، به ترتیب از سمت چپ هر گلدان را از بزرگ به کوچک به شماره‌ی خودش وصل کن.




۳. مطهره برای خرید یک کتاب، ۹ اسکناس ۱۰۰۰ تومانی، ۶ اسکناس ۵۰۰ تومانی و یک اسکناس ۲۰۰ تومانی به فروشنده پرداخت کرده است. فروشنده به او دو سکه‌ی ۵۰ تومانی برگرداند. قیمت کتاب چقدر بوده است؟

۴. با رقم‌های ۴، ۷، ۰ و ۲ بزرگترین و کوچکترین عدد چهاررقمی را بنویس. حاصل جمع دو عدد را به دست آور.

۵. محیط دو شکل زیر برابر است. اندازه‌ی هر ضلع لوزی چند سانتی‌متر است؟




۳۷- اختلاف بزرگترین و کوچکترین عدد چهار رقمی را که با رقم های ۴، ۹، ۷، ۲ ساخته می شود، به دست آورید.



ریاضی سوم ابتدایی


مرور فصل شش





۳۸- مریم خانم ۳۵۶۰ گرم قند و شکر خرید. اگر ۱۴۵۰ گرم قند باشد، چند گرم شکر است؟



۳۹- مینا برای خرید یک دفتر ۴۸۰۰ تومانی، پول کم دارد. او باید چند تومان از مادرش بگیرد تا بتواند دو تا دفتر بخرد؟



۳۴- محیط یک مثلث متساوی الاضلاع ۲۷ سانتی متر است.
اندازه‌ی هر ضلع را به دست آورید.



ریاضی سوم ابتدایی
مرور فصل شش

۳۵- مقدار تقریبی حاصل هر عبارت بین کدام دو عدد هزارتایی قرار می‌گیرد؟

$9528 - 4204 =$

$2351 + 5344 =$

۳۶- حاصل جمع و تفریق‌ها را به دست آورید.


$$\begin{array}{r} 1650 \\ - 3261 \\ \hline \end{array}$$

$$\begin{array}{r} 2362 \\ + 4519 \\ \hline \end{array}$$

۱۲- حاصل جمع و تفریق ها را به صورت فرایندی به دست آورید.




ریاضی سوم ابتدایی
صفحه ۱۰۳




5849
- 3237

2371
+ 4513

۱۳- محیط ۵ ضلعی و ۶ ضلعی زیر را با نوشتن رابطه به دست آورید.




۲۹- برای تفریق های زیر شکل بکشید.




ریاضی سوم ابتدایی
صفحه ۱۱۰



۳۰- حاصل عبارات زیر را به دست آورید.



$$7 \times (4 + 2) =$$




$$(4 + 3) \times 5 =$$




$$(14 \div 7) + (3 \times 3) =$$

۲۱- برای جمع زیر شکل بکشید و سپس حل کنید.




ریاضی سوم ابتدایی

صفحه‌ی ۱۰۷




۲۲- محیط مستطیل زیر را به دو صورت حساب کنید.



محیط : $\text{---} + \text{---} + \text{---} + \text{---} =$

محیط : $(2 \times \text{---}) + (2 \times \text{---}) =$


۱۶- باران ۹۵۰ تومان دارد. خواهرش ۳۲۰ تومان کم تر از باران پول دارد.
آن ها روی هم چند تومان پول دارند؟



ریاضی سوم ابتدایی
صفحه‌ی ۱۰۵



۱۷- نوید برای خریدن یک کتاب به فروشنده ۵ اسکناس ۱۰۰۰ تومانی، ۶ اسکناس ۵۰۰ تومانی و یک اسکناس ۲۰۰ تومانی داده است. فروشنده به او دو سکه‌ی ۵۰۰ تومانی برگرداند. قیمت کتاب چند تومان بوده است؟



۱۸- زهره از مادرش ۲۵۰۰ تومان گرفت. با تمام پولی که خودش جمع کرده بود، یک عروسک که قیمت آن ۷۴۵۰ تومان است، خرید. پول خود زهره چقدر بوده است؟

