

ارمغان هفته - سوم دبستان



نام و نام خانوادگی: تاریخ: نام آموزگار:

ریاضی < دوره نیمسال دوم
علوم < دوره نیمسال دوم
فارسی < دوره نیمسال دوم

مطالعات اجتماعی < دوره نیمسال دوم
هدیه‌های آسمان < دوره نیمسال دوم
قرآن < دوره نیمسال دوم

ریاضی

$$\begin{array}{r} + 2 \\ \times 12 \\ \hline 24 \\ + 120 \\ \hline 144 \end{array}$$

۱ سه مرغ داریم که هر کدام روزی ۴ تخم می‌گذارند. بعد از یک هفته چند تخم مرغ خواهیم داشت؟

تعداد تخم مرغ های یک روز $3 \times 4 = 12$ تعداد تخم مرغ های یک هفته

۲ کشاورزی $\frac{1}{5}$ زمین خود را گندم و $\frac{3}{5}$ زمین را جو کاشته است. چه کسری از زمین زیر کشت رفته است؟ سطح زیر کشت کدام یک بیش تر است؟ (با رسم شکل انجام شود).

$$\frac{4}{5}$$

گندم	جو	جو	جو	
------	----	----	----	--

$$\text{جو } \frac{3}{5} < \frac{1}{5} \text{ گندم}$$

$$\begin{array}{r} 948 \\ - 5236 \\ \hline 4244 \end{array}$$

$$\begin{array}{r} 1000 + 300 + 40 + 2 \\ 1342 \\ \times 3 \\ \hline 3906 \\ + 1206 \\ \hline 4026 \end{array}$$

$$\begin{array}{r} 11 \\ 4363 \\ + 3785 \\ \hline 8148 \end{array}$$

حاصل عبارت‌های زیر را به دست آورید.

$$\begin{array}{r} 47 \overline{) 6} \\ - 42 \\ \hline 5 \end{array}$$

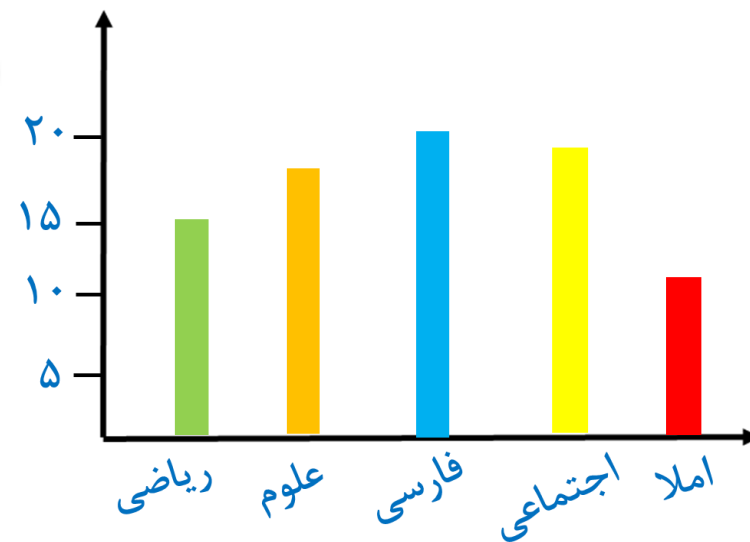
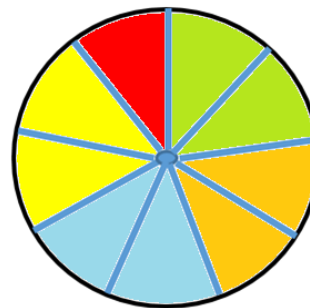
$$\begin{array}{r} 462 \rightarrow 400 + 60 + 2 \\ \times 7 \\ \hline 2800 \\ 420 \\ + 14 \\ \hline 3234 \end{array}$$

داده‌های زیر مربوط به نمرات برنا می‌باشد. نمودار دایره‌ای و ستونی آن‌ها را رسم کنید.

نام درس	ریاضی	علوم	فارسی	اجتماعی	املا
نمره	15	18	20	19	12
تقریبی	20	20	20	20	10

$$20 + 20 + 20 + 20 + 10 = 90$$

$$90 \div 10 = 9$$





در جاهای خالی کلمات مناسب بنویسید.

۵

الف) حاصل ضرب هر عدد در صفر برابر با است.

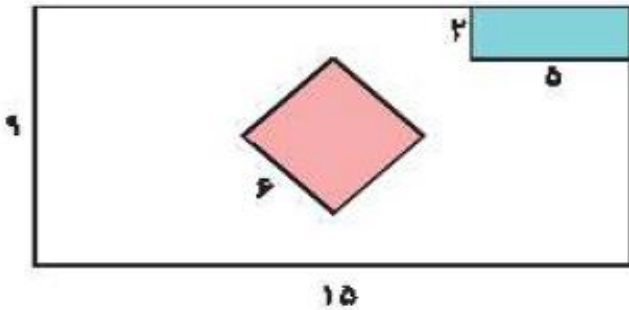
ب) به مثلی که سه ضلع هم اندازه داشته باشد مثلث می گویند.

پ) به جواب تقسیم قسمت گفته می شود.

صفر
متساوی الاضلاع

۶

اتاق پدر بزرگ به شکل مستطیل است. او یک کمد به شکل مستطیل و یک فرش به شکل مربع در اتاق گذاشته است. با توجه به شکل بگویید چقدر از اتاق او فضای خالی است؟



مساحت اتاق: $15 \times 9 = 135$ م^۲

مساحت کمد: $5 \times 2 = 10$ م^۲

مساحت فرش: $6 \times 6 = 36$ م^۲

مساحت فضای خالی اتاق: $135 - 46 = 89$ م^۲

مساحت کمد + مساحت فرش = $10 + 36 = 46$ م^۲

علوم

۱

در هر کدام، چه تغییر حالتی رخ می دهد؟

الف) درست شدن آلبالو خشکه: تبخیر

ب) تشکیل شبنم روی گل ها: میعان

پ) گرفتن آب شیرین از آب شور: میعان

ت) ~~ناپدید شدن قرص نقره~~



۲ در هر مورد از چه آینه‌ای استفاده می‌شود؟

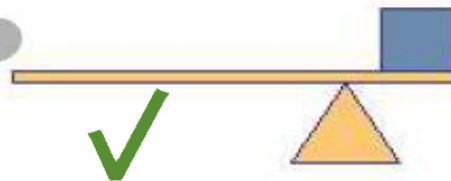
الف) دندان پزشکی: **فرورفته**

ب) زیبایی: **تخت**

ث) کوره‌های برقی: **فرورفته**

آفتابی

۳ در کدام لهرم زیر برای جابه‌جا کردن جعبه، نیروی کم‌تری لازم است؟



۴ موارد خواسته شده را نام ببرید.

الف) دو کاربرد آینه‌ی فرو رفته:

چراغ قوه - آینه‌ی دندان پزشکی

ب) دو کاربرد آینه‌ی برآمده:

آینه‌ی بغل اتومبیل - آینه‌ی فروشگاه‌های بزرگ

پ) دو کاربرد آینه‌ی تخت:

پریسکوپ - زیبایی

ت) دو منبع نور طبیعی:

خورشید - ستارگان

ث) دو منبع نور مصنوعی:

لامپ - شمع



فارسی

معنی کلمات زیر را بنویسید.



فرورفتن در آب	← غوطه	صدای خوش	← نغمه
جایی برای نگه داری آب	← حوض	مربوط به فضا	← فضایی

کلمات زیر را بخوانید و کلمات غلط را زیر آن خط کشیده و صحیح آن را بنویسید.



حاشیه ، حفظ ، نهراسیم ، اهدایت ، بغداد ، نقمه ، فانوس ،

حاشیه احادیث نغمه

بیتها زیر را کامل کنید.



ما گل سرخ این گلستانیم

ملک ایران یکی گلستانست

ناودانها کاشکی لبریز بود

از صدای شُرُشُر آوازمان

یک نفر هم بازیست

گفت پس با من هم

۴ در جاهای خالی واژه‌ی مناسب بگذارید.

الف) شخصی که دانش بسیار دارد، دانشمند است.

ب) نانوا کسی است که نان می‌پزد و محل کار او نانوایی است.

پ) خاک نمناک یعنی خاکی که نم دارد.

۵ برای اسامی زیر، نشانه‌های احترام را جلویشان بنویسید.

حضرت محمد (ص)

حضرت علی (ع)

حضرت رقیه (س)

حضرت زهرا (س)

مطالعات اجتماعی

۱ الف) چرا باید زباله‌ها را در ساعتی که شهرداری معین کرده به محل جمع‌آوری آن ببریم؟

تا حیواناتی مانند سگ و گربه زباله‌ها را در خیابان نریزند و باعث بیماری نشود و محل زندگی ما سالم و پاکیزه بماند.

ب) چرا حتماً باید در سطل‌های مخصوص شهرداری زباله‌ها را بندازیم؟

تا به بازیافت بهتر زباله کمک کنیم.



۲ مراحل تولید پلاستیک را بنویسید.

مواد پلاستیکی → کارخانه های تولید کارخانه ی پتروشیمی → چاه نفت
وسایل مختلف

۳ جاهای خالی را با کلمات مناسب کامل کنید.

الف) به خاک، آب، گیاهان، جانوران، نفت و فلزات می گویند.
ب) برای دامپروری به آب و خاک و گیاهان نیاز داریم.
پ) عشایر در چادر زندگی می کنند.

هدیه های آسمان - قرآن

۱ شما چگونه به پدر و مادر خود نیکی می کنید؟

به آن ها احترام می گذارم، به حرف آن ها گوش می دهم و در کارها به آن ها کمک می کنم.



۲ معنای کلمات قرآنی را به آن‌ها وصل کنید.



۳ هر کدام از لقب‌های زیر مربوط به کدام بزرگوار می‌باشد؟

الف) ام‌لیها: حضرت فاطمه (س) ب) باقرالعلوم: امام محمد باقر (ع) پ) زین العابدین: امام سجاد (ع)

◀ واژه‌شناسی
◀ حروف مخفف احترامی
◀ جمع آوری و دسته‌بندی زیاده‌ها
◀ مواد اولیه و منابع طبیعی
◀ نیکی به پدر و مادر
◀ معنی عبارات و آیات قرآنی
◀ آشنایی با ائمه‌ی اطهار

◀ مسئله‌ی ضرب و کسر
◀ عملیات ریاضی ضرب و تقسیم، جمع و تفریق
◀ نمودارهای آماری
◀ مساحت شکل‌های ترکیبی
◀ تغییر حالت‌های مواد
◀ کاربرد آیینه‌ها
◀ منابع نور
◀ حفظ شعر

شخصیت‌ها

- خبر خوب (Red dot)
- خوب (Yellow dot)
- قابل قبول (Green dot)
- نیاز به تلاش بیشتر (Blue dot)

(۵) مساحت یک مستطیل ۴۸ سانتی متر مربع است. اگر طول آن ۸ سانتی متر باشد، محیط مستطیل چند سانتی متر است؟

$$\text{س م } ۴۸ = ۸ \times \boxed{۶}$$

طول ← عرض ←

$$\text{محیط مستطیل} \rightarrow \text{س م } ۲۸ = ۲ \times (۸ + \overset{۱۴}{۶})$$

(۶) اگر محیط مربعی ۳۲ سانتی متر باشد. هر ضلع آن چند سانتی متر است؟ ضلع مربع

$$\text{س م } ۳۲ = \boxed{۸} \times ۴$$

$$۴ \times \text{ضلع: محیط مربع}$$

(۷) سن احمد از ۳ برابر سن برادرش ۲ سال بیشتر است. اگر برادر احمد ۸ ساله باشد. مجموع سن آن ها چند سال است؟

$$\text{سن احمد: } ۲۶ = \overset{۲۴}{(۳ \times ۸)} + ۲$$

$$\text{سن برادرش: } ۸$$

$$\text{مجموع سن آن ها: } ۲۶ + ۸ = ۳۴$$

