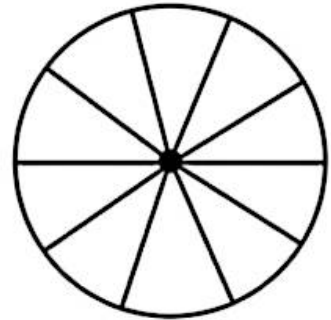
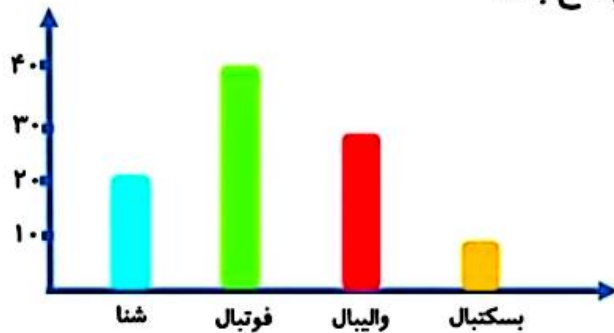


۱. من یک مستطیل هستم که مساحت من ۲۴ سانتی‌متر است. عرض من ۲ سانتی‌متر کمتر از طولم است. طول و عرض من چند سانتی‌متر است؟

۲. نمودار ستونی زیر نشان‌دهنده‌ی علاقه‌ی دانش‌آموزان پایه‌ی سوم یک مدرسه به رشته‌های مختلف ورزشی است. با توجه به آن، نمودار دایره‌ای را کامل کن و به پرسش‌ها پاسخ بده.



- کسر $\frac{4}{10}$ در نمودار دایره‌ای، مربوط به کدام ورزش است؟
- چه کسری از نمودار دایره‌ای مربوط به ورزش بسکتبال است؟
- دانش‌آموزان این مدرسه به کدام ورزش علاقه‌ی بیشتری دارند؟
- دومین ورزش مورد علاقه در این مدرسه کدام است؟

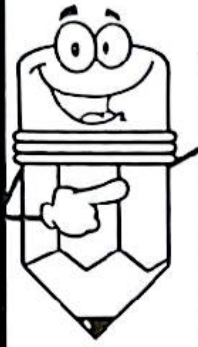
۳. در کدام یک از جمله‌های زیر، احتمال اتفاق افتادن وجود دارد؟

- (الف) درخت حرکت کند و راه برود.
- (ب) عدد ۱۰ فرد باشد.
- (ج) در زمستان، هوا آفتابی شود.
- (د) در پرتاب یک تاس، عدد ۸ بیاید.

۴. یک وسیله به شکل مخروط و یک وسیله به شکل استوانه را نام ببر.

باتلاش خیلی خوبت خانم دارابی را شاد و خودت را توانمندتر کن. 🙌😊

۳۰- برای هر جمله یکی از حالت ها را انتخاب کنید.



ریاضی سوم ابتدایی
مرور فصل هفتم



- غروب کردن خورشید هر روز در شهر شما به طور حتم اتفاق می افتد احتمال دارد اتفاق بیفتد به طور حتم اتفاق می افتد
- بارش برف در یک روز ابری زمستانی به طور حتم اتفاق می افتد احتمال دارد اتفاق بیفتد به طور حتم اتفاق می افتد
- آمدن عدد ۷ در پرتاب یک تاس معمولی به طور حتم اتفاق می افتد احتمال دارد اتفاق بیفتد به طور حتم اتفاق می افتد

۳۱- در یک کیسه ۵ مهره‌ی آبی، ۳ مهره‌ی سبز، ۴ مهره‌ی قرمز و ۳ مهره‌ی سفید وجود دارد:

☾ چه کسری از مهره‌ها آبی هستند؟

☾ چه کسری از مهره‌ها قرمز هستند؟

☾ چه کسری از مهره‌ها سفید هستند؟

۳۲- در پرتاب یک تاس چند حالت ممکن است اتفاق بیفتد؟

۳۳- اگر چرخنده‌ی رو به رو را بچرخانیم، احتمال اینکه روی کدام رنگ بایستد، بیشتر است؟



