

۱. با رقم‌های ۸، ۰ و ۱۰ چند عدد دو رقمی زوج می‌توان ساخت. آنها را بنویس.

۲. عددهای بین ۴۲۸ و ۴۴۴ را بنویس و دور عددهای فرد را خط بکش.

۳. با دوستانت برای دیدن یک مسابقه به یک سالن ورزشی می‌روی. دوست داری بدانی چند نفر برای تماشای مسابقه آمده‌اند. راهنما به شما می‌گوید در این سالن ۳۰ ردیف ۴۰ تایی صندلی چیده شده است. بدون استفاده از ماشین حساب چگونه می‌توانی تعداد تماشاگران را حساب کنی. روشت را توضیح بده.

۴. حاصل ضرب‌های زیر را به صورت ذهنی دست آور.

$$10 \times 3 \times 40 =$$

$$70 \times 50 \times 1 =$$

$$6 \times 5 \times 10 =$$

$$20 \times 2 \times 3 =$$

۵. تعداد دانش‌آموزان یک کلاس ۲۴ نفر است.

- اگر در زنگ ورزش به گروه‌های ۵ نفری تقسیم شوند، چند نفر خارج از گروه باقی می‌مانند؟
- اگر بخواهیم همه‌ی دانش‌آموزان در گروه قرار بگیرند، باید گروه‌های چند نفره درست کنیم؟

۶. حاصل ضرب‌ها و تقسیم‌های زیر را به دست آور.

$$\begin{array}{r} 424 \\ \times 3 \\ \hline \end{array}$$


$$\begin{array}{r} 615 \\ \times 2 \\ \hline \end{array}$$

$$37 \overline{) 6}$$


$$57 \overline{) 8}$$

۳۰- محصول یک باغ پرتقال ۸۲ جعبه ی ۲۸ کیلوگرمی بوده است.


محصول این باغ به طور تقریبی چند کیلوگرم بوده است؟




۳۱- کوچکترین عدد چهار رقمی زوج بدون تکرار رقم ها را بنویسید.






۳۲- حاصل ضرب زیر را با رسم شکل به دست بیاورید.



۳۳- تقسیم های زیر را انجام دهید.



ریاضی سوم ابتدایی
مرور فصل هشت



۳۴- ضرب های زیر را انجام دهید.

$$10 \times 60 =$$

$$2 \times 0 \times 50 =$$

$$3 \times 2 \times 10 =$$

۳۵- ۵ برابر عدد ۴۳ چند است؟

