



# ارمغان هفته - سوم دبستان

نام و نام خانوادگی: ..... تاریخ: ..... نام آموزگار: .....

مطالعات اجتماعی < دوره نیمسال دوم

هدیه‌های آسمان < دوره نیمسال دوم

قرآن < دوره نیمسال دوم

ریاضی < دوره نیمسال دوم

علوم < دوره نیمسال دوم

فارسی < دوره نیمسال دوم

## ریاضی

۱ سه مرغ داریم که هر کدام روزی ۴ تا تخم می‌گذارند. بعد از یک هفته چند تخم مرغ خواهیم داشت؟

---

---

۲ کشاورزی  $\frac{2}{3}$  زمین خود را گندم و  $\frac{3}{5}$  زمین را جو کاشته است. چه کسری از زمین زیر کشت رفته است؟ سطح زیر کشت کدام یک بیش‌تر است؟ (با رسم شکل انجام شود.)

---

---

$$\begin{array}{r} 9480 \\ - 5236 \\ \hline \end{array}$$

$$\begin{array}{r} 1342 \\ \times 3 \\ \hline \end{array}$$

$$\begin{array}{r} 4363 \\ + 3785 \\ \hline \end{array}$$

۳ حاصل عبارت‌های زیر را به دست آورید.

$$47 \overline{) 6}$$

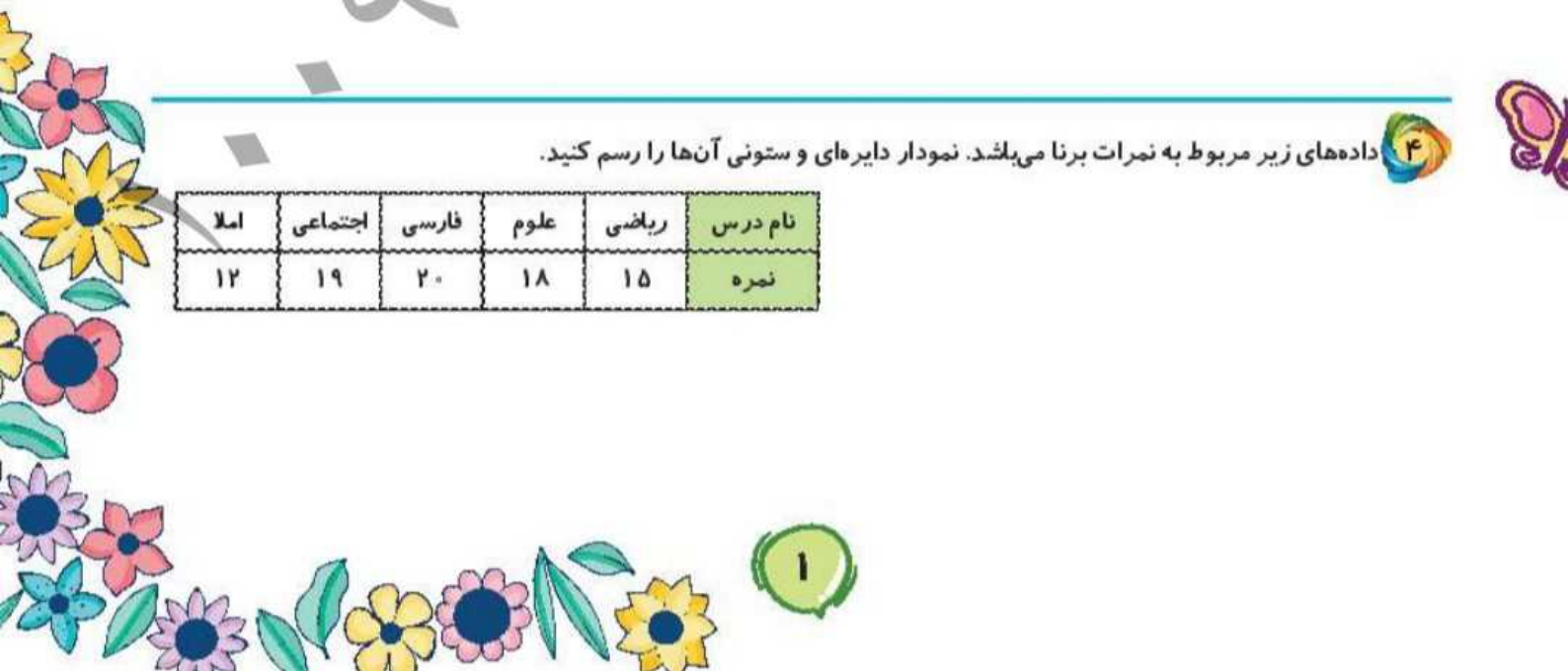
$$\begin{array}{r} 462 \\ \times 7 \\ \hline \end{array}$$

---

---

۴ داده‌های زیر مربوط به نمرات برنا می‌باشد. نمودار دایره‌ای و ستونی آن‌ها را رسم کنید.

نام درس	ریاضی	علوم	فارسی	اجتماعی	املا
نمره	۱۵	۱۸	۲۰	۱۹	۱۲



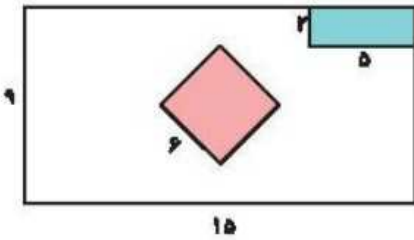
در جاهای خالی کلمات مناسب بنویسید.

الف) حاصل ضرب هر عدد در صفر برابر با ..... است.

ب) به مثلی که سه ضلع هم اندازه داشته باشد مثلث ..... می گویند.

پ) به جواب تقسیم ..... گفته می شود.

۶ اتاق پدر بزرگ به شکل مستطیل است. او یک کمد به شکل مستطیل و یک فرش به شکل مربع در اتاق گذاشته است. با توجه به شکل بگویند چقدر از اتاق او فضای خالی است؟



علوم

۱ در هر کدام، چه تغییر حالتی رخ می دهد؟

الف) درست شدن آلبالو خشک:

ب) تشکیل شبنم روی گلها:

پ) گرفتن آب شیرین از آب شور:

ت) ناپدید شدن قرص نفتالین:

۲ در هر مورد از چه آینه ای استفاده می شود؟

الف) دندان پزشکی:

ب) زیبایی:

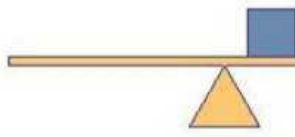
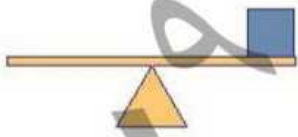
ث) کوره های برقی:

ب) آینه ی آرایشگاه:

ت) آینه ی بغل اتومبیل:

ج) آینه ی سربج جاده ها:

۳ در کدام لهرم زیر برای جابه جا کردن جعبه، نیروی کم تری لازم است؟



۴ موارد خواسته شده را نام ببرید.

الف) دو کاربرد آینه ی فرو رفته:

ب) دو کاربرد آینه ی برآمده:

پ) دو کاربرد آینه ی تخت:

ت) دو منبع نور طبیعی:

ث) دو منبع نور مصنوعی:

## فارسی

۱ معنی کلمات زیر را بنویسید.

.....	غوطه	.....	نغمه
.....	حوض	.....	فضایی

۲ کلمات زیر را بخوانید و کلمات غلط را زیر آن خط کشیده و صحیح آن را بنویسید.

«هاشیه ، حفظ ، نهراسیم ، اهادیث ، بغداد ، نغمه ، فانوس»

۳ بیت‌ها زیر را کامل کنید.

ملک ایران یکی گلستانست  
از صدای شوهر آوازمان  
.....  
یک نفر هم بازبست

۴ در جاهای خالی واژه‌ی مناسب بگذارید.

الف) شخصی که دانش بسیار دارد، ..... است.  
ب) کسی است که نان می‌پزد و محل کار او ..... است.  
پ) خاک نمناک یعنی خاکی که ..... دارد.

۵ برای اسامی زیر، نشانه‌های احترام را جلویشان بنویسید.

حضرت محمد ( )  
حضرت علی ( )  
حضرت رقیه ( )  
حضرت زهرا ( )

## مطالعات اجتماعی

۱ الف) چرا باید زباله‌ها را در ساعتی که شهر داری معین کرده به محل جمع‌آوری آن ببریم؟

ب) چرا حتماً باید در سطل‌های مخصوص شهر داری زباله‌ها را بندازیم؟

چاه نفت

مواد پلاستیکی

۳ جاهای خالی را با کلمات مناسب کامل کنید.

الف) به خاک، آب، گیاهان، جانوران، نفت و فلزات ..... می‌گویند.

ب) برای دامپروری به ..... و خاک و ..... نیاز داریم.

پ) عشایر در ..... زندگی می‌کنند.

### هدیه‌های آسمان - قرآن

۱ شما چگونه به پدر و مادر خود نیکی می‌کنید؟

۲ معنای کلمات قرآنی را به آن‌ها وصل کنید.

- |           |       |
|-----------|-------|
| پاداش     | تاس   |
| بدی       | رَبِّ |
| پروردگارا | شَرِّ |
| مشورت     | شوری  |
| مردم      | اجر   |

۳ هر کدام از لقب‌های زیر مربوط به کدام بزرگوار می‌باشد؟

پ) زین‌العابدین:

ب) باقرالعلوم:

الف) ام‌اینها:

	واژه‌شنسی
	حروف مخفف احترامی
	جمع آوری و دسته‌بندی زبانه‌ها
	مواد اولیه و منابع طبیعی
	نیکی به پدر و مادر
	معنی عبارات و آیات قرآنی
	آشنایی با ائمه اطهار

	مسئله‌ی ضرب و کسر
	عملیات ریاضی ضرب و تقسیم، جمع و تفریق
	نمودارهای آماری
	مساحت شکل‌های ترکیبی
	تغییر حالت‌های مواد
	کاربرد آینه‌ها
	منابع نور
	حفظ شعر

شاخص‌ها

-  خوب
-  خوب
-  قابل قبول
-  نیاز به تلاش بیشتر