
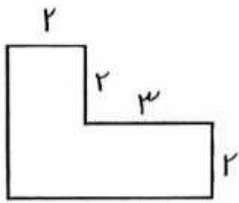
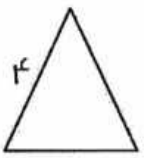


<p>تساوی کسرهای زیر را با شکل نشان بده.</p> $\frac{1}{4} = \frac{2}{8}$	<p>۲- برای کسر زیر شکل بکش.</p> $\frac{4}{6}$
	<p>- برای شکلهای روبرو عملیاتهای خواسته شده را بنویس.</p> <p>..... + + + + + =</p> <p>..... × =</p> <p>..... + =</p> <p>→ ÷ =</p>
 <p>(روش جمع)</p>	<p>محیط شکل زیر را پیدا کنید.</p>  <p>(روش ضرب)</p>
<p>- سن سارا ۳۰ سال است. اگر سن برادرش ۶ سال باشد، سن سارا چند برابر برادرش است؟</p>	
<p>- باغچه‌ای به شکل مستطیل به طول ۸ و عرض ۵ داریم. می‌خواهیم دور تا دور آن را نرده بکشیم، برای دور تا دور آن به چند متر نرده نیاز داریم؟ مساحت این باغچه را به دست آورید.</p>	

<p>- مقایسه کن و علامت (< = >) بگذار.</p>		
$0 \times 4 \square 8 \times 0$	$\frac{4}{4} \square 2$	<p>نیم <input type="checkbox"/> نصف</p>
$100 \times 2 \times 4 \square 40 \times 30 \times 1$	$2000 + 2500 \square 1500 + 3000$	
$\frac{2}{6} \square \frac{4}{6}$	$12 \div 2 \square 15 \div 3$	$\frac{2}{5} \square \frac{2}{3}$

- یک دستگاه جوراب بافی در هر ساعت ۳۵ جفت جوراب می‌بافد، این دستگاه در ۸ ساعت چند جفت جوراب می‌بافد؟