

(۱) جاهای خالی را کامل کنید .

- مثلثی که ..... ضلع آن برابرند، متساوی‌الضلاع نام دارد .
- اندازه‌ی دور هر شکل را ..... می‌نامند.
- ..... سانتی‌متر یعنی ۱ متر و ۳۷ سانتی متر .
- ..... گرم یعنی ..... کیلوگرم و ..... گرم
- خط‌های ..... هیچ وقت یکدیگر را قطع نمی‌کنند .

(۲) الگوهای زیر را ادامه دهید .



۵۴ - ۶۰ - ..... - ..... - ..... - ..... - .....

(۳) عدد ۸۰۶۳ را در جدول ارزش مکانی قرار بده و به سوالات پاسخ بده .

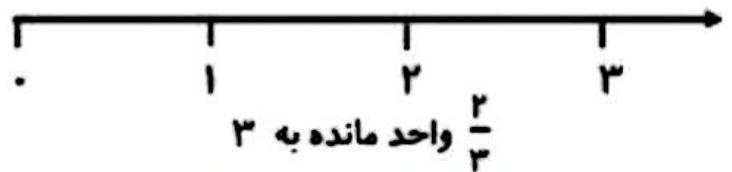
هزارگان	صدگان	دهگان	یکان

- عدد را با حروف بنویس .
- رقم صفر در چه مرتبه‌ای قرار دارد؟
- بزرگترین عدد در چه مرتبه‌ای قرار دارد؟


(۴) برنامه‌ی تلویزیونی عموپورنگ ساعت ۱۹:۳۰ پخش می‌شود. زمان پخش این برنامه ساعت چند بعد از ظهر است؟

کسر  $\frac{۴}{۶}$  را روی شکل نشان بدهید .

(۵) کسر زیر را روی محور نشان بدهید .



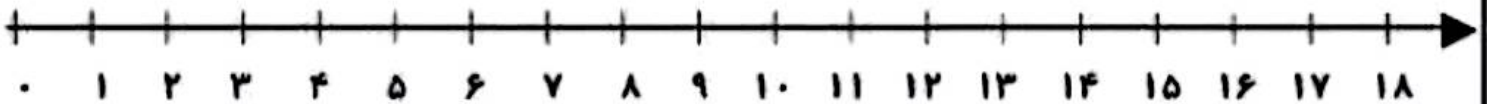
(۶) برای شکلهای روبه‌رو عملیات‌های خواسته شده را بنویسید .



..... + ..... + ..... + ..... + ..... + ..... = .....

..... × ..... = .....

..... ÷ ..... = .....



۷) مقایسه کنید و علامت ( $< = >$ ) بگذارید.

$\frac{2}{5} \bigcirc \frac{4}{5}$  ♥  $2000 + 2500 \bigcirc 1500 + 3000$  ♥  $\frac{1}{6} \bigcirc \frac{1}{4}$

$4 \times 1 \bigcirc 8 \times 0$  ♥ نیم ♥  $24 + 4 \bigcirc 15 + 3$  ♥  $30 \times 30 \bigcirc 60 \times 10$

۸) باغچه ای به شکل مستطیل به طول ۸ و عرض ۴ داریم. می‌خواهیم دورتادور آن را نرده بکشیم. برای دور تا دور آن به چند متر نرده نیاز داریم؟ مساحت این باغچه را به دست آورید.

۹) حاصل جمع و تفریق زیر را به دست آورید.

$$\begin{array}{r} 4652 \\ + 3247 \\ \hline \end{array}$$

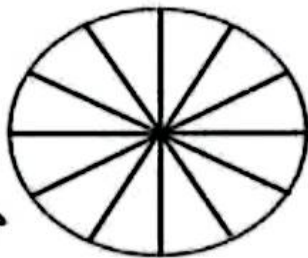


$$\begin{array}{r} 5802 \\ - 2369 \\ \hline \end{array}$$



۱۰) در باغ مشهدی یحیی درختان زیر کاشته شده است. با توجه به جدول نمودارها را کامل کنید.

درخت	زردآلو	سیب	گیلاس	هلو	گیلابی
تعداد	۱۵	۲۰	۵	۱۰	۱۰



هر قسمت - ۵ درخت

۱۱) حاصل ضرب و تقسیم زیر را به دست بیاورید.

$$\begin{array}{r} 236 \\ \times 4 \\ \hline \end{array}$$

$$\begin{array}{r} 32 \overline{) 6} \\ \hline \end{array}$$

۱۲) نام شکل‌های زیر را بنویسید.

