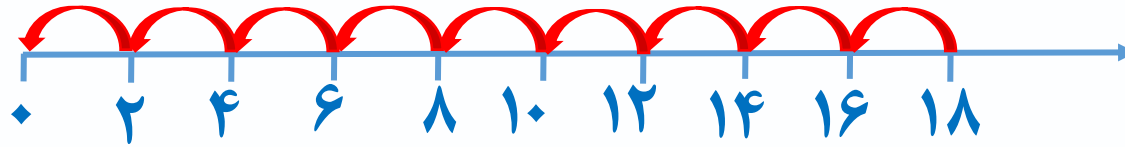
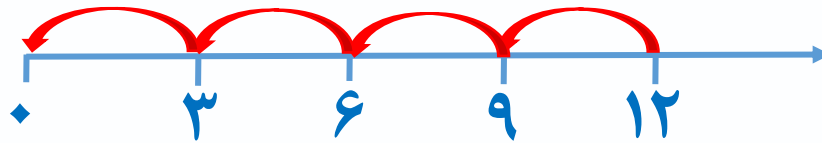


۸) برای تقسیم های زیر محور بکشید.

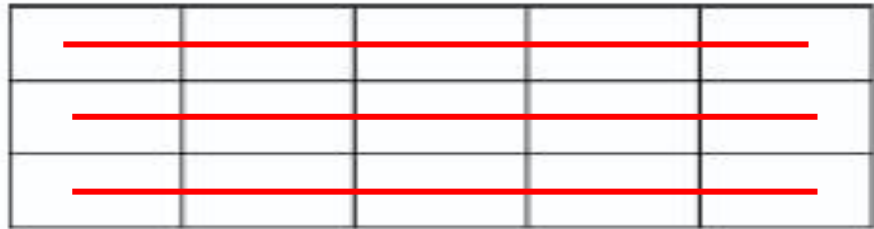
$$18 \div 2 = 9$$



$$12 \div 3 = 4$$



۹) شکل زیر را دسته بندی کنید و برای آن دو ضرب و دو تقسیم بنویسید.



$$3 \times 5 = 15$$

$$15 \div 3 = 5$$

$$5 \times 3 = 15$$

$$15 \div 5 = 3$$





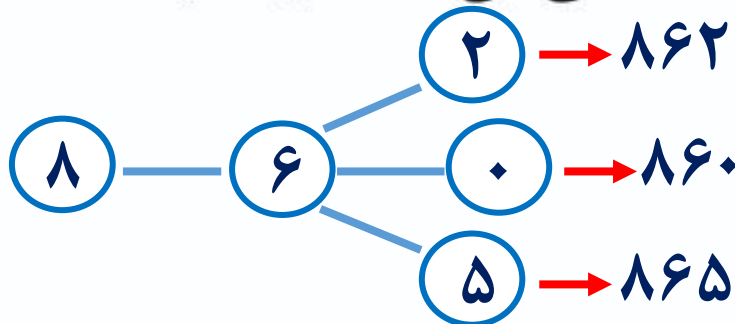
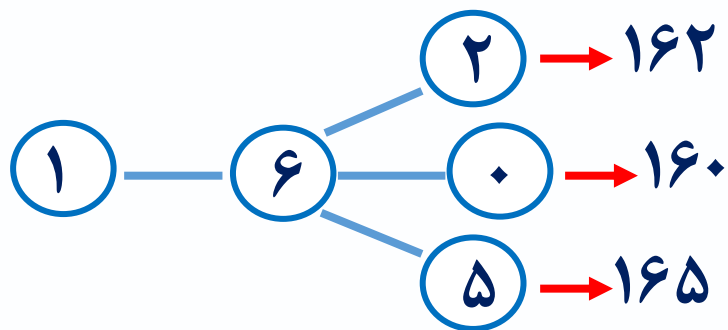
موضوع: فصل دوم (عددهای چهاررقمی)

تاریخ

نام و نام خانوادگی

هدف: مرور فصل دوم (عددهای چهاررقمی)

۱) همه ی عددهای سه رقمی را بنویسید که رقم یکان آن ها ۲ و ۰ و ۵ و رقم دهگان آن ها ۶ و رقم صدگان آن ها ۸ یا ۱ باشد.



$$0 + 6 = 6$$

$$3 + 3 = 6$$

۲) تمام حالت هایی را بنویسید که جمع دو عدد ۶ شود.

$$1 + 5 = 6$$

$$4 + 2 = 6$$

$$2 + 4 = 6$$

$$5 + 1 = 6$$

$$6 + 0 = 6$$

۳) به چند حالت می توانیم با سکه های ۱۰۰ و ۵۰ ریالی، ۳۰۰ ریالی درست کنیم؟

حالت اول  $\textcircled{100}$   $\textcircled{100}$   $\textcircled{100}$

حالت سوم  $\textcircled{100}$   $\textcircled{50}$   $\textcircled{50}$   $\textcircled{50}$   $\textcircled{50}$

حالت دوم  $\textcircled{100}$   $\textcircled{100}$   $\textcircled{50}$   $\textcircled{50}$

حالت چهارم  $\textcircled{50}$   $\textcircled{50}$   $\textcircled{50}$   $\textcircled{50}$   $\textcircled{50}$   $\textcircled{50}$

۴) الف) ۷ کیلومتر و ۹۰۶ متر چند متر است؟  $7906$  متر

ب)  $3096$  متر چند متر و چند کیلومتر است؟  $3$  کیلومتر و  $96$  متر

پ)  $4005$  گرم یعنی  $4$  کیلوگرم و  $5$  گرم

ت)  $2$  متر و  $5$  سانتی متر یعنی  $205$  سانتی متر

ث)  $4800$  ریال برابر است با  $480$  تومان

ج)  $290$  تومان برابر است با  $2900$  ریال

چ)  $350$  ریال برابر است با  $35$  تومان





موضوع: فصل دوم (عددهای چهاررقمی)

تاریخ

نام و نام خانوادگی

هدف: مرور فصل دوم (عددهای چهاررقمی)

۵) باز شده ی هر عدد را بنویس.

$$4001 = 4000 + 1$$

$$6050 = 6000 + 50$$

$$9092 = 9000 + 90 + 2$$

۶) در مربع ها عددهای مناسب بنویسید و دور عددی که به عدد داخل دایره نزدیک است، خط بکشید.



۷) حاصل عبارت ها را بنویسید.

$$20 + 50 + 100 + 200 + 300 =$$

$$2000 - 200 =$$

$$5000 + 30 + 700 + 4 =$$

$$2 = (2 \text{ هزارتایی}) + (5 \text{ هزارتایی}) + (5 \text{ ده تایی}) =$$

$$6000 + 1 + 90 =$$

$$5000 - 3000 =$$

$$8000 - 300 =$$

$$7 = (7 \text{ هزارتایی}) + (6 \text{ صد تایی}) =$$

$$3000 + 2000 + 4 + 70 =$$