



موضوع:

تاریخ

نام و نام خانوادگی

هدف:

۱ الگوی زیر را ادامه دهید.

۲۴۰ - ۲۵۰ - ۲۴۵ - ۲۵۵ - - -
۰ - ۱ - ۴ - ۹ - - -

۲ جدول های داده شده را کامل کنید.


زمان	۱۷:۲۳	۲۳		۲۰
بعدازظهر			۲:۱۵	

ریال	۵۰۰۰		۳۰۷۰
تومان		۶۰۵	

۳ جاهای خالی داده شده را پر کنید.

۲۷۷۰ گرم یعنی کیلو و گرم .
۳۲۵ سانتی متر یعنی متر و سانتی متر .
عدد ۶۰۲۸ یعنی یکی و ده تایی و صدتایی و هزارتایی .

۴ عددهای داخل مستطیل به کدام عدد نزدیک تر است؟



۵ حاصل ضرب ها را با روش خواسته شده بدست آورید.

$7 * 6 =$

الف) با جمع

بازخورد:

Blank area for student feedback.





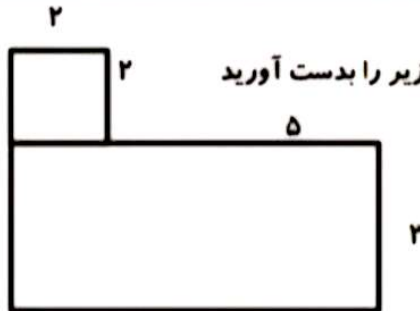
$3 \times 4 =$

(ب) به کمک محور

$6 \times 3 =$

(ج) به کمک رسم شکل

برای شکل داده شده دو ضرب و دو تقسیم بنویسید.



محیط :

مساحت :

محیط و مساحت شکل های زیر را بدست آورید

$(2 \times 3) + (8 \times 5) = \dots * \dots = \dots$

حاصل عبارت های زیر را بدست آورید.

$8 * 10 * 40 = \dots$

$3 * 30 * 50 = \dots$

جمع و تفریق های زیر را به صورت فرآیندی انجام بده.

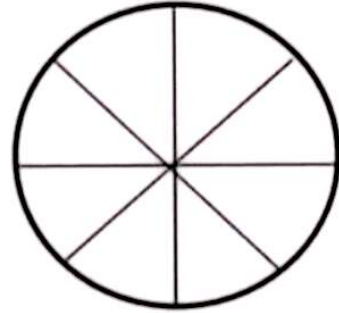
$$\begin{array}{r} 3254 \\ + 4235 \\ \hline \end{array}$$

$$\begin{array}{r} 7438 \\ - 3562 \\ \hline \end{array}$$

در جدول زیر نوع درخت های یک پارک داده شده است . با توجه به اطلاعات داده شده ، نمودار دایره ای را کامل کنید.



چنار	بلوط	توت	کاج	نوع درخت
۵۰	۵۰	۱۰۰	۲۰۰	تعداد



۱۰ حاصل تقسیم های داده شده را به دست آورید. باقی مانده و خارج قسمت را نیز نشان دهید.

$$42 \overline{) \quad}$$

$$57 \overline{) \quad}$$

$$63 \overline{) \quad}$$

$$423$$

$$\times 6$$

۱۱ ضرب روبه رو را به روش فرآیندی پاسخ دهید.

۱۲ در یک پادگان، سربازان در ۷ صف ۱۰ نفره ایستاده اند و ۶ نفر در جلوی صف، پرچم در دست دارند. در پادگان چند سرباز هستند؟

۱۳ پاسخ ضرب های زیر را با استفاده از شکل به دست آورید.

$$2 * 234 =$$

$$2 * 52 =$$

$$4 * 320 =$$

۱۴ شکل ها را با رنگ کردن کامل کنید.



$$\frac{3 \text{ واحد و } 2 \text{ واحد}}{6}$$



۱۵ تعداد کتاب های سارا در جدول زیر آمده است. با توجه به داده های جدول، نمودار ستونی مربوطه را تکمیل کنید.

سرگرمی	مذهبی	علمی	داستان	نوع
۱۰	۳۰	۲۰	۲۰	تعداد

تعداد



۱۶

۱۷ کسرهای زیر را روی محور نشان دهید.



$$\frac{2}{3}$$

واحد بعد از عدد ۳



$$\frac{3}{4}$$

واحد مانده به عدد ۲

بازخورد:

Four horizontal lines for writing feedback.





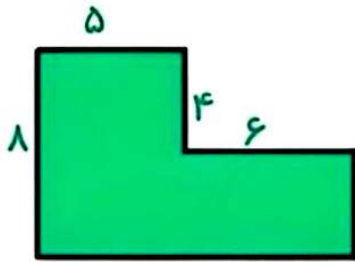
موضوع:

تاریخ

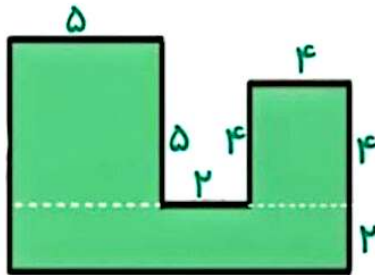
نام و نام خانوادگی

هدف:

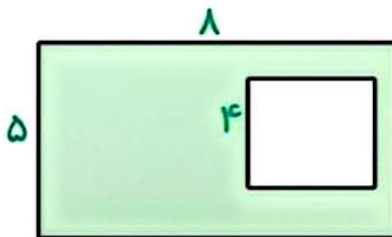
محیط و مساحت شکل های زیر را آورید .



= محیط



= مساحت



= مساحت قسمت رنگی

بازخورد:

Blank area for feedback with horizontal lines.





موضوع:

تاریخ


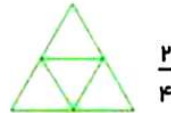
نام و نام خانوادگی

۱- پسرم عدد ۶۳۰۷ را با حروف بنویس و به پرسش ها پاسخ بده :

----- ارزش مکانی رقم ۳ چیست ؟

----- ارزش مکانی کدام رقم از همه بیشتر است ؟

۲- به اندازه ی کسر نوشته شده شکل ها را رنگ بزن .



۳- علامت < = > قرار بده:

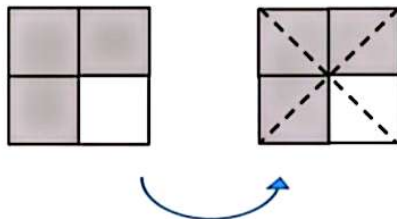
$\frac{5}{9} \bigcirc \frac{7}{9}$

$\frac{2}{2} \bigcirc 1$

$\frac{1}{4} \bigcirc \frac{1}{7}$

$\frac{3}{5} \bigcirc \frac{4}{5}$

۴- یک تساوی برای شکل زیر بنویس :



----- = -----

۵- جاهای خالی را با اعداد مناسب کامل کن.

۲۶۰ گرم ----- کیلوگرم و ----- گرم

۳۲۰۵ متر ----- کیلومتر و ----- متر

۴ کیلوگرم و ۳۵۰ گرم = -----

۱۴۷ ساتی متر یعنی ----- متر و ----- ساتی متر

بازخورد:





۶- سارا هر برچسب را ۳۰۰ تومان می خرد و ۴۰۰ تومان می فروشد . با توجه به جدول داده شده به سوالات پاسخ بده:

تعداد برچسب	۱	۲	۳				
سود							

-فروش یک برچسب چند تومان برایش سود دارد؟

-اگر او ۳ برچسب بفروشد چند تومان سود می برد؟

-او باید چند برچسب بفروشد تا با سود آن بتواند یک برچسب دیگر بخرد؟

۷- حاصل ضرب و تقسیم و جمع و تفریق های زیر را بدست آورید؟

$$\begin{array}{r} 252 \\ \times 3 \\ \hline \end{array}$$

$$\begin{array}{r} 3596 \\ + 1485 \\ \hline \end{array}$$

$$\begin{array}{r} 9405 \\ - 3542 \\ \hline \end{array}$$

$$\circ \times 9 =$$

$$50 \overline{) 7}$$

$$46 \overline{) 9}$$

$$1 \times 45 =$$

$$2 \times 8 \times 100 =$$

بازخورد:





۸- محیط و مساحت شکل های داده شده را پیدا کن.



= محیط

= مساحت



= محیط


= مساحت

۹- همه ی عدد های ۳ رقمی که رقم یکان آنها (۰ و ۷ و ۵) و رقم دهگان آنها (۴) و رقم صدگان آنها (۸ و ۶) باشد

۱۰- می خواهیم ۶ بسته ی ۱۲ تایی مداد رنگی را بین ۹ نفر به طور مساوی تقسیم کنیم به هر کدام چند تا مداد می رسد ؟ چند تای دیگر باقی می ماند؟

بازحورد:

Blank area for drawing or writing.



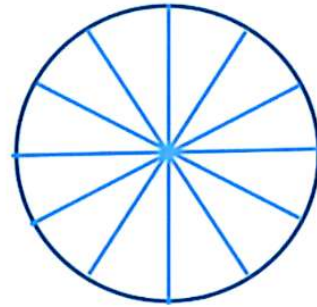
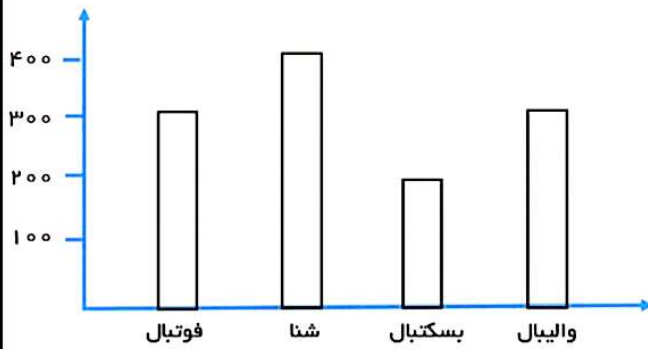


موضوع:

تاریخ

نام و نام خانوادگی

۱۱- نمودار ستونی زیر نشان دهنده ی علاقه ی دانش آموزان یک مدرسه به رشته های ورزشی است . با توجه به آن نمودار دایره ای را کامل کن و به سوالات پاسخ بده:



نکته : هر ۱۰۰ نفر یک قسمت

الف (علاقمندان به کدام ورزش از همه بیشتر است؟

ب) کسر $\frac{2}{12}$ در نمودار دایره ای مربوط به کدام ورزش بیشتر است؟

ج) چند دانش آموز به ورزش فوتبال علاقه دارند؟

بازخورد:

Blank area for student feedback, enclosed in a dashed orange border.

