

زنگ ریاضی





موضوع: فصل دوم (عددهای چهاررقمی)

تاریخ

نام و نام خانوادگی

هدف: مرور فصل دوم (عددهای چهاررقمی)

۵) باز شده ی هر عدد را بنویس.

$$4001 =$$

$$6050 =$$

$$9092 =$$

۶) در مربع ها عددهای مناسب بنویسید و دور عددی که به عدد داخل دایره نزدیک است، خط بکشید.



۷) حاصل عبارت ها را بنویسید.

$$20 + 50 + 100 + 200 + 300 =$$

$$2000 - 200 =$$

$$5000 + 30 + 700 + 4 =$$

$$= 2 \text{ (هزارتایی)} + 5 \text{ (هزارتایی)} + 5 \text{ (ده تایی)}$$

$$6000 + 1 + 90 =$$

$$5000 - 3000 =$$

$$8000 - 300 =$$

$$= 7 \text{ (هزارتایی)} + 6 \text{ (صد تایی)}$$

$$3000 + 2000 + 4 + 70 =$$

۸) یک دلار در کشوری به اندازه ۲۰۰۰ تومان ارزش دارد. ۴ دلار این کشور ارزش بیشتری دارد یا ۸۵۰۰ تومان؟ چرا؟

۹) برای خرید ۴ نان ۱۰۰۰ تومانی و ۳ نان ۵۰۰ تومانی و ۲ نان ۲۵۰ تومانی چند تومان پول لازم داریم؟





نام و نام خانوادگی

تاریخ

موضوع: فصل اول (الگوها)

هدف: مرور فصل اول (الگوها)

۱) الگوها را ادامه دهید.

۲, ۵, ۹, —, —, —

۸۳, ۹۲, ۱۰۱, —, —, —

۱, ۲, ۵, ۱۰, —, —, —

—, —, —, ۴۲۴, ۴۳۰, ۴۳۶

۲) ساختمانی ۴ طبقه داریم. بالاترین طبقه ی آن ۲ واحد دارد. اما هر طبقه که پایین می رویم یک واحد اضافه می شود. اگر هر واحد ۲ اتاق داشته باشد:

الف) طبقه دوم چند واحد دارد؟

ب) طبقه ی اول چند اتاق دارد؟



۳) مغازه داری دفتری را ۳۰۰ ریال می خرد و ۳۵۰ ریال می فروشد.

الف) اگر ۴ دفتر بفروشد، چند ریال سود می کند؟

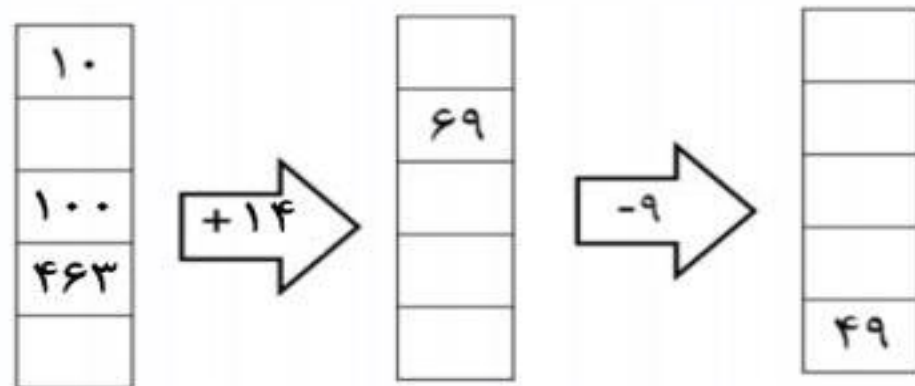
ب) چند دفتر بفروشد تا بتواند با سود آن یک دفتر بخرد؟

| تعداد دفتر | | | | | | |
|------------|--|--|--|--|--|--|
| سود | | | | | | |

۴) شکل های زیر را دسته بندی کنید و به کمک الگو یا جمع تعداد مربع ها را بشمارید.



۵) جاهای خالی را کامل کنید.



۶) امروز سه شنبه و اولین روز ماه است. تا آخر این ماه، سه شنبه ها چه روزهایی از ماه هستند؟

۹) با توجه به خط تقارن، نیمه ی دیگر شکل ها را کامل کنید و تعداد مربع های شکل ها را بنویسید.

