

۴) با استفاده از جدول تناسب تبدیل واحدها را انجام دهید.

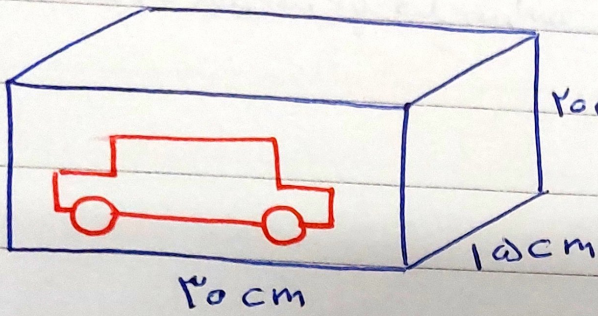
الف) ۵/۱۵ دسی متر چند میلی متر است؟

ب) ۴/۱۷ متر مربع چند سانتی متر مربع است؟

پ) ۵/۵۷ سانتی متر چند دسی متر است؟

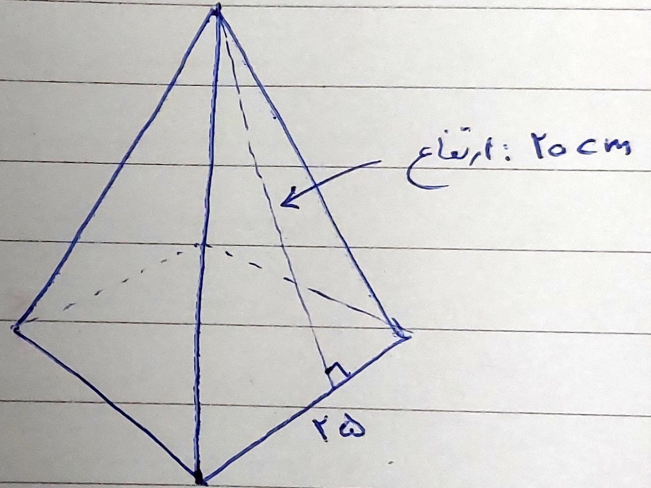

ت) ۲۷۵۵ متر چند میلی متر است؟

۱) می‌خواهیم صعبی با ابعاد زیر را با کاغذ کادو بپوشانیم به طوری که تصویر آن مشخص باشد.

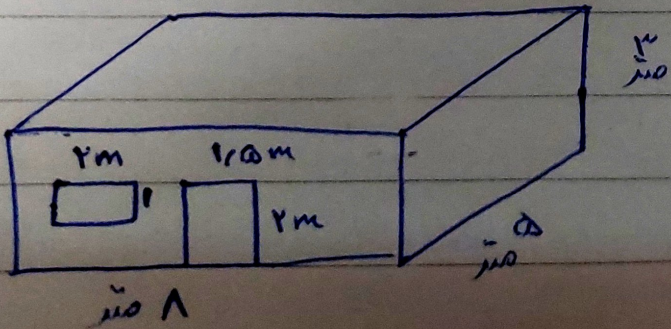


باشد؛ حداقل چه میزان کاغذ کادو نیاز داریم

۲) مساحت جانبی را در هر بخش به دست آورید.



۳) می‌خواهیم دیوارها و سقف اتاقی با ابعاد زیر را رنگ کنیم؛ چه مساحتی را باید



رنگ کنیم؟