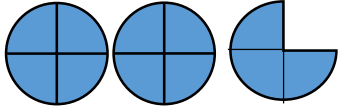
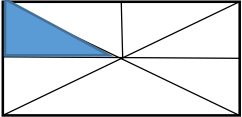
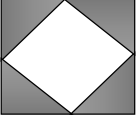
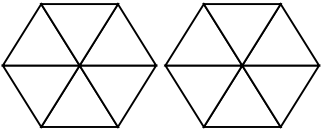


عملکرد	سوالات	ردیف
	<p>جاهای خالی را با کلمات و یا اعداد مناسب پر کنید .</p> <p>(الف) هرگاه حاصل ضرب دو عدد برابر ۱ باشد آن دو عدد را یکدیگر می نامند.</p> <p>(ب) کسری کوچکتر از واحد است که صورت آن از مخرجش باشد.</p> <p>(ج) کسری برابر با $\frac{1}{3}$ با مخرج ۷۲ : $\frac{\dots}{72}$</p> <p>(د) کوچکترین مخرج مشترک ۱۴ و ۸ عدد می باشد.</p>	۱
	<p>درست یا نادرست بودن جملات زیر رامشخص کنید.</p> <p>(الف) اگر صورت کسر ثابت بماند ولی مخرج آن بر عددی بزرگتر از یک تقسیم شود ، خود کسر بزرگتر می شود.</p> <p>(ب) هر عدد بزرتر از ۱ ، یک کسر بزرگتر از واحد است .</p> <p>(ج) حاصل ضرب دو کسر همواره از خود آن دو کسر بیشتر است.</p> <p>(د) امکان ندارد که $\frac{1}{4}$ پول یک نفر با $\frac{1}{3}$ پول نفر دیگر برابر باشد.</p>	۲
	<p>شکل های زیر چه کسری را نشان می دهند؟</p> <div style="display: flex; justify-content: space-around; align-items: center;"> <div style="text-align: center;">  <p>.....</p> </div> <div style="text-align: center;">  <p>.....</p> </div> <div style="text-align: center;">  <p>.....</p> </div> </div>	۳
	<p>با رنگ کردن شکل عدد مخلوط داده شده را مشخص کنید.</p> <div style="display: flex; align-items: center; justify-content: center;">  <div style="margin-left: 20px;"> $\frac{2}{3}$ </div> </div>	۴
	<p>باک اتومبیلی $\frac{1}{8}$ ظرفیت خود بنزین دارد. اگر ۱۸ لیتر بنزین به آن اضافه شود ، باک تا نیمه پر می گردد. ظرفیت باک این اتومبیل چقدر می باشد؟</p>	۵
	<p>علی $\frac{1}{8}$ پول خود را کتاب خرید و با $\frac{5}{9}$ بقیه ی پولش تعدادی مداد خرید و ۳۲ ریال پول برایش باقی ماند . تمام پول او چقدر بوده است؟</p>	۶
	<p>حاصل عبارات زیر را بدست آورید .</p> <div style="display: flex; justify-content: space-around;"> <div style="text-align: center;"> $6\frac{5}{3} + 3\frac{3}{4} =$ $\frac{24}{105} \times \frac{5}{18} =$ $\frac{2}{5} \div 2 =$ </div> <div style="text-align: center;"> $\frac{7}{34} - \frac{2}{17} =$ $4\frac{1}{16} - 3\frac{3}{24} =$ </div> </div>	۷

ردیف	سوالات	عملکرد									
۸	در جاهای خالی علامت مناسب قرار دهید (<=>) $\frac{۳۵}{۴۰} \bigcirc \frac{۵۴}{۴۰}$ $\frac{۲۵}{۱۰۰} \bigcirc \frac{۲۵}{۱۰۰۰}$ $\frac{۷}{۱۸} \bigcirc \frac{۹}{۱۴}$ $۲\frac{۹}{۱۰} \bigcirc \frac{۱۵}{۵}$										
۹	تقسیم زیر را با استفاده از شکل انجام دهید. $\frac{۹}{۵} \div \frac{۲}{۵} =$										
۱۰	در مربع زیر ، مجموع اعداد در هر سطر و ستون برابر است به جاهای خالی را کامل کنید. (با راه حل) <table border="1" style="margin-left: auto; margin-right: auto;"> <tr> <td>$\frac{۴}{۵}$</td> <td>$\frac{۳}{۵}$</td> <td>$\frac{۲}{۱۵}$</td> </tr> <tr> <td>.....</td> <td>.....</td> <td>.....</td> </tr> <tr> <td>$\frac{۸}{۱۵}$</td> <td>$\frac{۱}{۱۵}$</td> <td>.....</td> </tr> </table>	$\frac{۴}{۵}$	$\frac{۳}{۵}$	$\frac{۲}{۱۵}$	$\frac{۸}{۱۵}$	$\frac{۱}{۱۵}$	
$\frac{۴}{۵}$	$\frac{۳}{۵}$	$\frac{۲}{۱۵}$									
.....									
$\frac{۸}{۱۵}$	$\frac{۱}{۱۵}$									
۱۱	نصف عدد $۹۹\frac{۱}{۲}$ را بدست آورید.										
۱۲	طول و عرض باغچه ای به ترتیب $۳\frac{۳}{۱۰}$ و $۱\frac{۴}{۵}$ است . الف (محیط آن را به دست آورید. ب)مساحت آن را به دست آورید .										

موفق باشید

ردیف	گویه ها	عملکرد
۱	می توانم کسر ها و اعداد مخلوطی را که شکل ها نشان می دهند بنویسم.	
۲	در جمع و تفریق کسر ها مشکلی ندارم .	
۳	در ضرب و تقسیم کسر ها مشکلی ندارم .	
۴	می توانم مسئله های مربوط به کسر ها را به راحتی حل کنم.	

پیاموز | Biamoz.com

بزرگترین مرجع آموزشی و نمونه سوالات درسی تمامی مقاطع

شامل انواع | نمونه سوالات | فصل به فصل | پایان ترم | جزوه |

ویدئوهای آموزشی | گام به گام | طرح درس | طرح جابر | و ...

اینستاگرام

گروه تلگرام

کانال تلگرام

برای ورود به هر پایه در سایت ما روی اسم آن کلیک کنید

دبستان

اول	دوم	سوم	چهارم	پنجم	ششم
-----	-----	-----	-------	------	-----

متوسطه اول

هفتم	هشتم	نهم
------	------	-----

متوسطه دوم

دهم	یازدهم	دوازدهم
-----	--------	---------