

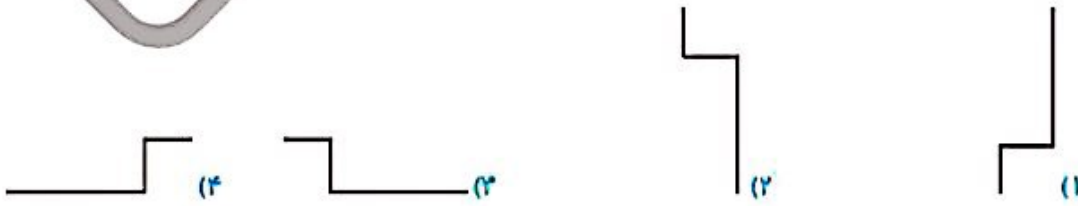
سؤالات ریاضی پیشرفته



نسبت به محور عرض‌ها و سپس نسبت به محور طول‌ها کدام شکل است؟

قربنه‌ی

۱



مجموع تعداد خط‌های تقارن یک صد ضلعی منتظم و صد و دو ضلعی منتظم برابر با کدام گزینه است؟

۲

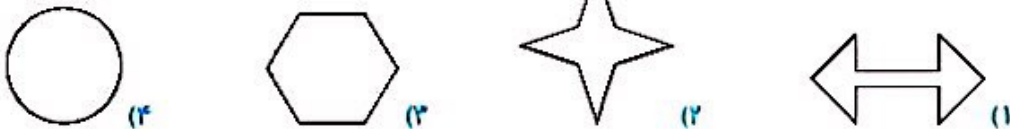
۱) ۲۰۲ خط تقارن ۲) ۲ خط تقارن ۳) ۱۰۲ خط تقارن ۴) ۱۰۰ خط تقارن

تقلین و مختصات ➤ فصل چهارم

۱۵

تعداد محورهای تقارن کدام یک از شکل‌های زیر، کم‌تر است؟

۲



برنا در آرایشگاه نشسته بود. او در یک لحظه ساعت را در آینه این‌طور دید:

۴

اگر ده دقیقه پیش به آینه نگاه می‌کرد، ساعت را چطور می‌دید؟

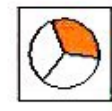
(کلیکورو)



یک کارت داریم. آن را روی ضلع سمت راستش برمی‌گردانیم و شکل زیر را می‌بینیم. اگر آن را روی ضلع پایینی‌اش

۵

برمی‌گردانیم چه می‌دیدیم؟



زنگ تفریح

شش‌های هیچ انسانی متقارن نیست و معمولاً شش چپ اندکی از شش راست کوچک‌تر است تا قلب به‌طور کامل در قفسه‌ی سینه جا بگیرد.