

طرح سنجش استعداد: مداد قرمز ۳ - توصیفی
مدت پاسخگویی و انجام فعالیت: ۴۵ دقیقه


درس: استعداد فضایی ششم دبستان
زمان برگزاری: هفته دوم اسفند







علوی

فعالیت‌های استعداد فضایی پایه‌ی ششم

فعالیت ۱

۳۶- به تصویر داده شده توجه کنید. از هر شکل چند تا وجود دارد؟



- ← (الف) 
- ← (ب) 
- ← (پ) 
- ← (ت) 
- ← (ث) 
- ← (ج) 

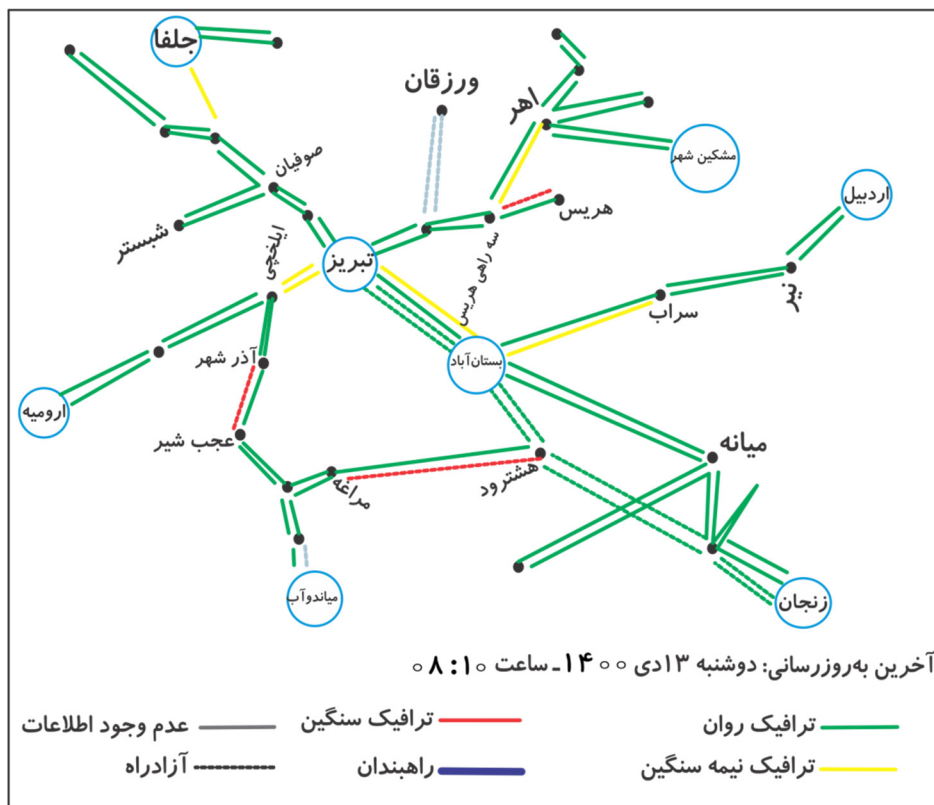
طرح سنجش استعداد: مداد قرمز ۳ - توصیفی
مدت پاسخگویی و انجام فعالیت: ۴۵ دقیقه

درس: استعداد فضایی ششم دبستان
زمان برگزاری: هفته دوم اسفند

علوی

فعالیت ۲

۳۷- به نقشه‌ی ترافیکی با مرکزیت تبریز توجه کنید. سپس به پرسش‌های داده شده پاسخ دهید.



الف) با توجه به راهنمای نقشه، آخرین به روز رسانی در چه زمانی صورت گرفته است؟

(۱) روز: (۲) ماه: (۳) سال: (۴) ساعت:

ب) هر یک از وضعیت‌های ترافیکی با چه رنگی نمایش داده شده‌اند؟

(۱) ترافیک نیمه سنگین:
 (۲) راهبندان:
 (۳) ترافیک روان:
 (۴) ترافیک سنگین:

پ) دو مسیر دارای ترافیک سنگین را نام ببرید. (مانند نمونه)

نمونه: سه راهی هریس - هریس

(۱) (۲)

ت) بین کدام دو شهر در هر دو مسیر ترافیک نیمه سنگین وجود دارد؟

(۱) صوفیان - شبستر (۲) تبریز - ایلخچی (۳) آذرشهر - عجب شیر (۴) تبریز - بستان آباد

ث) شهر «سراب» در مسیر کدام دو شهر قرار دارد؟

(۱) تبریز - بستان آباد (۲) نیر - اردبیل (۳) بستان آباد - نیر (۴) بستان آباد - میانه

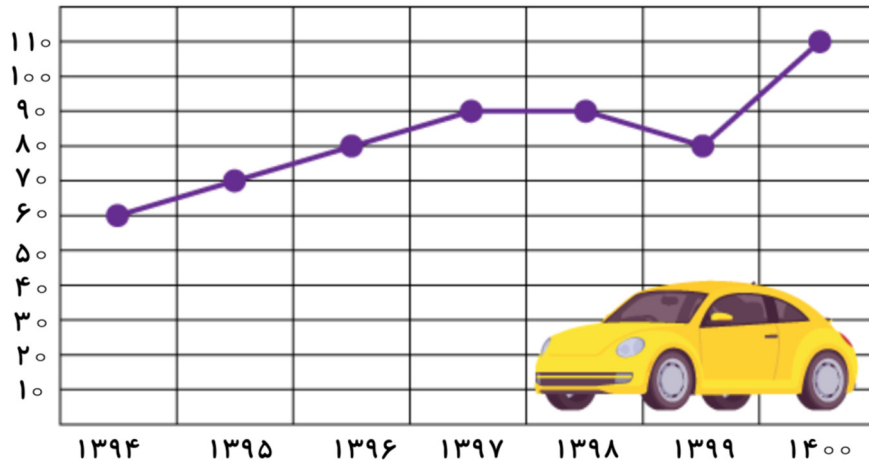
طرح سنجش استعداد: مداد قرمز ۳ - توصیفی
مدت پاسخگویی و انجام فعالیت: ۴۵ دقیقه

درس: استعداد فضایی ششم دبستان
زمان برگزاری: هفته دوم اسفند

علوی

فعالیت ۳

۳۸- با توجه به نمودار تعداد فروش اتومبیل در یک نمایشگاه خودرو، به پرسش‌های داده شده پاسخ دهید.



(الف) در نمودار داده شده تعداد فروش اتومبیل در چند سال نمایش داده شده است؟

(ب) بیشترین و کمترین تعداد فروش در چه سال‌هایی و به چه تعداد صورت گرفته است؟

(۱) بیشترین در سال: - تعداد اتومبیل فروخته شده:

(۲) کمترین در سال: - تعداد اتومبیل فروخته شده:

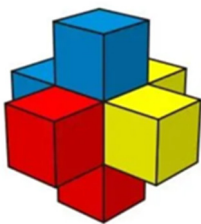
(پ) در کدام سال‌ها تعداد فروش اتومبیل یکسان بوده است؟

(۱) و (۲) و

(ت) در سال ۱۳۹۷ چه تعداد ماشین بیشتر از سال ۱۳۹۵ فروخته شده است؟

فعالیت ۴


۳۹- (الف) اگر به شکل سه بعدی داده شده، از بالا نگاه کنید کدام تصویر را می‌بینید؟



(۴)




(۳)



(۲)



(۱)

(ب) این شکل از چند  کوچک تشکیل شده است؟

علوی

درس: استعداد فضایی ششم دبستان

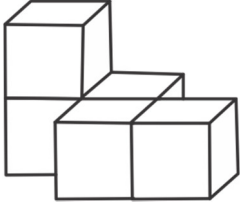
طرح سنجش استعداد: مداد قرمز ۳ - توصیفی


زمان برگزاری: هفته دوم اسفند

مدت پاسخگویی و انجام فعالیت: ۴۵ دقیقه

فعالیت ۵

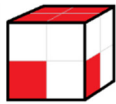
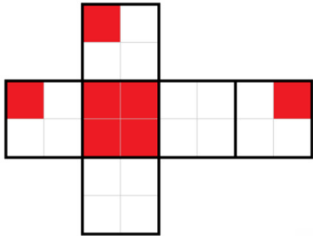
۴۰- الف) به تصویر داده شده با دقت نگاه کنید و آن را بکشید.



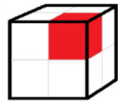
ب) این شکل از چند  تشکیل شده است؟

فعالیت ۶

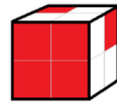
۴۱- اگر گسترده‌ی داده شده به صورت مکعب درآید، کدام شکل حاصل می‌شود؟



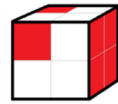
(۴)



(۳)



(۲)



(۱)

فعالیت ۷

۴۲- کدام یک از قسمت‌های داده شده بعد از چرخش، جای خالی را پر می‌کند؟

