

ر جاهای خالی کلمه (عدد) مناسب بنویسید.

یک کیلومتر مربع اندازه ی مساحت یک مربع به ضلع ..... متر می باشد.

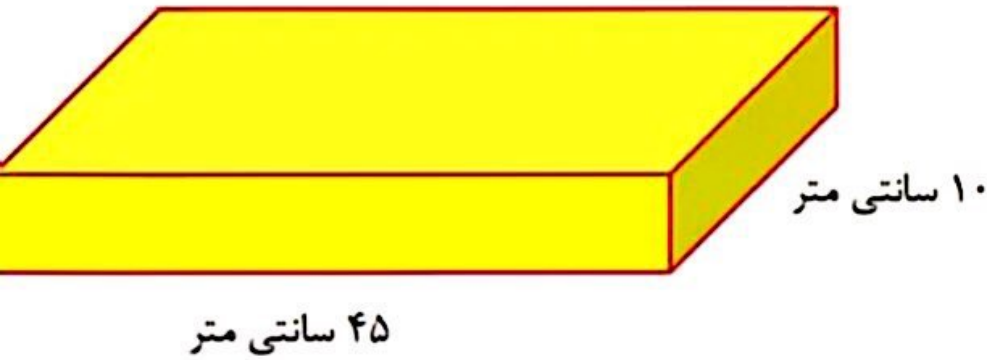
حجم کمد آشپزخانه  $1/21$  ..... است.

خطی که از وسط یک پاره خط بگذرد و بر آن عمود باشد ..... نام دارد.

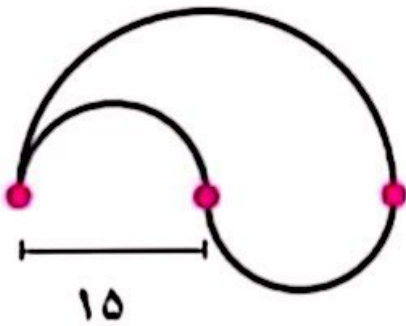
هر ضلع مکعبی ۳ برابر شود ، حجم آن مکعب ..... برابر خواهد شد.

$3/6$  تن برابر با ..... کیلوگرم است.

اگر حجم مکعب مستطیل زیر ۵۴۰۰ سانتی متر مکعب باشد. ارتفاع آن را بدست آورید.



محیط و مساحت شکل زیر را به دست آورید



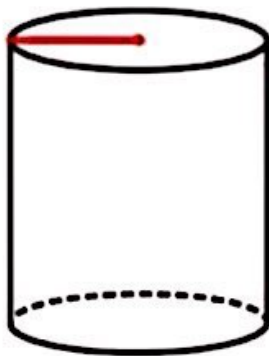
مساحت قسمت رنگی را به دست آورید



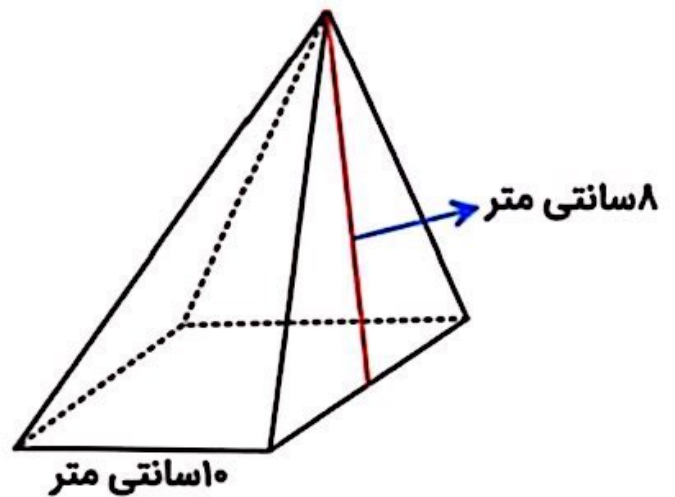
حجمهای زیر با مقوا ساخته شده اند. برای ساخت هر کدام چقدر مقو

استفاده شده است؟ (عدد پی = ۳)

۱۰ سانتی متر



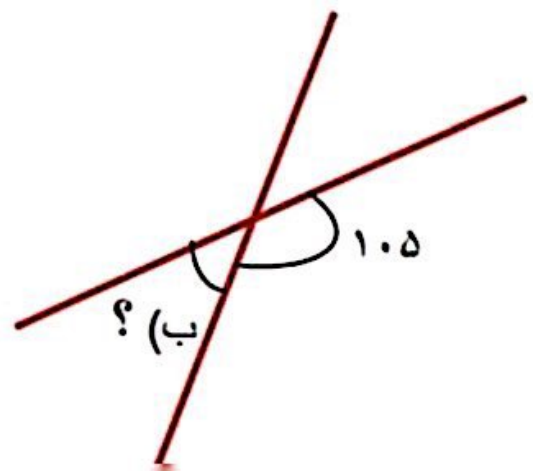
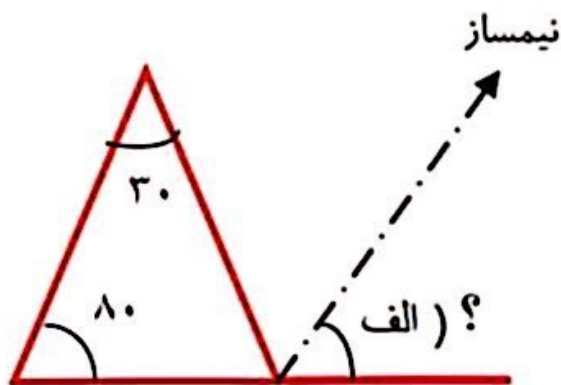
۲۰ سانتی متر



۸ سانتی متر

۱۰ سانتی متر

اندازه ی زاویه های خواسته شده را پیدا کنید.



**نسبت دو زاویه ی متمم ۲ به ۳ است. هر کدام چند درجه است؟**

**زاویه ی بین عقربه ی ساعت شمار و دقیقه شمار را محاسبه کنید**

**۹:۳۰**

**۶:۰۰**

**در یک شهر ۲ کیلومتر مربع زمین کشاورزی وجود دارد. اگر از هر هکتار آن هر ساله ۱۰۰۰۰ کیلوگرم گندم برداشت شود، در این شهر هر سال چند کیلوگرم گندم تولید میشود؟**