



با توجه به عدد ۸۴۵۰۲۳۶۱۷۹ به سوالات زیر پاسخ دهید.

الف) عدد را با حروف بنویسید.

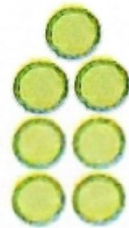
ب) ارزش مکانی بیشترین رقم چیست؟

ج) اگر عدد را در ۱۰۰ ضرب کنیم ارزش مکانی رقم ۷ چه تغییری می کند؟


با توجه به الگوی زیر به سوالات پاسخ دهید.



د ۱)



د ۲)



د ۳)

د ۴)

الف) شکل چهارم را رسم کنید.

ب) چندمین شکل ۶۳ دایره درست شده است؟


ج) شکل بیستم از چند دایره درست شده است؟

در هر ردیف، عدد وسطی به کدام نزدیک تر است؟ علامت بزنید.

۳۰۰۰۰۰۰۰۰



۳۸۲۵۴۳۶۰۹




۴۰۰۰۰۰۰۰۰

۲۵



۲۵/۰۸۳



۲۵/۱

۴ در کدام عدد بیشترین رقم کمترین ارزش مکانی را دارد؟

ب) ۴۸۹۳۵۰۷

الف) ۳۷۸۲۹۵۷

د) ۹۶۵۳۲۴۰۱

ج) ۵۴۶۰۲۳۹۵

۵ در عدد ۲۵۰۲۱۲۴۳۸ رقم ۲ در کدام مرتبه قرار ندارد؟

ب) صدگان هزار

الف) یکان هزار

د) صدگان

ج) صدگان میلیون

