



موضوع:

تاریخ

نام و نام خانوادگی

هدف:

عبارات های درست را با علامت  و عبارات های نادرست را با علامت  مشخص کنید.

الف) حاصل تقسیم هر کسر بر خودش برابر ۱ است.

ب) حاصل تقسیم ۱ بر هر عددی خود آن عدد است.

پ) حاصل تقسیم هر عددی بر ۱، معکوس آن عدد است.

حاصل کدام گزینه عددی کوچکتر است؟

ت)  $\frac{1}{2} \div \frac{1}{3}$

پ)  $3 \div \frac{1}{2}$

ب)  $2 \div \frac{1}{3}$

الف)  $2 \div \frac{1}{2}$

حاصل عبارات های زیر را به روش دلخواه به دست آورید.

الف)  $3\frac{2}{4} \div \frac{1}{3} =$

ب)  $1\frac{7}{8} \div 2\frac{1}{3} =$

پ)  $\frac{4}{9} \div 3\frac{1}{3} =$

ت)  $2\frac{5}{7} \div \frac{1}{14} =$

محیط یک لوزی برابر با  $5\frac{1}{5}$  متر است. طول یک ضلع آن چقدر است؟

۱۲ لیتر شیر را در بطری های  $\frac{1}{4}$  متر مربع است. تعداد بطری ها چندتا است؟

$11\frac{1}{4}$  کیلوگرم تخمه ی آفتاب گردان را در بسته های  $1\frac{1}{4}$  کیلوگرمی تقسیم می کنیم. تعداد بسته های مورد نیاز را محاسبه کنید.

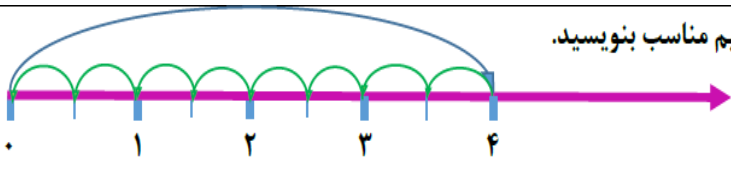


نام و نام خانوادگی: \_\_\_\_\_ تاریخ: \_\_\_\_\_

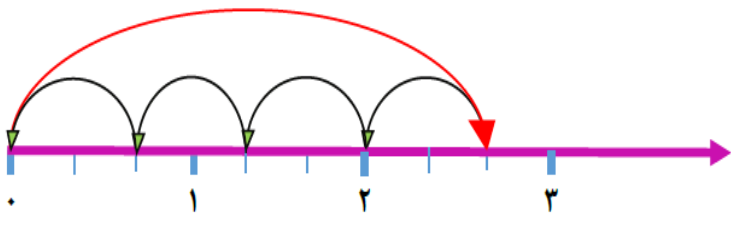
موضوع: \_\_\_\_\_ هدف: \_\_\_\_\_

برای هر یک از محور های زیر یک عبارت تقسیم مناسب بنویسید.

(الف)




(ب)



مساحت مستطیلی برابر با  $4\frac{1}{2}$  مترمربع است. اگر طول آن  $2\frac{1}{3}$  متر باشد:

(الف) عرض مستطیل را حساب کنید.

(ب) محیط مستطیل را حساب کنید.





نام و نام خانوادگی

موضوع:

تاریخ

هدف:

