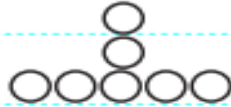


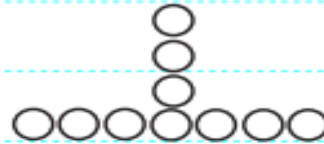
الف) در الگوی زیر شکل بعدی را رسم کرده و سپس جدول را کامل کنید.



(۱)



(۲)



(۳)

(۴)

| | | | | | | | |
|-------------------------------|---|---|---|---|----|----|--------------------------|
| شماره شکل | ۱ | ۲ | ۳ | ۴ | | ۱۰ | <input type="checkbox"/> |
| رابطه تعداد دایره و شماره شکل | | | | | | | |
| تعداد دایره | | | | | ۲۵ | | <input type="checkbox"/> |

ب) رابطه بین تعداد دایره و شماره شکل را بنویسید.

۱- با توجه به الگوی زیر.

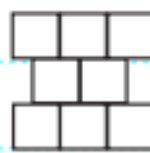
الف) جدول را کامل کنید.



(۱)



(۲)



(۳)

| | | | | | | | |
|-------------------------------|---|---|---|---|---|----|--------------------------|
| شماره شکل | ۱ | ۲ | ۳ | ۴ | ۹ | | <input type="checkbox"/> |
| رابطه تعداد دایره و شماره شکل | | | | | | | |
| تعداد دایره | | | | | | ۲۹ | <input type="radio"/> |

ب) رابطه بین تعداد دایره و شماره شکل را بنویسید.

ج) شکل چندم با ۴۴ مربع ساخته شده است؟

- اعداد زوج و فرد را مشخص کنید. زیر هر کدام برای (زوج = ز) و برای (فرد = ف) بنویسید.

۳۲ - ۳۴۷۰۵ - ۸۷۶ - ۵۵۴۳۲۱ - ۶۰۹ - ۸۹۷۳ - ۰ - ۸۸۴۵۳ - ۱۸ - ۶۷۵۴ - ۵۳۷

- مضرب های زوج ۷ را بنویسید.

- مضرب های فرد ۹ را بنویسید.

- ۲۴ مضرب چه اعدادی است؟

- ۵۴ مضرب چه اعداد زوجی است؟

اگر امیر از یک سمت صف کلاس مدرسه نفر ۱۸ و از سمت دیگر نفر ۱۵ باشد صف کلاس او چند دانش آموز

دارد؟