
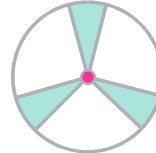
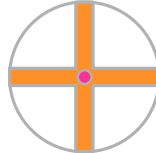
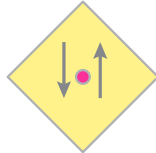
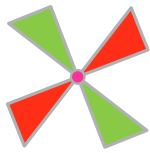
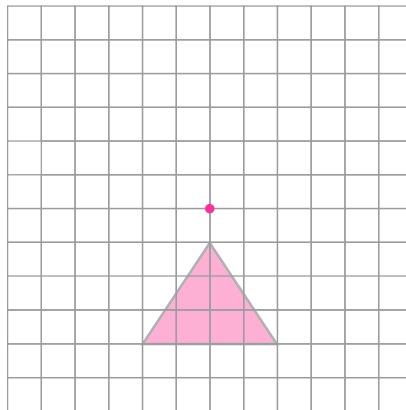


۲- مشخص کنید کدام یک از شکل‌های زیر دارای تقارن چرخشی نیست.



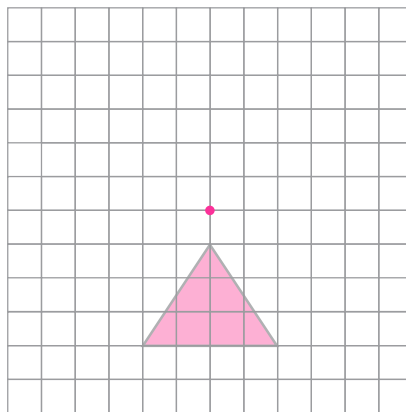
۳- با توجه به زاویه‌های داده شده، شکل را در جهت عقربه‌های ساعت، حول نقطه‌ی داده شده بچرخانید و سپس آن را رسم کنید.

الف) 90° درجه



الف

ب) 180° درجه



ب