

آشنایی با حکمت اسلامی	آشنایی با تغییر شیمیایی و فیزیکی و عوامل مؤثر بر آنها	تاریخ و نام خانوادگی
آشنایی با کالاهای وارداتی و صادراتی ایران	آشنایی با اندام حرکتی و شرایط لازم برای تشکیل فیصل	تاریخ
آشنایی با مفهوم امامت و درک و فهم معنای کلمات قرآنی	شناخت راههای مراقبت از چشم و گوش	نام آموزگار

ارمغان سنته - ششم دبستان

شماره‌ی

۲

نام و نام خانوادگی: تاریخ: نام آموزگار:

ریاضی < مرور سال گذشته

علوم < مرور سال گذشته

فارسی < مرور سال گذشته

مطالعات اجتماعی < مرور سال گذشته

هدیه‌های آسمان < مرور سال گذشته

قرآن < مرور سال گذشته

ریاضی

- ۱) حاصل ضرب زیر را به روش مساحتی به دست آورید.

$$1 + \frac{1}{3} + \frac{1}{3} + \frac{1}{3} + \frac{1}{3}$$

$$= 2 + (\frac{1}{3} + \frac{1}{3} + \frac{1}{3} + \frac{1}{3})$$

$$= 2 + \frac{4}{3} + \frac{4}{3} + \frac{4}{3} + \frac{4}{3} = 2 + \frac{16}{3} = 2 + 1 + \frac{3}{3}$$

$$= 3 + \frac{3}{3} = 3 + 1 = 4$$
- ۲) عدد $\frac{2}{5}$ عدد ۳۰۰ بیش تر است یا ۲۰٪ عدد ۴۰۰؟

عدد $\frac{2}{5}$ عدد ۳۰۰ بیشتر است.

$$\frac{2}{5} \times 400 = 160 \quad \frac{20}{100} \times 300 = 60$$
- ۳) در شکل‌های زیر، خط چین‌ها، نیم‌ساز می‌باشند. اندازه‌ی زاویه خواسته شده را بدست آورید.

(الف)

(ب)

۱۸۰ - ۴۰ = ۱۴۰

۱۸۰ - ۱۴۰ = ۴۰

۱۸۰ - ۷۰ = ۱۱۰

۱۱۰ - ۲ = ۱۰۸

۹۰ + ۳۰ = ۱۲۰

۱۸۰ - ۱۲۰ = ۶۰

۹۰ - ۲ = ۸۸

۶۰ + ۸۸ = ۱۴۸

۱۸۰ - ۱۴۸ = ۳۲

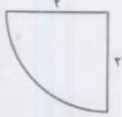
منبع مثلث + منبع مثلث + منبع دایره = محیط مثلث

منبع دایره + منبع دایره + منبع دایره = محیط دایره

محیط شکل‌های زیر را حساب کنید.

$(100 \times 3.14) \div 2 = 157$

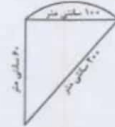
۱) $\text{منبع شلت} + \text{طول شلت} + \text{طول نیم دایره} = \text{محیط شلت}$
 $157 = (100 \times \frac{3}{4}) \div 2 + 2$



(الف)

محیط شلت: $157 + 2 + 2 = 161$

۲) $\text{منبع دایره} + \text{سایه دایره} + \text{طول دایره} = \text{محیط شلت}$
 محیط شکل‌های زیر را حساب کنید.



(ب)

محیط دایره: $(4 \times \frac{3}{4}) \div 4 = 3.14$

محیط شلت: $3.14 + 2 + 2 = 7.14$

۵) میانگین اعداد زیر را بدست آورید.

الف) $3.00/4, 9/6, 8/3, 7/7$ → میانگین $\frac{4 + 9 + 8 + 7}{4} = 7$

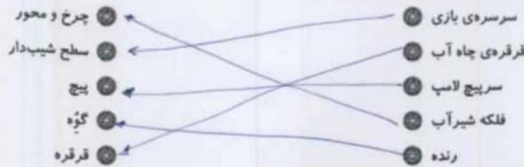
ب) $20, 18/5, 18, 19/5, 19$ → میانگین $\frac{20 + 18 + 18 + 19 + 19}{5} = 19$

علوم

۱) مراحل درک طعم غذا را در بدن به ترتیب توضیح دهید.

ابتدا ذرات غذا در دهان آب رطوبت (لایه) حل می‌شوند. سپس گیرنده‌های طعم زبان تحریک می‌شوند. کرم گیرنده باعث ایجاد پیام حسی می‌گردد. این پیام عصبی توسط عصب حسی به مغز انتقال می‌یابد و ما مزه غذا را می‌تعمیم.

۲) هر وسیله چه نوع ماشین ساده‌ای است؟ (وصل کنید)



۳) کدام عامل در نفوذپذیری خاک اثری ندارد؟

- ۱) فاصله‌ی ذرات خاک
- ۲) اندازه‌ی ذرات خاک
- ۳) جنس ذرات خاک
- ۴) فضای خالی بین ذرات

۴) شرایط لازم برای رشد یک دانه را نام ببرید.

آب مناسب - حرارت مناسب - خاک خوب و مناسب - نور کافی

فارسی

۱) جمله‌های نادرست را تشخیص داده و آن‌ها را به صورت درست بنویسید.

- الف) جمع مکسر (مساجد) واژه‌ی (مسجد) می‌باشد. ✓
- ب) در کلمات (داستان - تابستان - سوهان)، (ان) نشانه‌ی جمع است. نادرست ✓
- پ) پیام ضرب‌المثل (عقل سالم در بدن سالم است): هرگاه جسم سالم باشد فکر هم خوب کار می‌کند. ✓
- ت) شجاعت ترسیدن نیست، بلکه دور شدن از سختی‌ها است. نادرست ✓

۲) از میان گروه کلمه‌های زیر، غلط‌های املایی را به صورت صحیح بنویسید.

جنگ تهملی - عافت هنر - رسدخانه‌ی مراقه - اندوهگین - نحر اسید - سگان کشتی - قراز و نشیب

جنگ تهمیلی - عافت هنر - رسدخانه‌ی مراقه - اندوهگین - نحر اسید - سگان کشتی - قراز و نشیب

۳) کلمات هم خانواده را به هم وصل کنید.

فارسی

۱ جمله‌های نادرست را تشخیص داده و آن‌ها را به صورت درست بنویسید.

الف) جمع مکسر (مساجد) واژه‌ی (مسجد) می‌باشد. ✓

ب) در کلمات (داستان - تابستان - سوهان)، (ان) نشانه‌ی جمع است. نادرست

پ) پیام ضرب‌المثل (عقل سالم در بدن سالم است): هرگاه جسم سالم باشد فکر هم خوب کار می‌کند. ✓

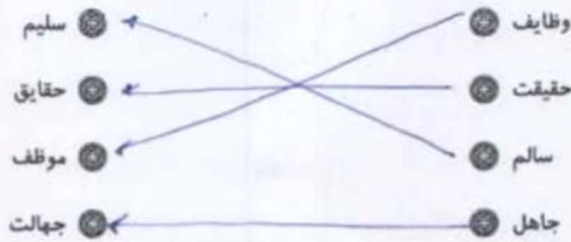
ت) شجاعت ترسیدن نیست، بلکه دور شدن از سختی‌ها است. نادرست

۲ از میان گروه کلمه‌های زیر، غلط‌های املائی را به صورت صحیح بنویسید.

«جنگ تمیلی - عافت هنر - رسدخانه‌ی مراقه - اندوهگین - نخراسید - سگان کشتی - فراز و نشیب»

جنگ تمیلی - عافت هنر - رسدخانه‌ی مراقه - اندوهگین - نخراسید - سگان کشتی - فراز و نشیب

۳ کلمات هم خانواده را به هم وصل کنید.



۴ با کلمات زیر یک بند بنویسید و برای آن یک عنوان انتخاب کنید.

«حوادث - تصمیم‌گیری - شجاعت - چاره‌جویی - تضمین»

بر نحوه‌ی دانش آموز

مطالعات اجتماعی

۱ وقتی با دیگران صحبت می‌کنیم، لازم است به چه نکاتی توجه کنیم؟

به سن و سواد نگاه کنیم - با صدای مناسب صحبت کنیم - منظور خودمان را بر سر زبان نیاوریم و واضح بیان کنیم - زمان مناسب برای حرف زدن انتخاب کنیم - از جملات مودبانه استفاده کنیم

۲ جملات درست را با و نادرست را با مشخص کنید.

الف) به پیروان ابومسلم، سیاه جامگان می گفتند.

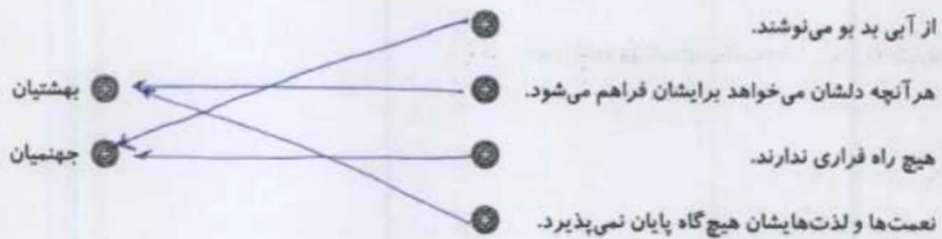
ب) یکی از کارهای مهم سلطان محمود، لشکر کشی به چین بود.

۳ اقیانوس های جهان را نام ببرید.

آرام - هند - منجیر سگلس - منجیر خندون - اطلس

هدیه های آسمان - قرآن

۱ مشخص کنید آیات زیر از مشخصات کدام گروه است؟ (وصل کنید).



۲ جملات درست را با و نادرست را با مشخص کنید.

الف) نماز جمعه یک خطبه دارد. در خطبه

ب) تمام مدت روز را بازی کردن یکی از کارهای اسراف است.

پ) حاکم عباسی، امام رضا (ع) را به شهر نجف فرستاد. خراسان

ت) چهره و رفتار امام مهدی (عج) به حضرت محمد (ص) شباهت دارد.

۳ این سخن از کیست؟

باید همدم و مونس شما قرآن باشد،

۴ امام حسین (ع)

۳ امام رضا (ع)

۲ حضرت محمد (ص)

۱ امام علی (ع)

	درک نکات زبان آموزی
	تشخیص شکل درست املاي کلمات
	نوشتن بند مناسب با استفاده از کلمات داده شده
	شناخت نکات صحبت کردن و اقیانوس جهان
	درک ویژگی بهشتیان و جهنمیان

	درک ضرب اعداد مخلوط به کمک روش مساحتی
	مهارت حل مسئله و بدست آوردن میانگین
	مهارت نحوه یافتن اندازه زاویه و محیط اشکال هندسی
	درک مراحل حس چشایی و شناخت ماشین ساده
	آشنایی با عوامل نفوذ پذیری خاک و رشد گیاه

شناختن شما

حبابی خوب
خوب
قابل قبول
تاریخ به نقاشی پیشتر