



نام و نام خانوادگی

موضوع:

تاریخ

هدف:

۱- تقسیمهای زیر را روی شکل نشان دهید.

$$\text{الف) } \frac{1}{3} \div \frac{2}{3} =$$

$$\text{ب) } \frac{2}{4} \div \frac{3}{4} =$$


$$\text{ج) } \frac{12}{3} \div \frac{3}{2} =$$

$$\text{د) } \frac{4}{2} \div \frac{1}{3} =$$

$$\text{ه) } \frac{4}{4} \div \frac{5}{4} =$$

$$\text{و) } \frac{9}{5} \div 1\frac{1}{5} =$$

$$\text{ز) } 5 \div \frac{1}{3} =$$



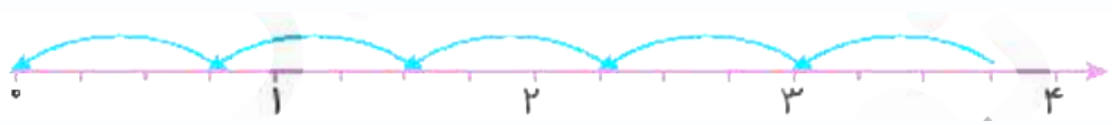
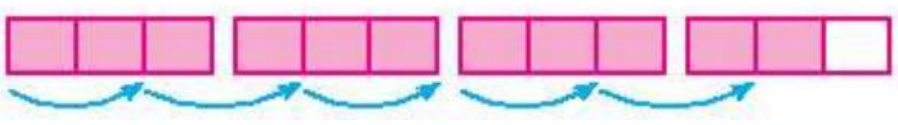
$$\text{ز) } \frac{2}{3} \div 5 =$$



نام و نام خانوادگی: _____ تاریخ: _____ موضوع: _____ هدف: _____

$$3 \div \frac{2}{3} =$$

۲- تقسیم مربوط به هر شکل را بنویسید.



۳- محمد $\frac{3}{5}$ کتابش را هفته گذشته و $\frac{1}{2}$ باقیمانده آن را این هفته خوانده است. اگر ۲۰ صفحه از

کتابش باقیمانده باشد. کتاب او چند صفحه است؟ (با رسم شکل)

۴- فاطمه نصف پولش را جامدادی خرید و $\frac{2}{3}$ باقیمانده را به خواهرش داد. اگر ۵۴۰۰ تومان برایش باقیمانده باشد. تمام پول فاطمه چند تومان بوده است؟

