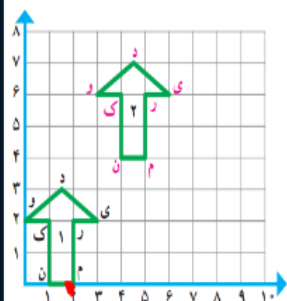


فعالیت

۱- مختصات رأس‌های شکل ۱ و شکل ۲ را بنویسید.



شکل ۱: $n = \begin{bmatrix} 1 \\ 0 \end{bmatrix}$ $m = \begin{bmatrix} 1 \\ 1 \end{bmatrix}$ $r = \begin{bmatrix} 1 \\ 1 \end{bmatrix}$ $y = \begin{bmatrix} 1 \\ 1 \end{bmatrix}$

$d = \begin{bmatrix} 1 \\ 1 \end{bmatrix}$ $و = \begin{bmatrix} 1 \\ 1 \end{bmatrix}$ $ک = \begin{bmatrix} 1 \\ 1 \end{bmatrix}$

شکل ۲: $n = \begin{bmatrix} 4 \\ 4 \end{bmatrix}$ $m = \begin{bmatrix} 1 \\ 1 \end{bmatrix}$ $r = \begin{bmatrix} 1 \\ 1 \end{bmatrix}$ $y = \begin{bmatrix} 1 \\ 1 \end{bmatrix}$

$d = \begin{bmatrix} 1 \\ 1 \end{bmatrix}$ $و = \begin{bmatrix} 1 \\ 1 \end{bmatrix}$ $ک = \begin{bmatrix} 1 \\ 1 \end{bmatrix}$

غلامی، هیما ۱۰:۲۹
دسترسی
خاتم

کنعانیان، نهال ۱۰:۲۹
روشنا به خاتم گفتیم گفت باید
دوربینو بر

غلامی، هیما ۱۰:۲۹
دسترسی بدین

محمدزمانیها، روشنا ۱۰:۲۹
مرسی

مهدی نژاد، هلیا ۱۰:۳۰
مرسی زهرا

عسکری زاده، آرینا ۱۰:۳۱
خواهش شما

رنجبر، زهرا ۱۰:۳۱
خواهش

فرستادن پیام به گفت‌وگوی همگانی

گفت‌وگوی همگانی...

رنجبر، زهرا ۱

یادداشت‌های...

صالحی، ر...

عسکری ز...

غلامی، ه...

قربانی، س...

قلندریان، ژ...

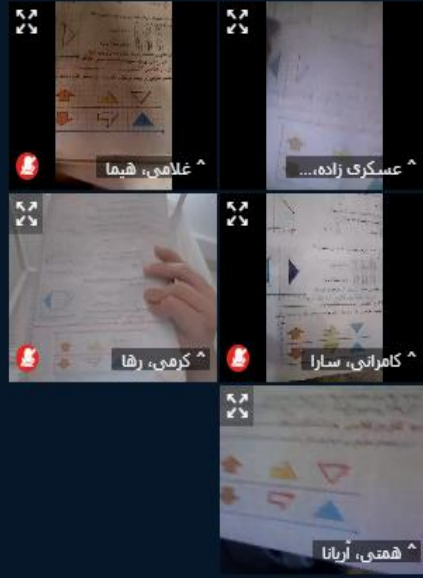
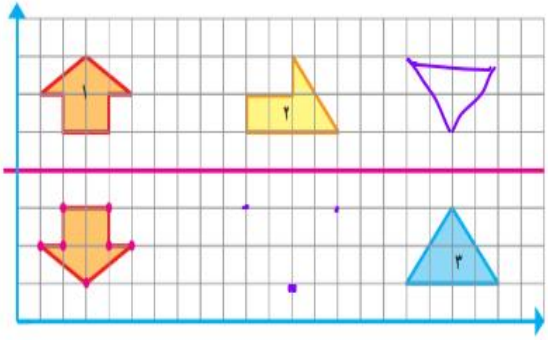
کامرانی، ...

4 کن کن کن کن

دست‌های بالا برده شده
کرمی، زهار، کنعانیان، نهال، حیدری زاده، پامیدا و
+1 اجازه گرفتند

کار در کلاس

۱- در صفحه‌ی شطرنجی زیر، قرینه‌ی هر شکل را مانند نمونه نسبت به محور تقارن داده شده رسم کنید



Vertical toolbar with icons for eraser, undo, redo, and other drawing tools.

Bottom navigation bar with icons for hand, zoom, chat, and other controls.

- مح محمدرزمانیها، روشنا
اختری طفلکی
- نج نجفی، نیروانا ۹:۲۹
- مه مهدی نژاد، هلیا ۹:۲۹
واژه روشنا
- کن کنعانیان، نهال ۹:۲۹
بچه ها دستاتونو برید بالا چون
خانم اونایی که دستاتون بالاست
و میگه
- مح محمدرزمانیها، روشنا ۹:۲۹
ومتی که فردا نیستم و امروز دارم
میرم لیلیلیلیلی
- نج نجفی، نیروانا ۹:۲۹
خوش به حالت که به آرزون
رسیدی
- کن کنعانیان، نهال ۹:۲۹
امروز میری

فرستادن پیام به گفت‌وگوی همگانی

Right sidebar with icons for chat, documents, and other features.



حیدری زاده، پارهیدا

منشیا، فائزه



مهدی نژاد، هلیا ۱۳:۲۰
نہال از دست تو ☹️

سامانه‌ی همایش مجازی
مؤسسه‌ی علوی

Alavi IT Center

کن کنعانیان، نہال ۱۳:۲۰
ههههههه

کن کنعانیان، نہال ۱۳:۲۰
ارام باش اریانا
ههههه

عس عسگری زاده، آرینا ۱۴:۲۱
برای چی؟ آرام باشه

عس عسگری زاده، آرینا ۱۳:۲۳
نہال

سل سلطان زاده، سلدا ۱۴:۲۳
اریانا را می گه

فرستادن پیام به گفت‌وگوی
همگانی

- پیام‌ها
- گفت‌وگوی ه...
- بادداشت‌ها
- بادداشت‌های...
- کاربران (18)
- من من... (شما)
- به بهرامیان، ...
تلفن‌همراه
- بل بلویی، بنینا
تلفن‌همراه
- جو جوانی، س...
- حی حیدری زاد...
- رن رنجبر، زهرا
تلفن‌همراه
- سل سلطان زا...
- صا صالحی، ر...

۲- الف) مختصات نقطه‌های «ا» و «ب» را بنویسید.

$$ب = \begin{bmatrix} 2 \\ 3 \end{bmatrix}$$

$$ا = \begin{bmatrix} 2 \\ 3 \end{bmatrix}$$

ب) قرینه‌ی پاره‌خط «اب» را نسبت به خط‌تقارن رسم کنید.

پ) مختصات قرینه‌ی نقطه‌های «ا» و «ب» را بنویسید.

$$\text{قرینه‌ی ا} = \begin{bmatrix} \quad \\ \quad \end{bmatrix}$$

$$\text{قرینه‌ی ب} = \begin{bmatrix} \quad \\ \quad \end{bmatrix}$$

اسلاید 16

- تقارن
- کن کنعانیان، نهال ۹:۰۸
عمودی
- حی حیدری زاده، پرمیدا ۹:۰۸
صفحه ی ۸۰
- غل غلامی، هیما ۹:۰۸
خانم من رفتم بیرون دسترسی میخوام
- غل غلامی، هیما ۹:۰۸
خانمممم دسترسی
- نج نجفی، نیروانا ۹:۱۱
زیرا...
- رن رنجبر، زهرا ۹:۱۲
2 نفر غایب
- کن کنعانیان، نهال ۹:۱۴
اره
- فرستادن پیام به گفت‌وگوی همگانی
- پیام‌ها
- گفت‌وگوی همگانی...
- یادداشت‌ها
- یادداشت‌های...
- کاربران (20)
- غل غلامی، هیما
تلفن‌شماره
- قر قریانی، س...
تلفن‌شماره
- کا کامرانی، ...
تلفن‌شماره
- کر کریمی، رها
- کن کنعانیان، نه...
- مش مشهدی ت...
تلفن‌شماره
- مه مهدی نژاد...
تلفن‌شماره
- نج نجفی، نیر...
تلفن‌شماره



منشا، خانم

هفتی، آریانا



گفتگوی همگانی

علوی

پیامها

گفتگو 7

یادداشتها

یادداشتها

کاربران (19)

رنجبر، رهرا

سلطان، رب

صالحی، رب

عسگری، رب

علی، غلامی، رب

فریادی، رب

کاربری، رب

عسگری زاده، آریانا
به خانم میگم
خواهش

محمدرمانیها، روشیا
داد

رنجبر، رهرا/عمه حسن
آریانا اگر مدارس باز شه میوم
مناسقه

محمدرمانیها، روشیا
زهرا واقعا

محمدرمانیها، روشیا
اگه اینطوری که خانوم درس جدید
شدن من منومه نام

بلویی، بسنا
دانشمنی

بلویی، بسنا
خانم کارتون داریم

پیامهای بیشتر



فعالیت

$$A = \begin{bmatrix} \\ \\ \end{bmatrix}$$

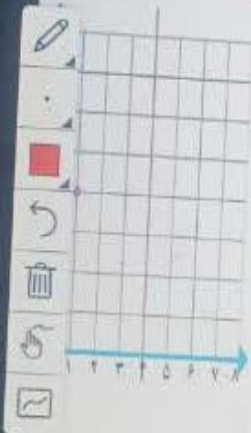
الف) مختصات نقطه‌ی «ا» را بنویسید.

ب) قرینه‌ی نقطه‌ی «ا» را نسبت به محور تقارن قرمز پیدا کنید.

$$B = \begin{bmatrix} \\ \\ \end{bmatrix}$$

ب) مختصات قرینه‌ی نقطه‌ی «ا» را بنویسید.

ت) چه رابطه‌ای بین مختصات نقطه‌ی «ا» و مختصات قرینه‌ی نقطه‌ی «ا» وجود دارد؟ توضیح دهید.



گفتگوی همگانی

همه بصلوات

کرمی، رها ۹:۰۵
من پیام

عسکری زاده، آریبا ۹:۰۵
توالت تو هم میخواهی بری؟

عسکری زاده، آریبا ۹:۰۵
مساافت

محمدزمانیها، روسیا ۹:۰۵
ازع فکر کم

عسکری زاده، آریبا ۹:۰۵
اوه

کتابیان، نهال ۹:۰۵
شایه تعذروم

عسکری زاده، آریبا ۹:۰۵
ای

زنجیر، رهرا ۹:۰۵
شوا خیلی لوده است

فروانی، ...
توالت شایه

فروانی، ...
فروانی، ...

منشیا، فارهه



بهرامیان، فاطمه

گفتگوهای همگانی

علوی

- عسکری زاده، آریانا
به خاتم میگم خواهش
- محمدزمانیها، روسیا
داد
- ریحتمهر، رهرا (عدم حضور)
آریانا اگر مدارس باوشه عزیزم تسلیه
- محمدزمانیها، روسیا
رضا واقعا
- محمدزمانیها، روسیا
آگه اینطوری که خاتم درس جدید نمیده من متوهم نیام
- تلوی، بینا
دست زدن
- تلوی، بینا
خاتم کارتون دارم
- کنعانیان، نهال
واقعا؟

فرستادن نامه به گفتگوهای همگانی

902.6426.ir/html5client/join?sessionToken=ibdoetvpi7xyvc6j

مطالعات اجتماعی ششم (خاتم منشا) | 1403/10/23 | 13:00 تا 13:45

منشیا، فخره | کامران، سارا



کامران، سارا

گفتگوی همگانی

علوی

بنامها

- گفتگوی ه
- بادداستها
- بادداستها
- کاربران (17)
- هن (هن)
- بهراسان
- بلو، سینا
- جوانی
- حیدری زاده
- رن
- صالحی، ر
- عسگری ر

دستورسی

- صالحی، روزینا
- صالحی، روزینا
- صالحی، روزینا
- عسگری زاده، آریانا
- عسگری زاده، آریانا
- همنی، آریانا
- محمدرزائیها، روزینا