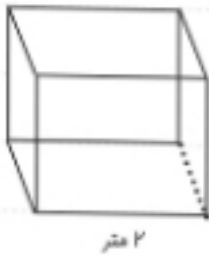
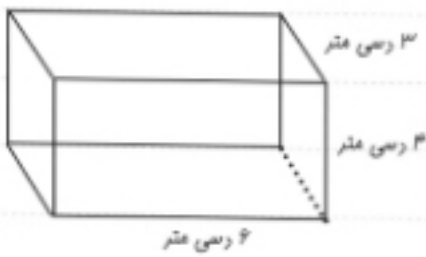


۱- مساحت و حجم مکعب های زیر را بدست آورید.



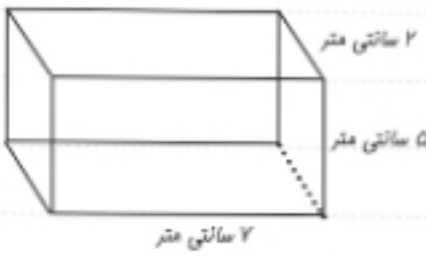
= مساحت

= حجم



= مساحت

= حجم



= مساحت

= حجم

۱۱- مساحت هرم های زیر را به دست بیاورید.

