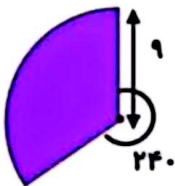

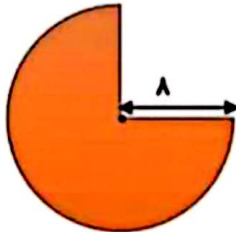
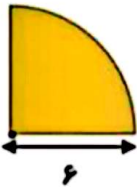
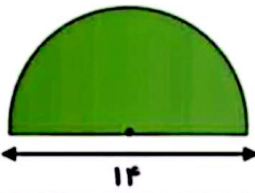
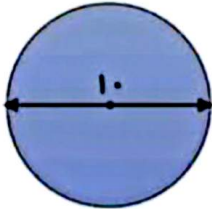




فصل پنجم ریاضی

ردیف

توجه: در اشکال زیر عدد پی را (۳) در نظر بگیرید. (واحد ها را سائتی متر فرض می کنیم)



مساحت قسمت های رنگی

