



ارمغان هفته - ششم دبستان


نام و نام خانوادگی: تاریخ: نام آموزگار:

مطالعات اجتماعی < نوز
هدیه‌های آسمان < نوز
قرآن < نوز

ریاضی < نوز
علوم < نوز
فارسی < نوز

ریاضی

۱) روش به دست آوردن مساحت قسمت رنگی شکل‌های سمت چپ را به راه‌حلش در سمت راست متصل کنید.

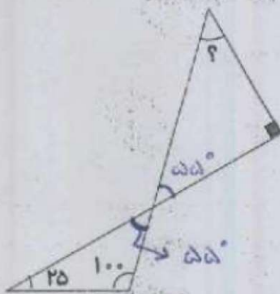


۲) کسرهای داده شده زیر را به دو صورت اعشاری و درصد نمایش دهید.

$$\frac{34}{50} = \begin{array}{|l} \xrightarrow{\text{اعشاری}} \dots\dots\dots 0,68 \dots\dots\dots \\ \xrightarrow{\text{درصد}} \dots\dots\dots 68\% \dots\dots\dots \end{array}$$

$$\frac{13}{8} = \begin{array}{|l} \xrightarrow{\text{اعشاری}} \dots\dots\dots 1,625 \dots\dots\dots \\ \xrightarrow{\text{درصد}} \dots\dots\dots 162,5\% \dots\dots\dots \end{array}$$

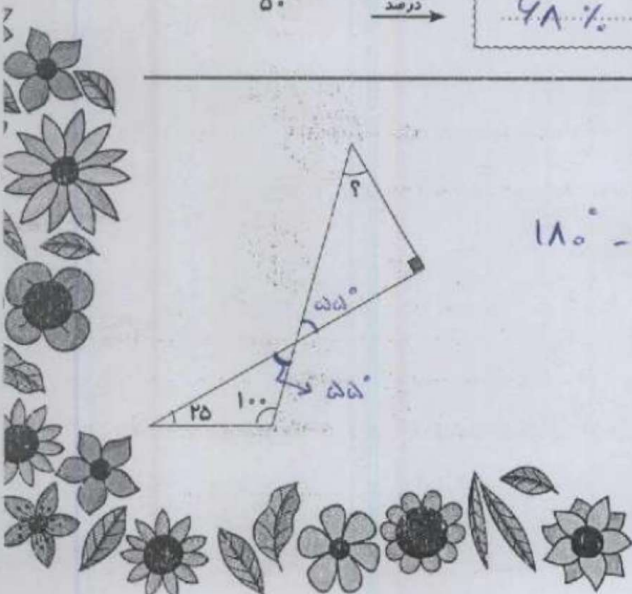
۳) در شکل زیر اندازه‌ی زاویه‌ی خواسته شده چند درجه است؟



$$180^\circ - (90^\circ + 55^\circ) = 35^\circ$$

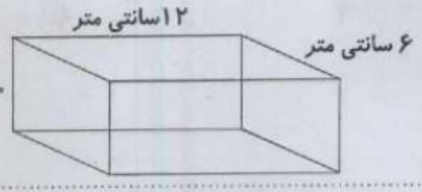
- ۱) ۲۵ درجه
- ۲) ۳۵ درجه ✓
- ۳) ۴۵ درجه
- ۴) ۵۵ درجه

۱





۴ گنجایش مکعب زیر چند لیتر و چند سی سی است؟



سانتی متر مکعب (سی سی) $12 \times 6 \times 10 = 720$
لیتر $720 : 1000 = 0.72$

۵ با یک قطعه سیم $3/2$ سانتی متری یک مربع درست کردیم. اگر با همان سیم یک مستطیل به عرض $0/35$ سانتی متر درست کنیم، طول مستطیل چند سانتی متر از ضلع مربع بزرگ تر می شود؟

- ۱/۳۵ (۱)
- ۰/۴ (۲)
- ✓ ۰/۴۵ (۳)
- ۱/۳۵ (۴)

علوم

۱ جاهای خالی را با کلمه‌ی مناسب پر کنید.

الف) گاز کلر و آب ژاول یا وایتکس... نیز مانند آب (نیریز) رنگ بر سفیدکننده هستند.
 ب) چمنگیر... از زیر سنگ کره شروع می شود و تا عمق 350 کیلومتری ادامه دارد.
 پ) برای اندازه گیری جرم اجسام از ترازو... استفاده می شود.
 ت) به هواپیمای در حال حرکت علاوه بر نیروی جاذبه و نیروی مقاومت هوا، نیرویی رو به بالایی نیز دارد، که به آن نیروی بالا برک... گفته می شود.

۲ روز ۱۳ فروردین ماه (سیزده بدر) به نام روز طبیعت نام گذاری شده است.

فهرستی از رفتارهای ناسالم خود و دیگران را در این روز بنویسید و راه حل هایی برای عدم تکرار این رفتارها ارائه دهید.

زیاده کاری خود را در مستراح رها نکنم... در محل دیگران دخالت نکنم... آب سرد نخورم... خود لباس های زیاده پوشانم... دستم به سبزه و سای نباشم... بر چمن بم پاشم... خود دارم... نفس نکشیم... و آب سرد نخورم... لباس زیاده نپوشم...

۳ علیرضا (دانش آموز پایه ششم) به همراه خانواده اش به جنگل های استان گلستان رفته است بر روی تنه ی درختان جنگلی قارچ هایی به شکل زیر دیده اند:




شما فکر می کنید علیرضا چه توضیحاتی در مورد این جاندار به خانواده ی خود داده است؟
 قارچ هایی که روی تنه درخت پایه جنگل... جانوران در جنگل زیاده نخورند...
 با تجزیه آن ها به بهره و تغذیه حالت جنگل را کنند...

فارسی

۱ مفهوم ضرب المثل «سالی که نکوست از بهارش پیداست» را در دو سطر بنویسید.

شروع هر کاری بمیان بهار پایان آن کار است... مواقف گفته می شود که نتیجه کارها از ارز بسی باید باشد...





داستان زیر از کتاب گلستان سعدی انتخاب شده است، آن را بخوانید و علائم نگارشی مناسب برای آن بگذارید.

در زمان‌های قدیم پادشاهی بود که دو وزیر داشت (۵) یکی مهربان و خوش‌زبان (۶) دیگری بدجنس و بدزبان (۷) وزیر بدجنس همیشه به وزیر مهربان حسادت می‌کرد و می‌خواست او را پیش پادشاه بد نشان بدهد (۸) یک روز اسیری را که پادشاه قصد مجازات او را داشت نزد پادشاه آوردند (۹) اسیر در حالت ناامیدی، پادشاه را دشنام داد (۱۰) پادشاه از وزیر مهربان پرسید این مرد چه می‌گوید (۱۱) او گفت (۱۲) او شما را دعا کرده و می‌گوید پادشاه از خطای مردم می‌گذرد پادشاه از شنیدن این خبر خوشحال شد و اسیر را آزاد کرد (۱۳) وزیر بدجنس نزد پادشاه رفت و گفت: آن مرد شما را دشنام داده چرا او را آزاد کردید (۱۴) پادشاه گفت (۱۵) با این که وزیر راستش را نگفت ولی با این کار باعث نجات جان یک نفر شد (۱۶) ولی راست گفتن تو به علت حسادت بود (۱۷) سپس به وزیر مهربان پادشاه داد و وزیر بدجنس و حسود را از کاخ خود بیرون کرد (۱۸)

خاطره‌ی یک روز شاد از دید و بازدید، سفر یا ... در تعطیلات عید را به صورت انشا یا تهیه‌ی کتاب داستان ارائه دهید.

به تجربه‌ی دانش آموز

از کتاب فارسی، ده کلمه انتخاب کنید که به محیط زیست، مربوط باشد.

بوم درختان، سنبل، مرغزار، سبزه‌زار، درخت، دریا، رود، کوه، حیات وحش، کتاب، قصه، بازی.

مطالعات اجتماعی

۱) می‌دانیم که در کابل و مرزهای شمال افغانستان و برخی شهرهای پاکستان در هنگام نوروز چیدن سفره‌ی هفت میوه، رواج دارد.



تحقیق کنید و به سؤالات زیر پاسخ دهید.

الف) در روی این سفره‌ها چه میوه‌هایی می‌چینند؟

سندباد
در داخل هفت میوه: سبزه، درو، بادام، سیب، زردآلو، قهوه، انگور

ب) کدام کشور همسایه سال رسمی را با نوروز آغاز می‌کند؟

افغانستان

پ) در کدام کشور نوروز، «عالم افروز» نام گرفته است؟


ایران

ت) در کدام کشور در هنگام نوروز مراسم ورزشی و طبیعت‌گردی رایج است؟

ترکمنستان

ث) به جز کشورهای همسایه به تازگی در کشور دیگر عید نوروز را جشن می‌گیرند. بپرسید و بنویسید کدام کشور است؟

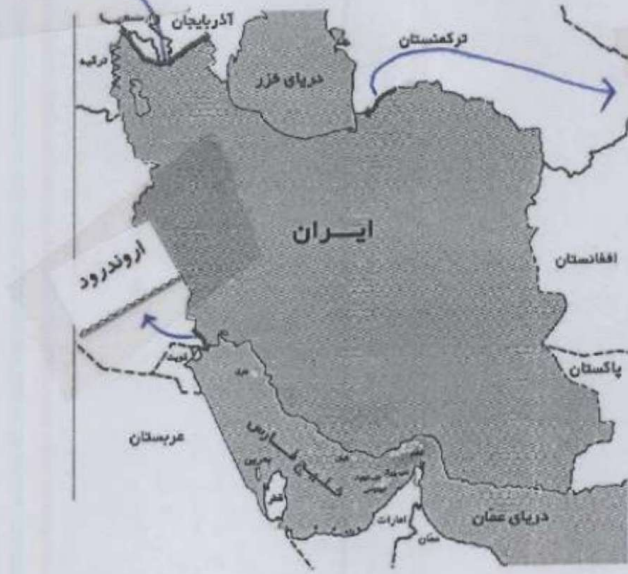
مربوطی از مردم شمال استرالیا





ارس

۲ روی نقشه، برچسب نام رودهای مرزی را در مکان مناسب خود بچسبانید.



اترک

اروند رود

هدیه های آسمان - قرآن

۱ نام سوره هایی از قرآن که با حروف «سین، یا صاد» شروع شده اند را بنویسید. (چهار مورد)

سوره صافات - نور - حده - معارج

۲ فکر کن در یکی از روزهای عید نوروز به همراه خانواده به زیارت امامزاده ای می روی:



در آن مکان مقدس چه آدابی انجام می دهید؟

با وضو یا سیم - با احتیاط وارد حرم شریف

یک خط از اول زیارت نامه ی ایشان را بنویسید.

بسم الله الرحمن الرحیم

درباره ی زندگی نامه ی ایشان تحقیق کنید و در دو سطر بنویسید.

بسم الله الرحمن الرحیم

- مفهوم ضرب المثل
- علائم نگارشی
- آشنایی با رسم نوروز در کشور همسایه
- آشنایی با آداب زیارت
- سوره های قرآنی که با حروف «س، یا» شروع می شوند.

- محاسبه مساحت اشکال هندسی
- تبدیل اعداد اعشاری به درصد
- محاسبه زاویه و گنجایش مکعب مستطیل
- آشنایی نیروی بالا بری و مواد رنگبر در کارخانه کاغذسازی
- آداب و رسوم در روز طبیعت

شاخص ها

- جای خوب
- خوب
- قابل قبول
- نیاز به تلاش بیشتر

