

موضوع: سری ۲ سوالات ریاضی عید پایه ششم

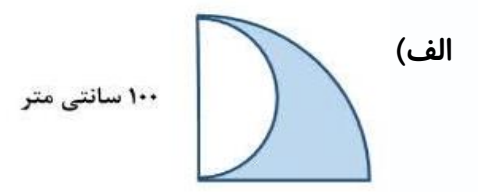
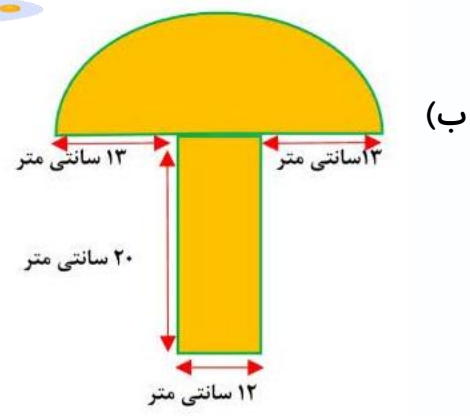
تاریخ

نام و نام خانوادگی

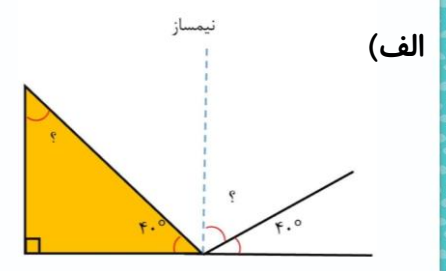
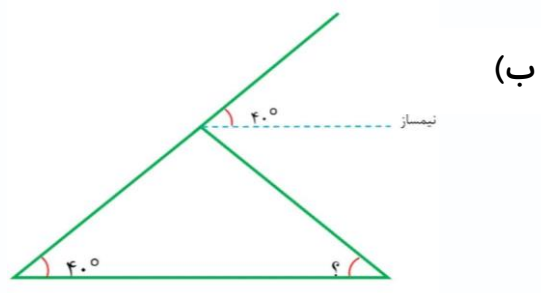
هدف:



۱\_ در هر شکل مساحت قسمت رنگی را به دست آورید.



۲\_ در شکل های زیر زاویه های خواسته شده را حساب کنید.



۳\_ الگویی رسم کنید که رابطه بین تعداد شکل ها و شماره ی شکل های آن به صورت زیر باشد.

تعداد شکل ها =  $(۴ \times \text{شماره شکل}) + ۱$

۴\_ پدری هر ماه  $\frac{1}{5}$  درآمدش را بین ۴ فرزند خودش تقسیم می کند. به هر فرزندش چه کسری از درآمد پدر می رسد؟

می رسد؟ 

۵\_ حاصل عبارات زیر را به دست آورید.

$۱۲ - ۰ / ۰۲ \times (۵ / ۱۷ - ۲ / ۳) =$



موضوع: سری ۲ سوالات علوم عید پایه ششم

تاریخ

نام و نام خانوادگی

هدف:



۱\_ جدول زیر را کامل کنید.

| ضررهای آتشفشان | فواید آتشفشان |
|----------------|---------------|
|                |               |
|                |               |

۲\_ برای جلوگیری از قطع بیش تر درختان جنگل برای ساخت کاغذ، چه کار باید کرد؟ (۲ مورد)



۳\_ پس از وقوع زمین لرزه چه نکات ایمنی را باید رعایت کنیم؟ (۲ مورد)



۴\_ نمودار را کامل کنید.

..... سرکه ← رنگ کاغذ PH را ..... می کند.

انواع اسید

..... رنگ کاغذ PH را ..... می کند.

۵\_ جاهای خالی را با کلمات مناسب پر کنید.

(الف) به فرضیه ثابت شده ..... می گویند.

(ب) فرضیه ها حتما باید ..... و ..... باشند.



نام و نام خانوادگی

تاریخ

موضوع: سری ۲ سوالات فارسی عید پایه ششم

هدف:



۱\_ ارزش و عظمت لغت نامه ی دهخدا را با چه کتابی برابر نهاده اند؟

- الف) مثنوی معنوی مولانا
- ب) بوستان سعد
- پ) شاهنامه فردوسی

۲\_ جاهای خالی را با کلمات مناسب پر کنید.

- الف) ..... به شعری گفته می شود که در آن دو مصراع هر بیت، هم قافیه هستند.
- ب) به غزل، قصیده، ..... شعر می گویند.

۳\_ شعر زیر را تکمیل کنید.

الف) اگر آن سبز قامت رو نماید  
.....

ب) .....  
می برد شام یتیمان عرب

۴\_ کتاب « اسرارنامه » اثر کیست؟



۵\_ دو بند در مورد یکی از نعمت هایی که خداوند به شما عطا کرده است بنویسید.

