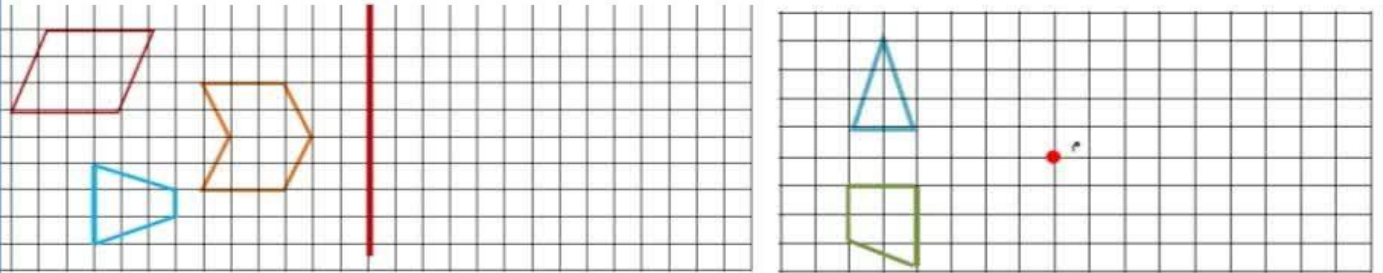


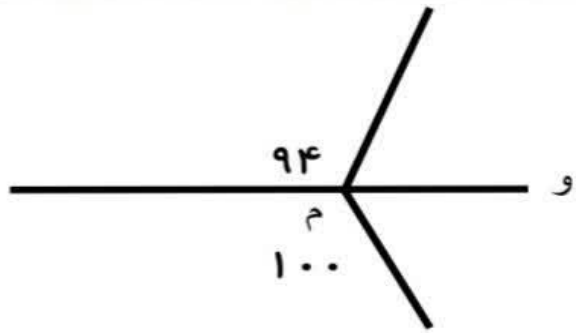
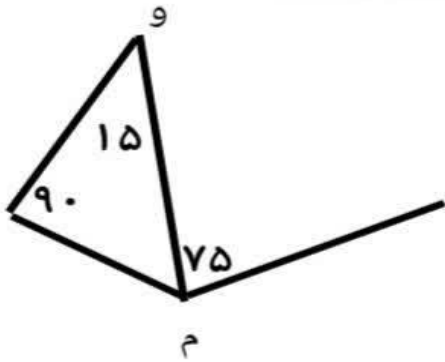


نام و نام خانوادگی: _____ تاریخ: _____ موضوع: _____ هدف: _____

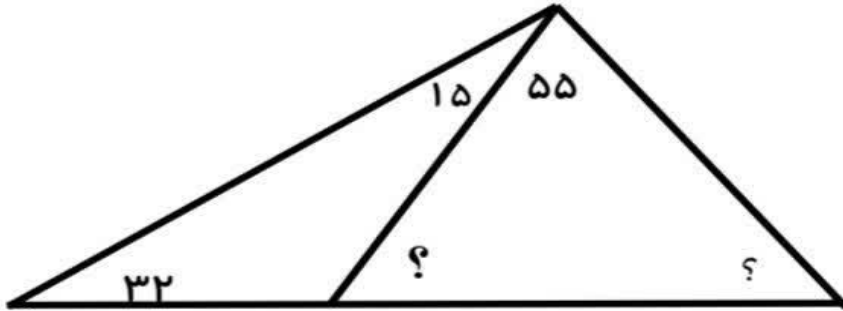
قرینه هر شکل را نسبت به خط تقارن یا نقطه تقارن رسم کنید.



در کدام یک از شکل های نیم خط (م و و) نیم ساز زاویه (م) است .



در این شکل زوایای خواسته شده را محاسبه کنید.



کدام دسته میتواند زوایای داخلی مثلث باشد

ب) ۶۰، ۹۰، ۵۰

الف) ۷۰، ۶۰، ۳۰

د) ۱۰۹، ۵۱، ۱۶

ج) ۹۰، ۶۳، ۲۷

