



موضوع: سری ۳ سوالات ریاضی عید پایه ششم

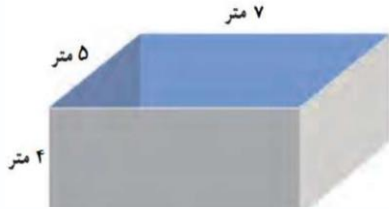
تاریخ

نام و نام خانوادگی

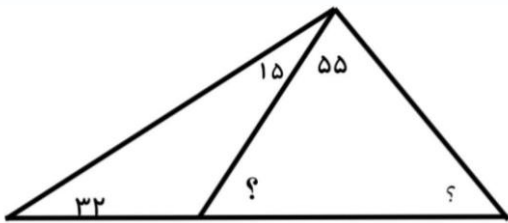
هدف:



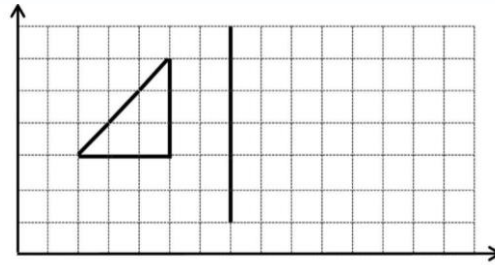
۱ \_ حوضی به شکل زیر داریم. برای پر شدن آن، چند لیتر آب لازم داریم؟



۲ \_ در این شکل زوایای خواسته شده را محاسبه کنید.




۳ \_ قرینه شکل زیر را نسبت به خط داده شده رسم کنید و مشخصات رئوس شکل قرینه را بنویسید.




۴ \_ عدد های زیر را به صورت اعشاری بنویسید.

الف)  $\frac{4}{80}$  ۳



ب)  $\frac{5}{200}$



۵ \_ درستی و نادرستی جملات زیر را مشخص کنید.

○ سومین مضرب عدد ۹، عدد ۲۷ است.

○ مجموع دو عدد فرد همواره عددی فرد است.

○ عدد ۷۲۱ بر ۲ بخش پذیر است زیرا مجموع ارقامش بر ۲ بخش پذیر است.

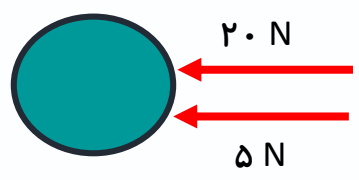
نام و نام خانوادگی

تاریخ

موضوع: سری ۳ سوالات علوم عید پایه ششم

هدف:

۱\_ برآیند نیروها را در شکل زیر حساب کنید.



[Red dashed box for calculation]

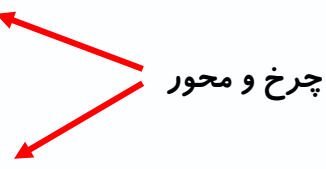
۲\_ انواع نیروها را نام ببرید و برای هر کدام یک مثال بنویسید.

[Green dashed box for answer]

۳\_ جاهای خالی را کامل کنید.

الف : ..... مثل : .....

الف : ..... مثل : .....



۴\_ تبدیلات انرژی را در هر شکل بنویسید.



.....

.....

.....

۵\_ هنگام زمستان برای کاهش لغزندگی سطح معابر چه کارهایی باید انجام داد؟ ( ۲مورد)

[Red dashed box for answer]



موضوع: سری ۳ سوالات فارسی عید پایه ششم

تاریخ

نام و نام خانوادگی

هدف:



۱ \_ مترادف کلمات زیر را بنویسید.

الف) نغمه : ..... ب) کمند : ..... پ) نهراسیم : ..... ت) گردون: .....

۲ \_ جدول را کامل کنید.

|                    |                   |
|--------------------|-------------------|
| ..... یعنی .....   | (۱) همی + رفت =   |
| همی روم یعنی ..... | (۲) همی + ..... = |

۳ \_ جملات زیر را به نثر ساده بنویسید.

الف) دوستی ایشان به مردمی و احسان، تازه دار .

ب) تدبیر ده تنه چون زور ده مرده باشد .

۴ \_ کلمه ی زیر را به چیزی مناسب تشبیه کنید و در جمله ای به کار ببرید.

خانه ام همانند .....

۵ \_ شاعر در بیت زیر در بیان چه چیزی مبالغه کرده است؟

فروریخت چون رود، خون از برش

بزد تیغ و بنداخت از بر، سرش

.....

